



第2单元 6~10的认识和加、减法



3. 10的认识和加、减法

第2课时 10的加、减法

一年级数学上册 (RJ)



学习单 同步作业课件


【学习目标】

我能正确计算 10 的加、减法，并解决相关的问题。

zhāi pú tao

【自主探究】摘葡萄！

任务1：看图写算式。



$$3 + \square = \square$$

$$10 - \square = \square$$

$$\square + \square = \square$$

$$10 - \square = \square$$

 巩固单

xiǎng yi xiǎng tián yi tián

1. 想一想，填一填。 [★]

$$\begin{array}{c} 4 \quad \square \\ \diagdown \quad \diagup \\ 10 \end{array}$$

$$4 + \square = 10$$

$$10 - \square = \square$$

$$10 - \square = \square$$

$$\begin{array}{c} \square \quad 7 \\ \diagdown \quad \diagup \\ 10 \end{array}$$

$$\square + 7 = \square$$

$$\square - \square = \square$$

$$\square - \square = \square$$

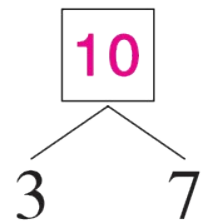
任务2：你是怎样计算的？和同伴说一说吧！



我用●摆一摆。



我利用数的组成，



任务3：根据 $\begin{array}{c} 10 \\ \swarrow \quad \searrow \\ 8 \quad 2 \end{array}$ ，你能写出一道加法算式和两道减法算式吗？

$$\square + \square = \square$$

$$10 - \square = \square$$

$$10 - \square = \square$$

suàn yì suàn

2. 算一算。 [★ ★]

$10 - 3 =$

$10 - 5 =$

$5 + 5 =$

$10 - 8 =$

$10 - 9 =$

$1 + 9 =$

$10 - 0 =$

$0 + 5 =$

kàn tú jiǎng shù xué gù shi bìng jiě jué wèn tí

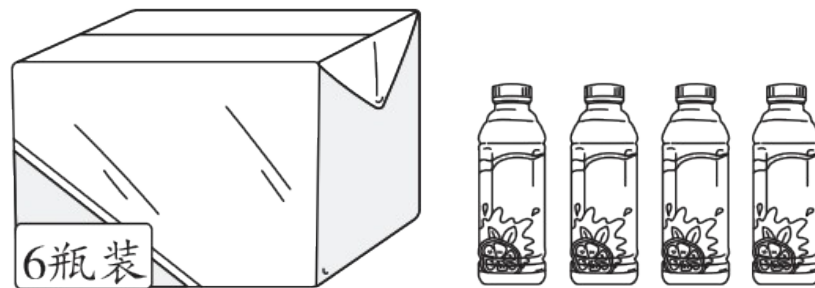
3. 看图讲数学故事，并解决问题。 [★★★]

(1) 一共有10只。



$$\square \bigcirc \square = \square \text{ (只)}$$

(2)




一共有多少瓶?

$$\square \bigcirc \square = \square \text{ (瓶)}$$

zěn yàng fēn cái néng shǐ qiāo qiāo bǎn píng héng měi gè shù zhǐ néng yòng yí cì
 4. 怎样分才能使跷跷板平衡？（每个数只能用一次）

[★★★]





学习用优翼 越来越优异

优翼产品与服务
历年中小学生学习人次 **3 亿 +**

优翼网教学资源
每年服务师生人次 **3000 万 +**

年举办公益
教研活动场次 **300+**



· 学练优 | 新领程 | 涂重点 | 优翼网 教学资源服务平台

www.youyi100.com



优翼品牌代言人



学习用优翼 越来越优异

优翼教学工具书（小学系列）“3+n”选购指南：

教材笔记 1 本、同步练习 1 本、检测试卷 1 本 + 专项提升 n 本

教材笔记：新领程·涂重点 甘橙语文笔记

同步练习：学练优 新领程 学习单（素养导向的大单元作业）

检测试卷：优干线 真题新卷

假期作业：暑假衔接 寒假衔接

小学总复习：极速提分 系统强化训练 小总冲刺卷 全真模拟卷

字帖系列：四步法写字 写字高手 静心字帖……

语文专项：看图写话 同步作文 默写大通关 阅读与积累 五步法作文 情境化串联古诗词 趣味拼音拼读

数学专项：必考口算应用题 同步口算 口算天天练 模型图解应用题

英语专项：拼读法速记单词 趣味速记音标



优翼品牌代言人



关注“优翼丛书”小程序

更多优质好课等你来



更多教学资源，敬请关注 www.youyi100.com