



第三单元核心素养闯关

一年级数学下册 (RJ)



wǒ huì tián

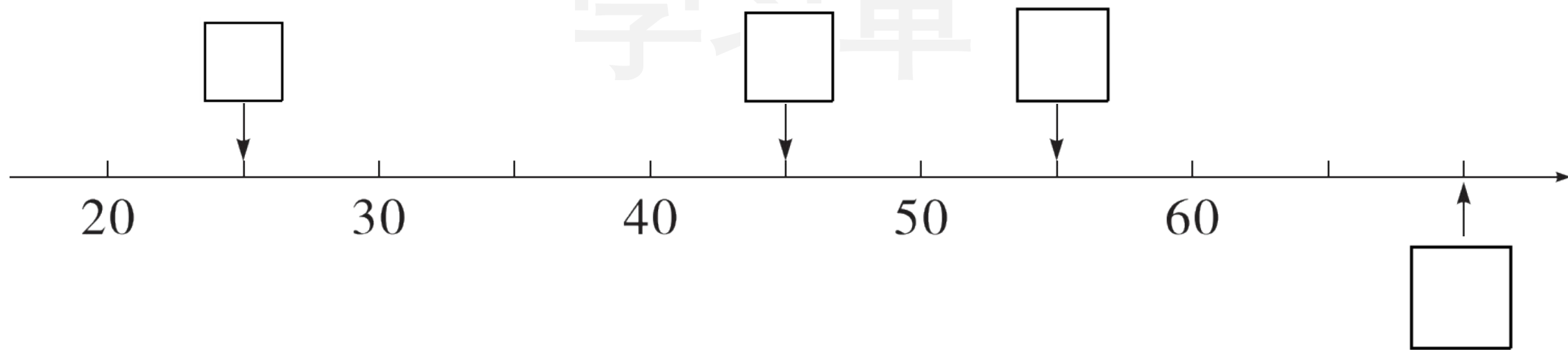
第一关 我会填。(每空1☆,共29☆)

1. 从右边起,第一位是()位,第二位是()位,第三位是()位。
2. 84 里面有()个十和()个一;100 里面有()个十。
3. 一个两位数,十位上的数字是3,个位上的数字是9,这个数是()。与它相邻的两个数是()和()。

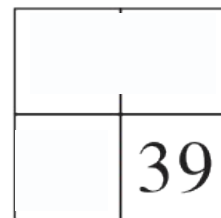
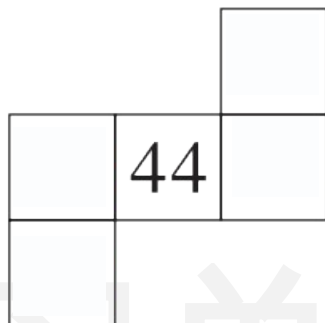
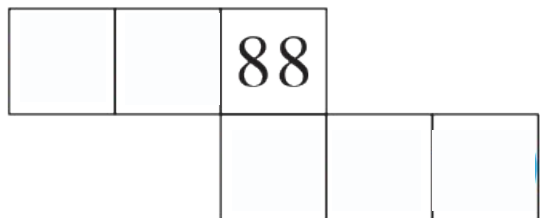
4. 79 添 1 是(), 比 50 小 2 的数是()。

5. 一个一个地数, 从 48 数到 53, 一共数了()个数。

6. 在 里填上合适的数。



7. 根据百数表在方格里填数。



8. 把 85、46、27、72、53、90 这 6 个数按从小到大的顺序排列,72 是第 () 个数。

wǒ huì xuǎn

第二关 我会选。(10☆)

1. 下面的数中,个位上是8的数是()。

① 58

② 80

③ 85

2. 下面的数中,和 70 最接近的数是()。

① 75

② 66

③ 71

3. 65 比()大得多。

① 90

② 63

③ 9

4. 十位上是 4 的两位数有()个。

① 11

② 10

③ 9

5. 用 3 个 ● 在

十位	个位

中可以摆出()个不同的数

① 2

② 3

③ 4

wǒ huì suàn

第三关 我会算。(14☆)

1. 算一算。(8☆)

$40 + 30 =$

$5 + 40 =$

$98 - 8 =$

$30 + 8 =$

$80 - 50 =$

$49 - 40 =$

$56 - 50 =$

$60 + 7 =$

2. 在 里填上合适的数。(6☆)

$\text{apple} + 5 = 75$

$\text{apple} + 30 = 37$

$73 - \text{apple} = 70$

$\text{apple} - 40 = 10$


$81 - \text{apple} = 1$

$\text{apple} + 20 = 60$

wǒ huì zuò

第四关 我会做。(19☆)

1. 分一分, 填一填。(7☆)

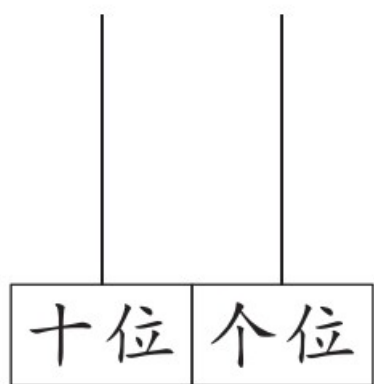


个位上是5的数



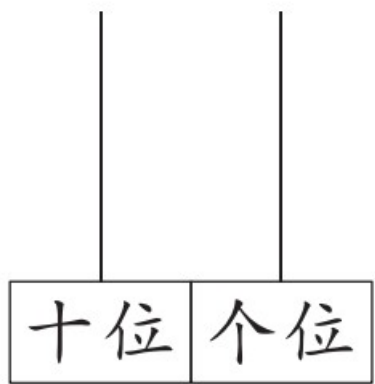
比50大的数

2. 拨 5 颗 \bullet 在计数器上表示数,画一画,填一填。(12☆)



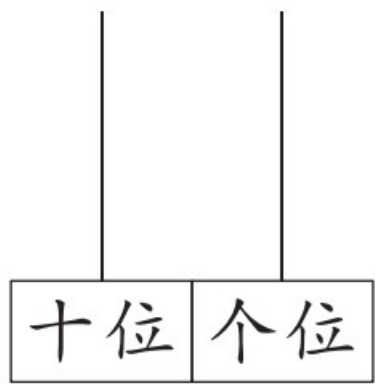
写作()

读作()



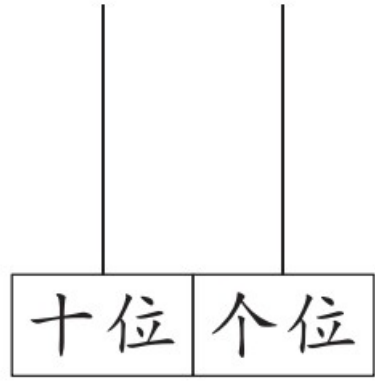
写作()

读作()



写作()

读作()



写作()

读作()

wǒ huì cāi

第五关 我会猜。(4☆)



小优

我拍了
40下。

我拍的比小
优多得多。



小轩

我拍的比小
优少一些。



小可

小轩可能拍了多少下？画“√”。


小可可能拍了多少下？画“△”。

9 下	37 下	45 下	82 下

wǒ huì jiě jué wèn tí

第六关 我会解决问题。(24☆)

1. 青团是清明时节的美食。李阿姨一共做了28个芝麻馅和红豆馅青团,红豆馅的青团有几个?(4☆)



其中芝麻馅的有20个,
送给王奶奶8个。

$$\square \bigcirc \square = \square (\quad)$$

2. 小熊哥哥摘了多少根玉米? (5☆)

你再摘8根就和我摘的一样多了。



哥哥



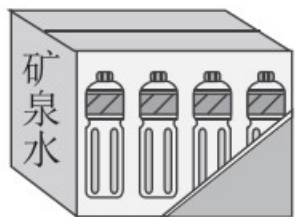
弟弟

哥哥，我摘了40根玉米。

$$\square \bigcirc \square = \square (\quad)$$

3. (5☆)

有20名运动员
和5名教练。



24瓶



每人一瓶矿泉水，准备
一箱矿泉水够吗？


$$\square \bigcirc \square = \square (\square)$$

$$\square \bigcirc \square$$

够

不够

4. 先圈一圈,再回答问题。有43个贝壳,每10个贝壳穿一条手链,
能穿多少条手链?(5☆)



5. 优优得了多少分？(5☆)

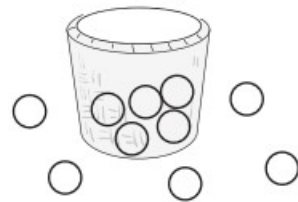
这些是我投的球。



1分



10分



$$\square \bigcirc \square = \square (\quad)$$



关注“优翼丛书”小程序

更多优质好课等你来



更多教学资源，敬请关注 www.youyi100.com