

期末冲刺与评价

综合学业质量评价（一）

一年级数学上册（RJ）

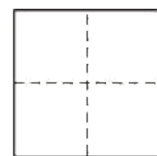
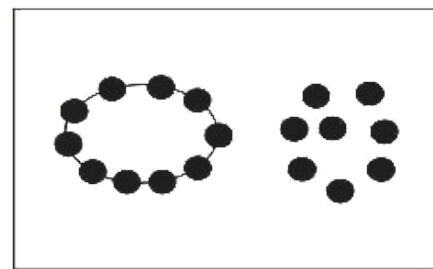
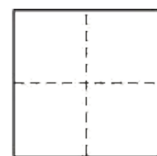
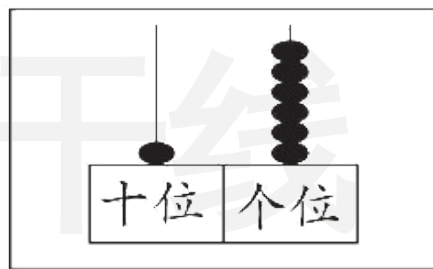
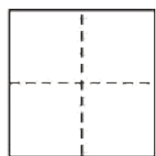
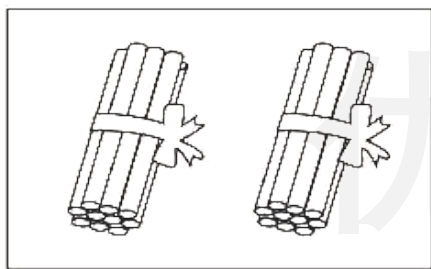
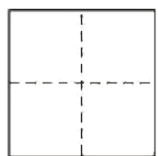



优干线同步作业课件

wǒ huì tián

一、我会填。(第6题4✿,第9题5✿,其余每空1✿,共36✿)

1. 看图写数,并比一比。



(写数略)

把这些数按顺序排一排:(**20**) > (**18**) > (**16**) > (**5**)

2.

10	11	12	13	14	15
-----------	----	-----------	----	-----------	----

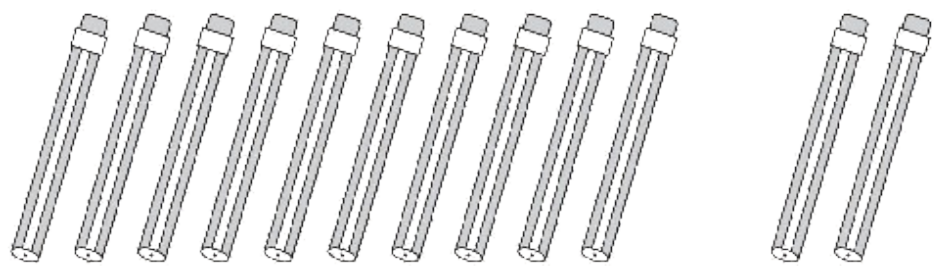
20	19	18	17	16	15
----	----	-----------	----	-----------	-----------

3. 一个两位数的个位上是2,十位上是1,这个两位数是(**12**)。

4. (真题演练)19是由(**1**)个十和(**9**)个一组成的,它前面一个数是(**18**),后面一个数是(**20**)。

5. (真题演练)两个加数都是6,和是(**12**);被减数是15,减数是5,差是(**10**)。

6.



$$\boxed{10} \oplus \boxed{2} = \boxed{12}$$

$$\boxed{12} \ominus \boxed{10} = \boxed{2}$$



$$\boxed{2} \oplus \boxed{10} = \boxed{12}$$

$$\boxed{12} \ominus \boxed{2} = \boxed{10}$$


7. (趋势新题) 从 2 开始, 2 个 2 个地数, 数(7)次正好是 14。

8.





 比  多(4)只。

9.



(1) 上图中一共有(**8**)只小动物。

(2)  前面有(**2**)只小动物,  后面有(**4**)只小动物。

(3) 把从前面数的第3只小动物涂色,把最后面的3只小动物圈起来。

10. 从2、3、5、8中选3个数,写两道加法算式和两道减法算式。

$$3+5=8$$

$$5+3=8$$

$$8-3=5$$

$$8-5=3$$

(答案不唯一)

wǒ huì xuǎn bǎ zhèng què dá àn de xù hào tián zài kuò hào lǐ

二、我会选。(把正确答案的序号填在括号里)(10✿)

1. 下面算式中,(**③**)的差是10。

① $6 + 4$

② $9 - 1$

③ $12 - 2$

2. (真题演练)比5大,比14小的数有(**①**)个。

① 8

② 9

③ 10

3. 优优今年 6 岁, 哥哥今年 17 岁, 再过三年, 优优比哥哥小(②) 岁。

① 10

② 11

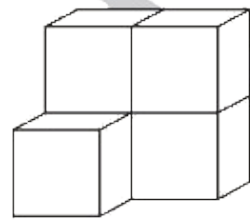
③ 19

4. (真题演练) 右图由(②) 个正方体组成。

① 4

② 5

③ 6



5. 今天星期四, 因为下雨, 所以妈妈推迟 2 天带优优去动物园。优优和妈妈星期(②) 去动物园。

① 五

② 六

③ 日

wǒ huì suàn

三、我会算。(18✿)

1. 直接写出得数。(6✿)

$10 - 7 = 3$

$6 - 6 = 0$

$4 + 6 = 10$

$4 + 7 + 5 = 16$

$5 + 8 = 13$

$9 + 6 = 15$

$14 - 10 = 4$

$12 + 3 - 5 = 10$

$3 + 8 = 11$

$9 + 8 = 17$

$10 + 2 = 12$

$15 - 5 + 5 = 15$

2. 在 ○ 里填上“>”“<”或“=”。(6✳)

$5 + 9 < 15$

$7 + 6 > 12$

$10 + 6 = 7 + 9$

$7 - 7 < 1$

$16 - 4 > 10$

$9 + 8 > 6 + 7$

3. 在 里填上合适的数。(6✿)

$$\boxed{4} + 6 = 10$$

$$5 + \boxed{3} = 8$$

$$9 - \boxed{0} = 9$$

$$9 - \boxed{3} = 6$$

$$3 + \boxed{9} = 12$$

$$\boxed{10} + \boxed{3} = 13$$

(最后两空答案不唯一)

wǒ huì zuò

四、我会做。(13✳)

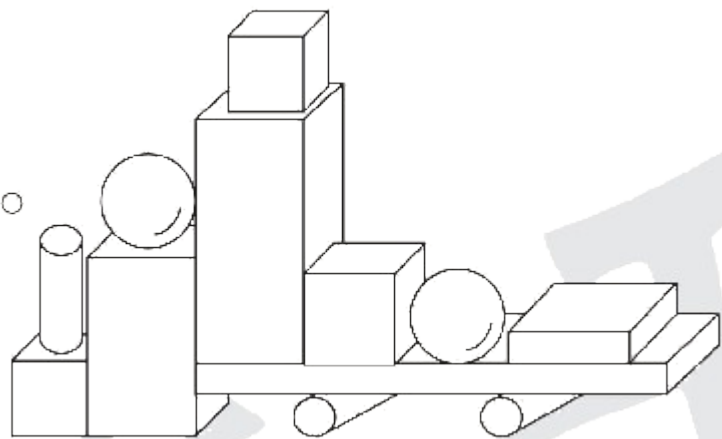
1. 数一数, 填一填。(9✳)

(1) 正方体有(**3**)个, 长方体有(**4**)个。

球有(**2**)个, 圆柱有(**3**)个。

(2) (**长方体**)最多, (**正方体**)和(**圆柱**)同样多。

(3) 正方体比(**球**)多, 多(**1**)个。

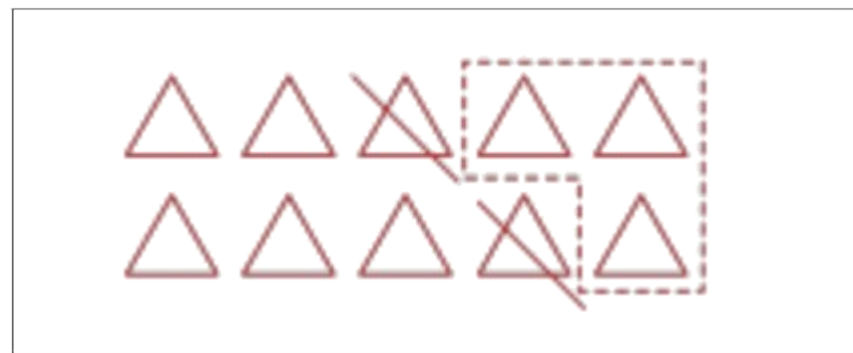


2. (趋势新题) 按要求画一画。(4✳)

(1) 画 ○, 使 ○ 比 □ 多 2 个。



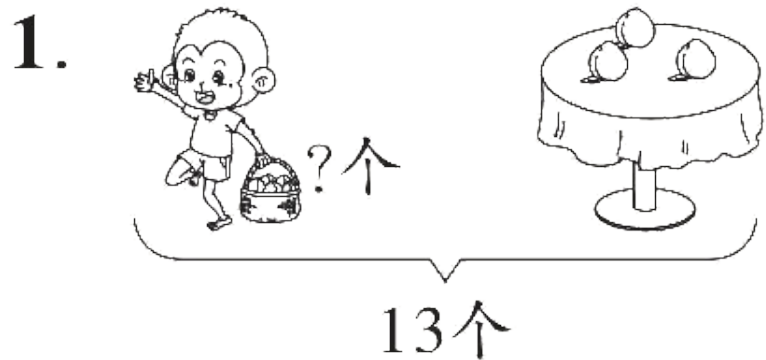
(2) 画图表示“ $10 - 3 - 2 = 5$ ”。



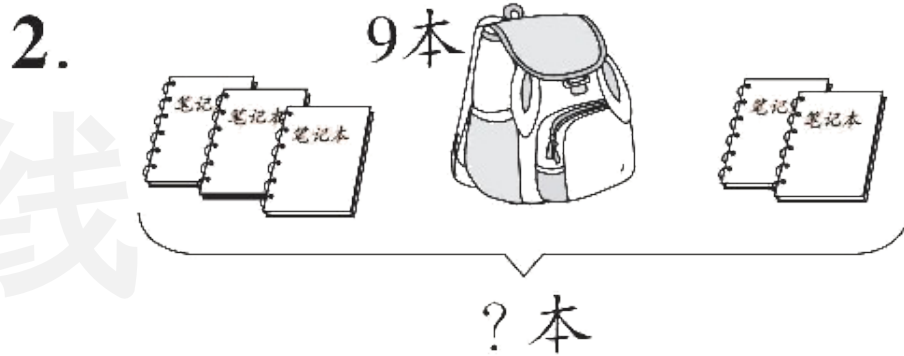
(画法不唯一)

wǒ huì shuō chū tú de yì sī zài tián suàn shì

五、我会说出图的意思，再填算式。(4✿)



$$\boxed{13} - \boxed{3} = \boxed{10} (\text{个})$$



$$\boxed{3} + \boxed{9} + \boxed{2} = \boxed{14} (\text{本})$$

wǒ huì jiě jué wèn tí

六、我会解决问题。(19✳)

1. 湖面上一共有 16 只天鹅, 飞走了 10 只。还剩多少只天鹅? (4✳)

$$\boxed{16} \ominus \boxed{10} = \boxed{6} \text{ (只)}$$

2. (趋势新题) (6✳)



(1) 一共有多少人?

$$\boxed{6} \oplus \boxed{5} = \boxed{11} \text{ (人)}$$

(2) 一共种了多少棵树?

$$\boxed{4} \oplus \boxed{4} = \boxed{8} \text{ (棵)}$$

3. (真题演练)



我摘了17个桃。

小黑

我再摘5个就和你同样多。



小灰

优干线

小灰摘了多少个桃？(4✳)

$$\boxed{17} \ominus \boxed{5} = \boxed{12} \text{ (个)}$$

4. 同学们排队参观动物园。小新和小方之间有几？(5✳)



我用画图法解答：



小新和小方之间有(9)人。

(画法不唯一)



关注“优翼丛书”小程序

更多优质好课等你来



更多教学资源，敬请关注 www.youyi100.com