



第七单元 复习与关联

第 1 课时 数与运算(1)

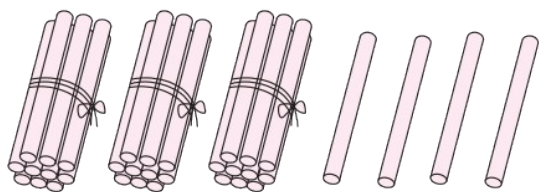
一年级数学下册
(RJ)



新领程同步作业课件

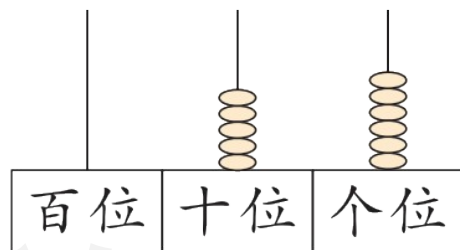
1 填一填。

(1) 看图写一写、读一读。



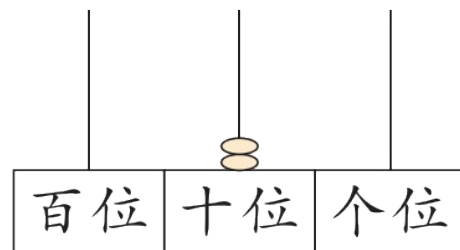
写作()

读作()



写作()

读作()



写作()

读作()

(2)

47	48			51	
----	----	--	--	----	--

82	81	80			
----	----	----	--	--	--

(3) 与 70 前后相邻的两个数是()和()。


(4) 最大的两位数是(), 最小的两位数是(), 它们相差()。

(5) 83 里面有()个十和()个一;

2 个一和 7 个十合起来是()。

(6) 一个数的个位上是 4, 十位上是 5, 这个数是()。

(7) 把下面各数按从小到大的顺序排列起来。



() < () < () < () < ()

(8) 用 7 个 ○ 在右边的数位表上摆一摆, 摆出的最大数是()。

十位	个位

2 选一选。

(1) 和“68”中的“6”表示的意思相同的是()。

① 56

② 96

③ 61

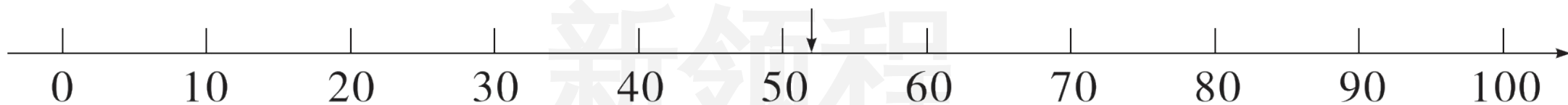
(2) $2\square < 25$, \square 中可以填的数字是()。

① 4

② 5

③ 6

(3) 下图中,“↓”所指的数可能是()。



① 48

② 52

③ 58

(4) 优优用★表示10,用▲表示1,下面表示的数中最大的是()。

① ★★▲▲▲


② ★★▲▲▲

③ ★★▲▲▲

3 (新趋势) 请将你心中的 35 画出来。

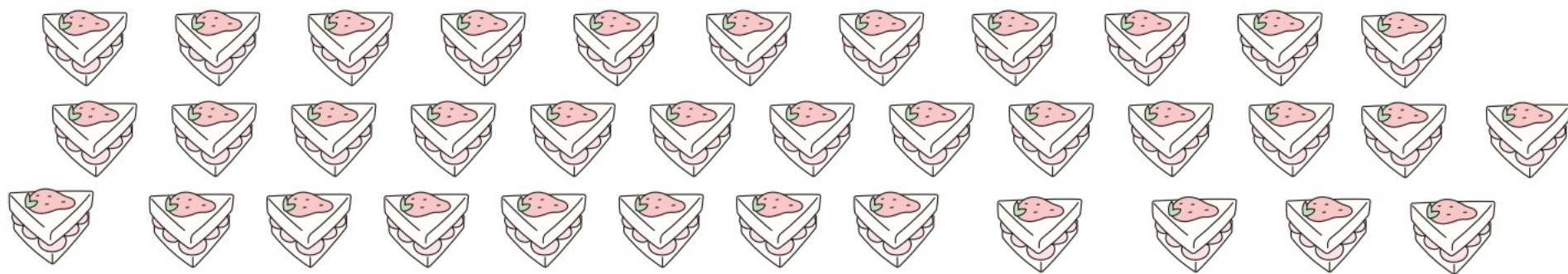
35

新领程



4 解决问题。

(1) 36 个蛋糕，每盒装 10 个，可以装满几盒？还剩几个？（圈一圈，填一填）



可以装满 盒，还剩 个。

(2) 在合适的答案下面画“√”。

我们有40只。



我们比蜜蜂多得多。



我们比蜜蜂少一些。



可能有多少只？

29 只	54 只	85 只
<input type="checkbox"/>	<input type="checkbox"/>	<input type="checkbox"/>



可能有多少只？

8 只	30 只	42 只
<input type="checkbox"/>	<input type="checkbox"/>	<input type="checkbox"/>



关注“优翼丛书”小程序

更多优质好课等你来



更多教学资源，敬请关注 www.youyi100.com