



阶段核心素养闯关

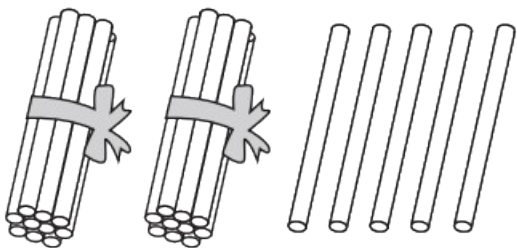
一年级数学下册 (RJ)



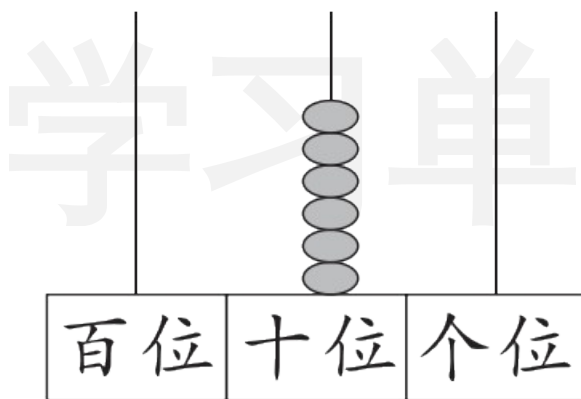
wǒ huì tián

第一关 我会填。(每空1☆,共28☆)

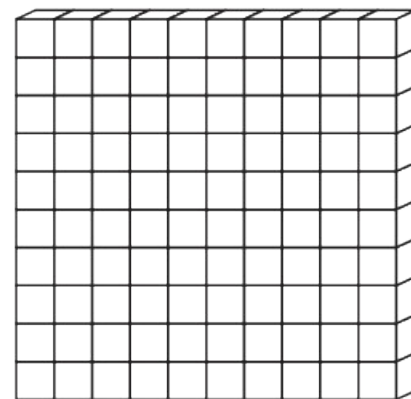
1. 看图写数。



()



()



()

2. 按顺序填数。



上面所填的数中, () 最接近 80。

3. 十个十个地数, 89 的后面是 (), 再添上 1 就是 ()。

4. 校园体育节的一分钟跳绳个人比赛结束了,成绩分别是小新 37 下,小翼 49 下,小优 92 下,小轩 54 下,小明 70 下。

(1) 把他们的成绩从大到小排序。

() 下 > () 下 > () 下 > () 下 > () 下

(2) 第 1 名是(),小翼是第()名。


5. 一个两位数,个位上的数字是 7,十位上的数字是 5,这个数是 ();86 是由()个十和()个一组成的,它减去 6 个一是()。



6. 在 ○ 里填上“>”“<”或“=”。

$14 - 7 \bigcirc 6$

$56 - 50 \bigcirc 5$

$7 + 60 \bigcirc$

7.  从图中拿走()号三角形,剩下的两个三角形成一个正方形。

8. 用()个  可以拼成  。

9. 用 4 个 ● 可以在右边的数位表中摆出()个不同的数,其中最小的数是(),最大的数是()。

十位	个位

wǒ huì xuǎn


第二关 我会选。(12☆)

1. 66 和 72 之间有()个数。

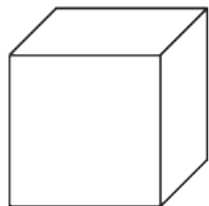
① 5

② 6


③ 7

2. 用下面的()可以画出 .

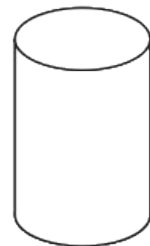
①



②



③



3. 校园体育节将进行“百人篮球表演”，关于100下列说法正确的是（ ）。

- ① 99 前面一个数是 100 ② 100 比 99 多 1 个十
③ 100 里面有 100 个一

4. 一个两位数, 个位上的数字和十位上的数字合起来是 8, 这个两位数不可能是()。

① 80

② 53

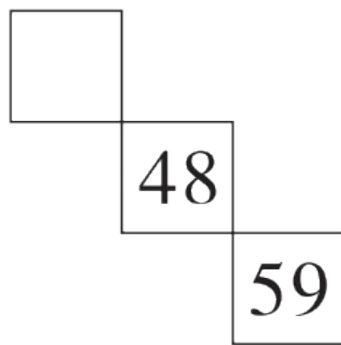
③ 47

5. 右图是百数表中的一部分, 空格处的数是()。

① 47

② 38

③ 37



6. 用 6 根同样长的小棒,不能摆成下面图形()。(小棒全部用上且不折断)

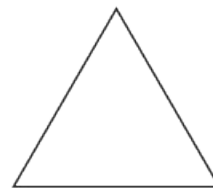
①



②



③



wǒ huì suàn

第三关 我会算。(18☆)

1. 算一算。(12☆)

$74 - 4 =$

$80 + 10 =$

$15 - 8 =$

$73 - 70 + 9 =$

$17 - 9 =$

$12 - 3 =$

$49 - 40 =$

$13 - 5 - 5 =$

$60 - 50 =$

$60 + 7 =$

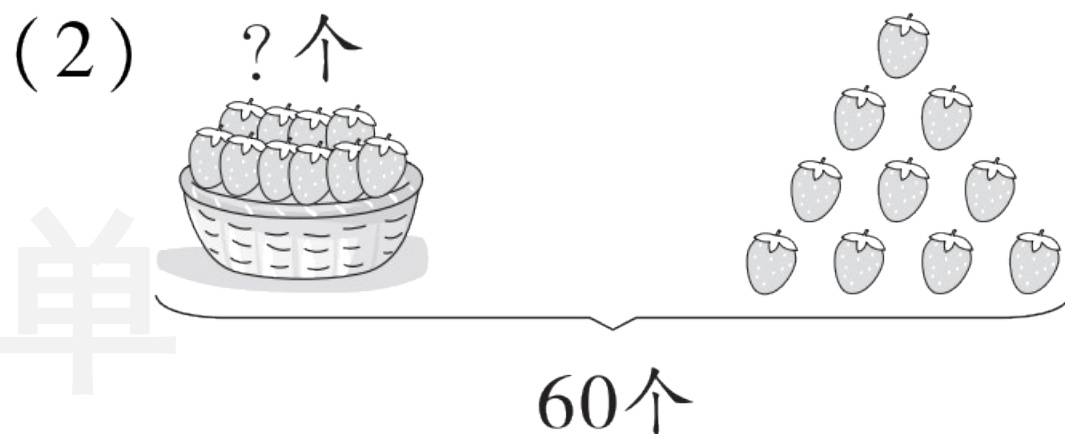
$4 + 30 =$

$13 - 4 + 30 =$

2. 看图列式计算。(6☆)



$$\square \bigcirc \square = \square (\text{个})$$



$$\square \bigcirc \square = \square (\text{个})$$

wǒ huì zuò

第四关 我会做。(19☆)

1. 小优跳了48下。(4☆)



我跳的下数比小优跳的下数多得多。

我跳的下数比小优跳的下数少一些。

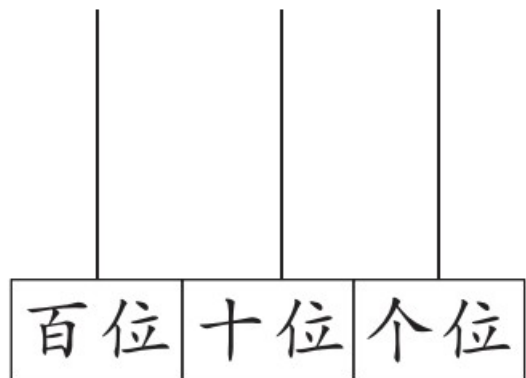


男孩可能跳了多少下？画“√”。

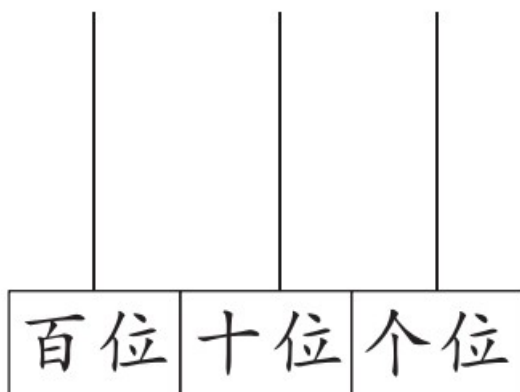
女孩可能跳了多少下？画“○”。

45 下	52 下	85 下

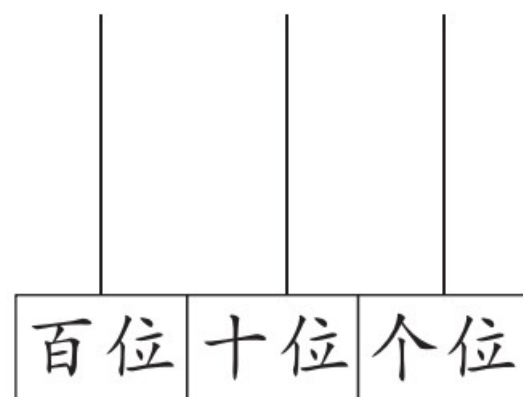
2. 看数画珠子,你发现了什么? (7☆)



1



10



100

我发现: _____

3. 先在点子图上画一个平行四边形,再将这个平行四边形分成两个完全一样的图形。(4☆)



wǒ huì jiě jué wèn tí

第五关 我会解决问题。(23☆)

1. (5☆)



小优

我和小新一共折了13只纸飞机。



我折了7只纸飞机，小优折了几只？




小新

$$\square \bigcirc \square = \square (\quad)$$

2. 小猴摘下了20个桃,树上还有4个桃。(5☆)


$$\square \bigcirc \square = \square (\quad)$$

树上原来有多少个桃?



3. 车上有多少人?(5☆)

12座



女生有8人,还有3个座位空着。

$$\square \bigcirc \square = \square (\quad)$$

4. 饺子是中国的传统食物,寓意“团圆平安”。周六,小优一家三口一起包饺子。(8☆)



妈妈

我包了20个饺子。



小优

我包了30个饺子。



爸爸

我包了39个饺子。

(1) 妈妈和小优一共包了多少个饺子?(4☆)

$$\square \bigcirc \square = \square (\quad)$$

(2) 爸爸包的饺子里面有9个三鲜馅的,其他是胡萝卜羊肉馅的,爸爸包了多少个胡萝卜羊肉馅的饺子?(4☆)

$$\square \bigcirc \square = \square (\quad)$$



关注“优翼丛书”小程序

更多优质好课等你来



更多教学资源，敬请关注 www.youyi100.com