



第一单元 认识平面图形

单元重难点大闯关


一年级数学下册 (RJ 卓越版)



新领程同步作业课件

第一关 平面图形的认识

bǎ tú xíng sòng huí jiā tián xù hào
 1. 把图形送回家。(填序号)



长方形

Empty dashed box for matching shapes to the Rectangle category.

正方形

Empty dashed box for matching shapes to the Square category.

三角形

Empty dashed box for matching shapes to the Triangle category.

圆

Empty dashed box for matching shapes to the Circle category.


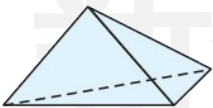
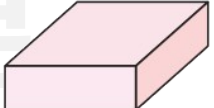
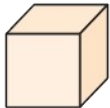
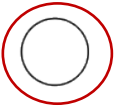







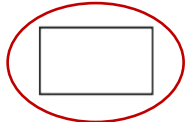

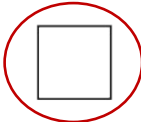

平行四边形

Empty dashed box for matching shapes to the Parallelogram category.




shàng miàn wù tǐ néng huà chū xià miàn de nǎ gè píng miàn tú xíng quān yī quān

2. 上面物体能画出下面的哪个平面图形？圈一圈。

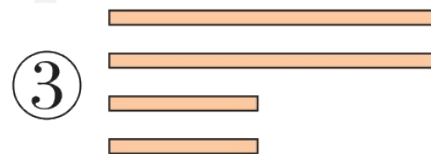
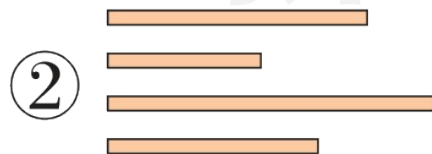
			
  	  	  	  

3. 选一选。(填序号)

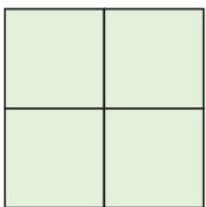
(1) 小狗用第()组篱笆可以围好它的院子。



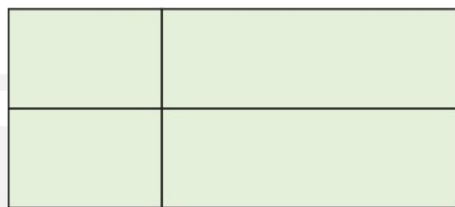
我要围一个长方形院子。




shǔ yì shǔ tián yì tián
 4. 数一数，填一填。



有()个正方形。



有()个长方形。


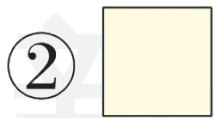


有()个圆。

第二关 平面图形的拼组

1. 选一选。(填序号)

(1) 把一张正方形纸对折 1 次, 不可能折出的图形是()。



(2) 要拼出  , 可以用()个  , 或()个  , 或()个  。

① 4

② 2

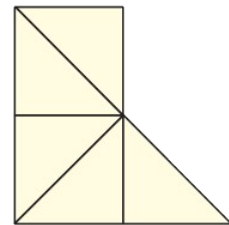
③ 8

(3) 如图, 至少再添上()个  就可以拼成一个正方形。

① 2

② 3

③ 4



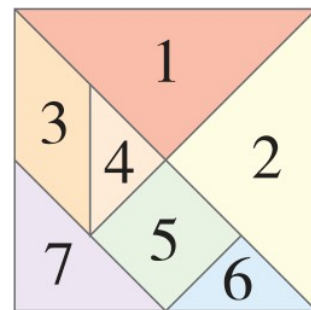
第三关 认识七巧板

àn yāo qiú tián yì tián

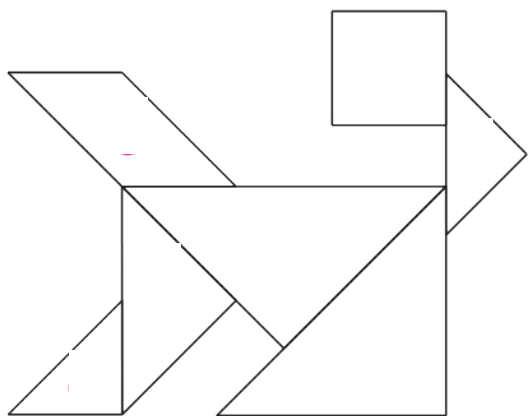
1. 按要求填一填。

(1) 七巧板中, ()形和()形都分别只有1块,
三角形有()块。

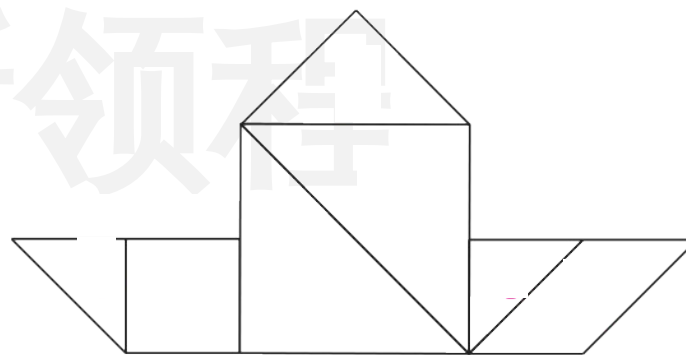
(2) ()号、()号和()号图形可以拼成长方形。



(3) 根据上面右图, 请分别在下面两个图形中写出七巧板各部分的编号。



新领程





关注“优翼丛书”小程序

更多优质好课等你来



更多教学资源，敬请关注 www.youyi100.com