



素养通关

第一单元核心素养闯关

一年级数学上册 (RJ)




学习单 同步作业课件

wǒ huì tián wǒ huì quān

第一关 我会填，我会圈。（第3题4☆，其余每空1☆，共30☆）

1. 盘子里各有多少颗草莓？数一数，填一填。












2. 按顺序填数。

	1		3	4	
--	---	--	---	---	--

5	4				0
---	---	--	--	--	---

3.



比



(多 少)

○



比



(多 少)

○

4. 在 ○ 里填上“>”“<”或“=”。

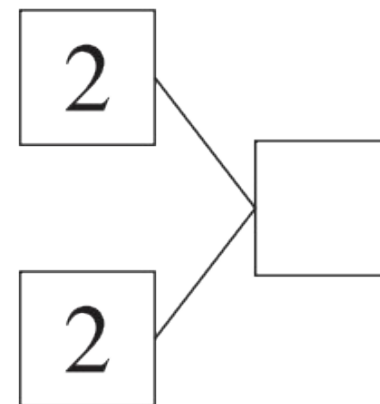
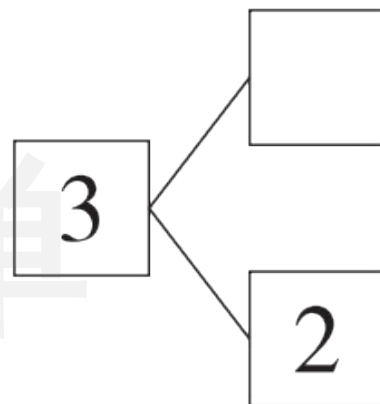
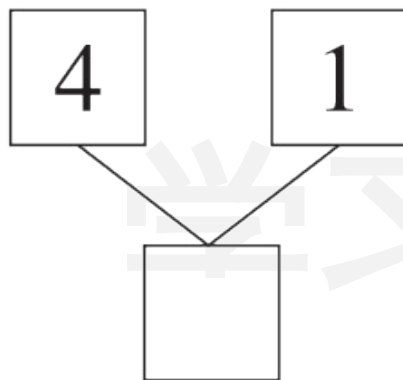
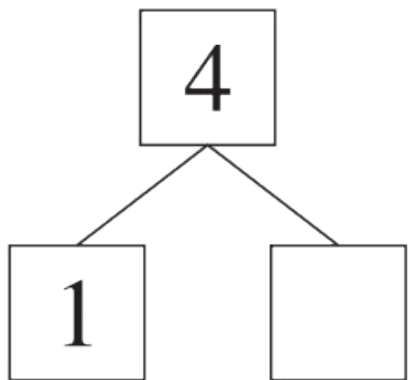
$3 \bigcirc 2$


$1 \bigcirc 4$

$1 \bigcirc 1$

$3 \bigcirc 5$

5.





被小房子挡住的是第()个人
 和第()个人,小房子挡住了
 ()个人。

wǒ huì xuǎn

第二关 我会选。(10☆)

1. 观察下图,关于算式“ $2 + 3 = 5$ ”,下面说法错误的是(②)。



- ① “2”表示2个
- ② “3”表示拿走了3个
- ③ “+”表示把两部分合起来

2. 5只青蛙跳上两片荷叶,两片荷叶上的青蛙只数能同样多吗?

()

①能

②不能

③无法确定

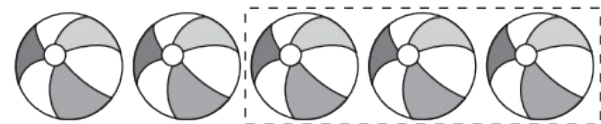
3. 3前面第1个数是2,3后面第2个数是()。

①4

②4和5

③5

4. 下列算式中, () 能正确表达图意。

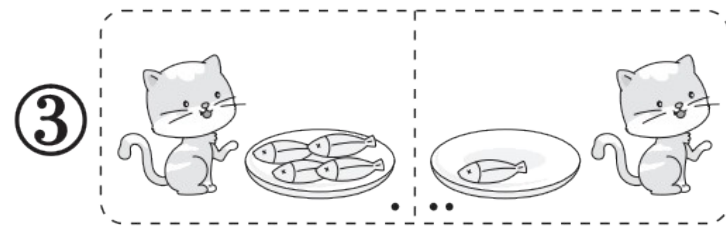



① $5 - 2 = 3$

② $5 - 3 = 2$

③ $2 + 3 = 5$

5. 下面图 () 不能用算式“ $4 - 4 = 0$ ”表示。



wǒ huì suàn

第三关 我会算。(12☆)

$3 + 1 =$

$5 - 4 =$

$2 + 2 =$

$1 + 2 =$

$3 + 0 =$

$0 + 5 =$

$4 + 1 =$

$0 + 0 =$

$4 - 2 =$

$5 - 0 =$

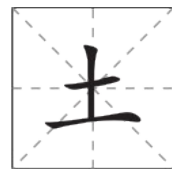
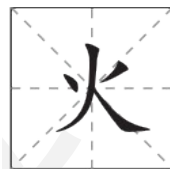
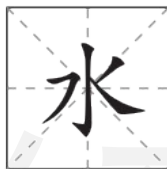
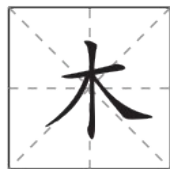
$3 - 2 =$

$4 - 0 =$

wǒ huì zuò

第四关 我会做。(16☆)

1. 填一填,圈一圈。(8☆)



- (1) 上面一共有()个字。
- (2) 从左边数,第2个字是“()”。
- (3) 请把右边的2个字圈起来。
- (4) 把“水”字拿走,从右边数,“木”字排第()。

2. 用自己的方式表示下面算式的意思。(8☆)

$$1 + 3 = \square$$



$$3 - 1 = \square$$




学习单

wǒ huì kàn tú tián suàn shì bìng shuō chū suàn shì biǎo shì de yì
第五关 我会看图填算式，并说出算式表示的意

si
思。(16☆)

1.




$$\square \bigcirc \square = \square$$

2.




$$\square \bigcirc \square = \square$$

3.



$$\square \bigcirc \square = \square$$

4.



$$\square \bigcirc \square = \square$$

wǒ huì jiě jué wèn tí

第六关 我会解决问题。(16☆)

1. 小猴要吃5个桃,它选的可能是哪两盘?(用算式表示)(5☆)

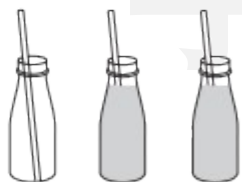


$$\square \bigcirc \square = \square$$


$$\square \bigcirc \square = \square$$

2. 看图讲故事, 填算式。(5☆)

我喝了1瓶。



我喝了2瓶。我们剩下的同样多!



$$\square \bigcirc \square = \square \bigcirc \square$$

3. 看图你能写出哪些算式？请你至少列出3道，试一试吧！（6☆）



$$\square \bigcirc \square = \square$$

$$\square \bigcirc \square = \square$$

$$\square \bigcirc \square = \square$$

wǒ lái tiǎo zhàn

我来挑战。（做对了，奖励10☆哦！）

幼儿园的小朋友站成一排做游戏，小优的左边有2个小朋友，小优右边的小朋友和左边同样多，一共有（ ）个小朋友做游戏。



可以用1个○代表1个小朋友，试着画一画！





学习用优翼 越来越优异

优翼产品与服务
历年中小学生学习人次 **3亿+**

优翼网教学资源
每年服务师生人次 **3000万+**

年举办公益
教研活动场次 **300+**



· 学练优 | 新领程 | 涂重点 | 优翼网 教学资源服务平台

www.youyi100.com



优翼品牌代言人



学习用优翼 越来越优异

优翼教学工具书（小学系列）“3+n”选购指南：

教材笔记 1 本、同步练习 1 本、检测试卷 1 本 + 专项提升 n 本

教材笔记：新领程·涂重点 甘橙语文笔记

同步练习：学练优 新领程 学习单（素养导向的大单元作业）

检测试卷：优干线 真题新卷

假期作业：暑假衔接 寒假衔接

小学总复习：极速提分 系统强化训练 小总冲刺卷 全真模拟卷

字帖系列：四步法写字 写字高手 静心字帖……

语文专项：看图写话 同步作文 默写大通关 阅读与积累 五步法作文 情境

化串联古诗词 趣味拼音拼读

数学专项：必考口算应用题 同步口算 口算天天练 模型图解应用题

英语专项：拼读法速记单词 趣味速记音标



优翼品牌代言人



关注“优翼丛书”小程序

更多优质好课等你来



更多教学资源，敬请关注 www.youyi100.com