



# 第六单元 数量间的加减关系

## 单元大通关

一年级数学下册 (RJ)



新领程同步作业课件

## 第一关 填一填。

1. 51 比 35 多(        ); 比 80 少 36 的数是(        )。

2. 小优、小新和小可做游戏。



我获得20分。

小优



我获得27分。

小新



我比小新多8分。

小可

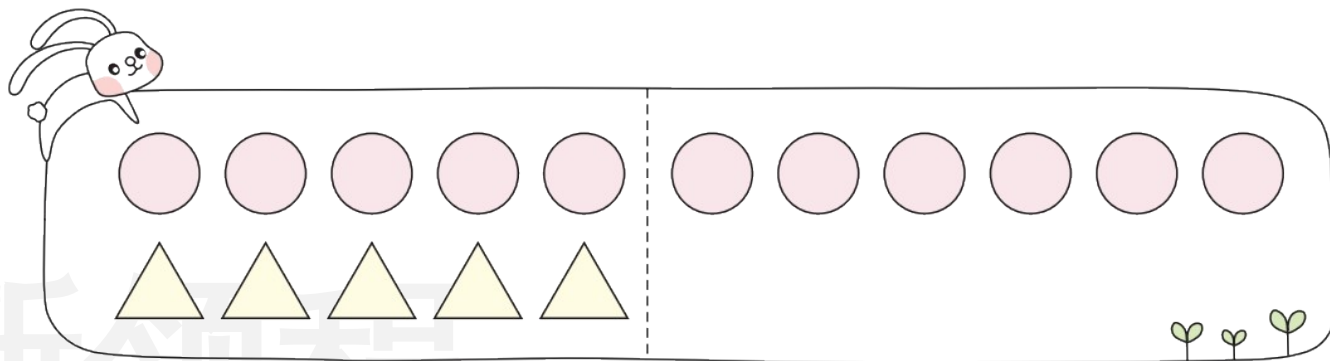
小新比小优多(        )分, 小可获得(        )分, 小优比小可少(        )分。

3. 张老师比李老师多写了 20 副对联, 李老师比王老师少写了 16 副。张老师比王老师(        )(填“多”或“少”)写了(        )副。

第二关 选一选。

1. 如图,小新列出的算式  $11 - 5 = 6$  表示的是( )。

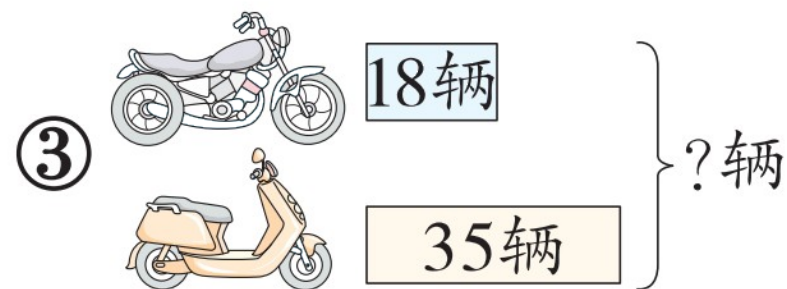
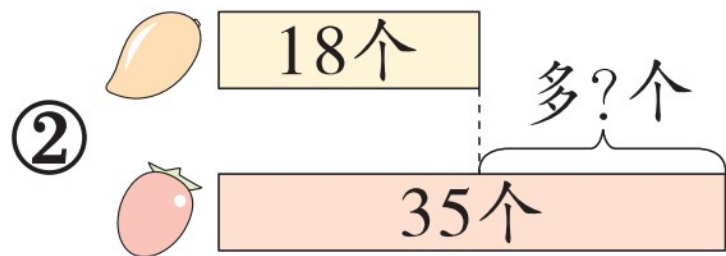
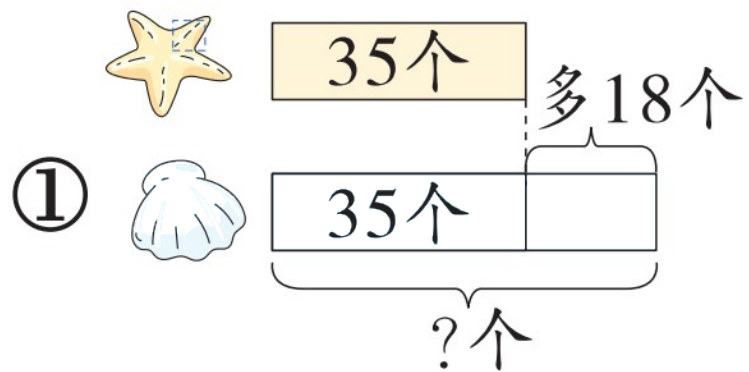
- ①  $\triangle$  的个数
- ②  $\bigcirc$  的个数
- ③  $\bigcirc$  比  $\triangle$  多的个数



2. 在“童心向党”主题活动中,学党史的有 46 人, \_\_\_\_\_, 唱红歌的有多少人? 列式为  $46 + 28$ , 横线上应补充的条件是( )。

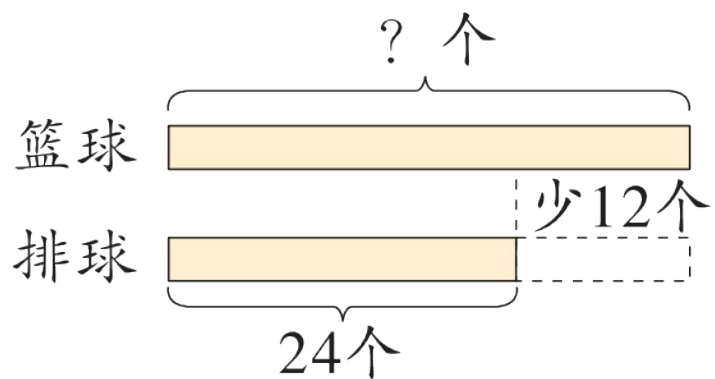
- ① 学党史的比唱红歌的多 28 人
- ② 唱红歌的比学党史的少 28 人
- ③ 唱红歌的比学党史的多 28 人

3. (新趋势) 下面不能用“ $35 + 18$ ”解决的是( )。

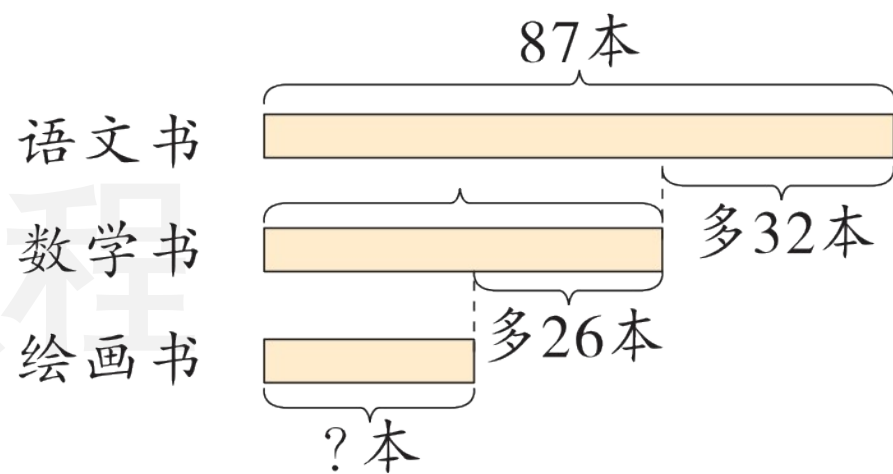


### 第三关 看图列式计算。

1.



2.



新领程

## 第四关 解决问题。

1. 潮州“大吴泥塑”与天津“泥人张”、无锡“惠山泥人”并称为我国三大泥塑。



有多少个？

新领程



46个



我比  少17个。

2. (新情境) 实验小学举行“迎国庆”书画作品展活动,在网上进行投票,其中三位同学的票数如下。



小新38票

投ta一票



小优51票

投ta一票



小乐29票

投ta一票

(1) 小优比小乐多多少票? (2) 请你尝试提出其他数学问题并解答。

提问: \_\_\_\_\_

解答: \_\_\_\_\_

3. 小新一家参加趣味问答活动。答对 40 道题就可以得到一份精美礼品，他们能得到礼品吗？（扫目录处二维码看解题视频）

小新的爸爸妈妈一共答对了 27 道题，比小新多答对 9 道。





# 学习用优翼 越来越优异

优翼产品与服务  
历年中小学生学习人次 **3 亿 +**

优翼网教学资源  
每年服务师生人次 **3000 万 +**

年举办公益  
教研活动场次 **300+**



· 学练优 | 新领程 | 涂重点 | 优翼网 教学资源服务平台

[www.youyi100.com](http://www.youyi100.com)



优翼品牌代言人



# 学习用优翼 越来越优异

## 优翼教学工具书（小学系列）“3+n”选购指南：

教材笔记 1 本、同步练习 1 本、检测试卷 1 本 + 专项提升 n 本

教材笔记：新领程·涂重点 甘橙语文笔记

同步练习：学练优 新领程 学习单（素养导向的大单元作业）

检测试卷：优干线 真题新卷

假期作业：暑假衔接 寒假衔接

小学总复习：极速提分 系统强化训练 小总冲刺卷 全真模拟卷

字帖系列：四步法写字 写字高手 静心字帖……

语文专项：看图写话 同步作文 默写大通关 阅读与积累 五步法作文 情境

化串联古诗词 趣味拼音拼读

数学专项：必考口算应用题 口算天天练 模型图解应用题

英语专项：拼读法速记单词 趣味速记音标



优翼品牌代言人



关注“优翼丛书”小程序

更多优质好课等你来



更多教学资源，敬请关注 [www.youyi100.com](http://www.youyi100.com)