



素养通关

第二单元核心素养闯关

一年级数学上册
(RJ)



学习单 同步作业课件

wǒ huì tián

第一关 我会填。（每空1☆，共26☆）

1. 先读一读，再写出每块黑板上汉字的个数。（不包括标点符号）

云对雨
雪对风

鹅，鹅，鹅
曲项向天歌

每天都有
新进步

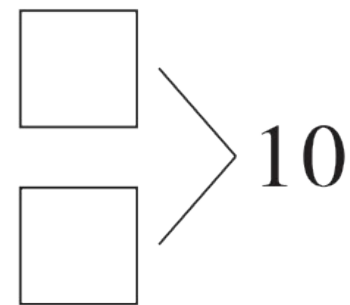
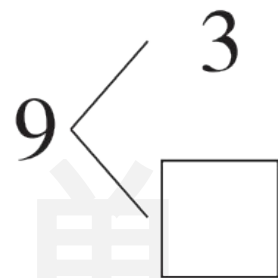
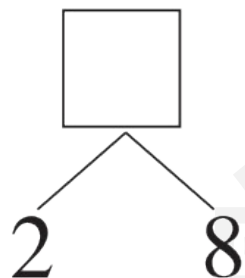
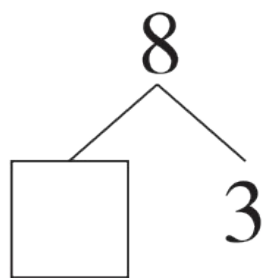
远看山有色，
近听水无声

2. 按顺序填数。

10	9	8			
----	---	---	--	--	--

0	2	4			
---	---	---	--	--	--

3.



学习单

4. 在 ○ 里填上“+”或“-”。


$5 \bigcirc 2 = 7$

$8 \bigcirc 2 = 6$

$3 \bigcirc 7 = 10$

$10 \bigcirc 0 = 10$

5.



 比  多 _____。

 比  少 _____。

6. $\bigcirc + 2 = 10$, $\bigcirc - 3 = \triangle$, 那么 $\bigcirc = (\quad)$, $\triangle = (\quad)$ 。

7. 小优和姐姐、弟弟三人的年龄是大于6小于10的三个不相同的数。小优()岁, 姐姐()岁, 弟弟()岁。

wǒ huì xuǎn

第二关 我会选。(10☆)

1. 与 $8 - 1$ 计算结果相等的算式是()。

① $7 + 1$

② $6 + 1$

③ $6 + 2$

2. 从 0 数到 6, 一共数了()个数。

① 8

② 7

③ 6

3. $4 + \square < 10$, \square 里最大填()。

① 4

② 5

③ 6

4. 从第二行拿()个  放到第一行, 两行  就同样多了。

第一行:  

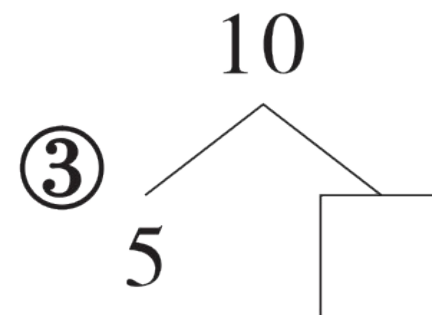
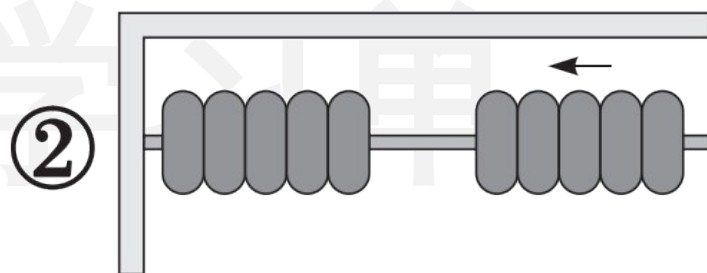
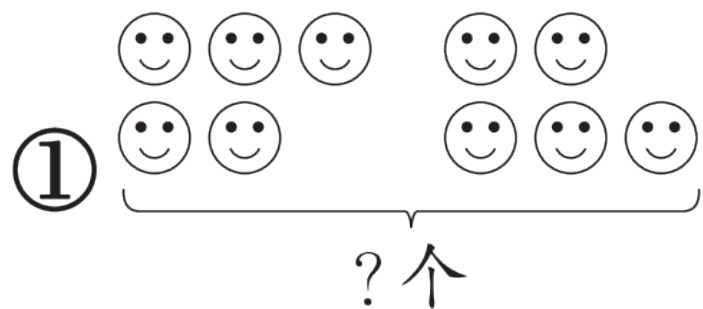
第二行:      

① 1

② 2

③ 4

5. 下面不适合用“ $5 + 5$ ”来解决的问题是()。



wǒ huì suàn

第三关 我会算。(24☆)

1. 直接写出得数。(12☆)

$7 - 5 =$

$4 + 2 =$

$3 + 5 - 7 =$

$9 - 4 + 3 =$

$7 + 2 =$

$2 + 0 =$

$3 + 3 + 3 =$

$6 - 2 - 4 =$

$0 - 0 =$

$8 + 2 =$

$7 + 2 - 6 =$

$9 - 8 + 7 =$

2. 在 \bigcirc 里填上“>”“<”或“=”，在 \square 里填上合适的数。(8☆)

$$8 - 3 \bigcirc 6$$

$$6 \bigcirc 3 + 2$$

$$5 + 3 \bigcirc 9$$

$$10 - 4 \bigcirc 6$$

$$\square + 2 = 9$$

$$9 - \square = 5$$

$$\square > 4$$

$$\square - 2 > 5$$

3. 从4、5、8、9中选3个数,写两道加法算式和两道减法算式。(4☆)

$$\square \bigcirc \square = \square$$

$$\square \bigcirc \square = \square$$



$$\square \bigcirc \square = \square$$


$$\square \bigcirc \square = \square$$

学习单



wǒ huì zuò tián yi tián quān yi quān huà yi huà
 第四关 我会做。(填一填，圈一圈，画一画)(9☆)




(1) 一共有()盘 , 从左边数, 第 5 盘有()个 ,

第()盘有 1 个 .

(2) 把右边的 3 盘圈起来, 从右边数, 在第 4 盘下面画“△”。

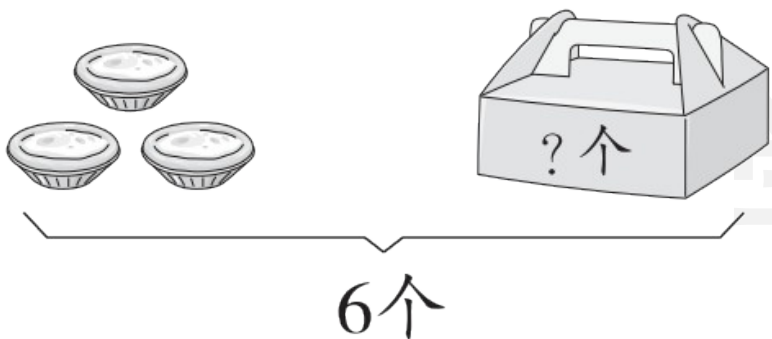
(3) 小亮拿了 2 盘, 他最多拿了()个 , 最少拿了()
个 .

(4) 明明拿了 2 盘, 一共拿了 7 个 , 从左边数, 他拿的是第
()盘和第()盘。

wǒ huì shuō chū tú de yì sī zài tián suàn shì

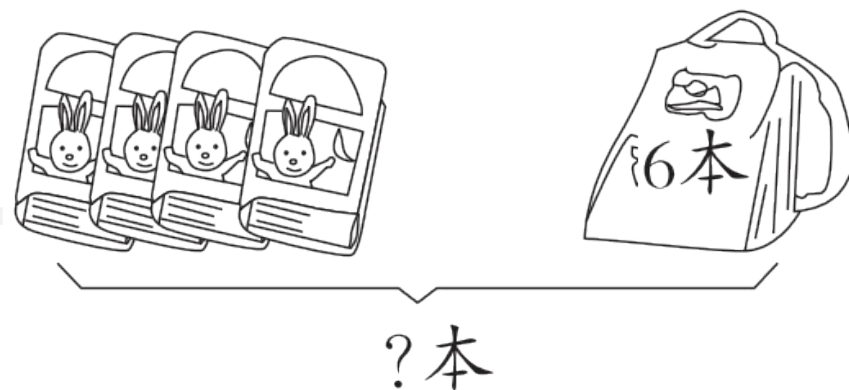
第五关 我会说出图的意思，再填算式。(12☆)

1.




$$\square \bigcirc \square = \square (\text{个})$$

2.



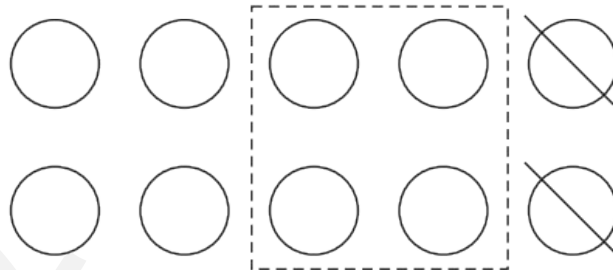
$$\square \bigcirc \square = \square (\text{本})$$

3.



$$\square \bigcirc \square \bigcirc \square = \square (\text{只})$$

4.



$$\square \bigcirc \square \bigcirc \square = \square$$

学习单

wǒ huì jiě jué wèn tí

第六关 我会解决问题。(19☆)



1.  里有几只猫？(4☆)

$$\square \bigcirc \square = \square (\text{只})$$

2. 一共有多少人? (5☆)

$$\square \bigcirc \square \bigcirc \square = \square (\text{人})$$

3. 还剩多少个气球? (5☆)

$$\square \bigcirc \square \bigcirc \square = \square (\text{个})$$

4. 请你从图中提出其他数学问题并解答。(5☆)

问题：_____?

解答：_____

学习单



学习用优翼 越来越优异

优翼产品与服务
历年中小学生学习人次 **3 亿 +**

优翼网教学资源
每年服务师生人次 **3000 万 +**

年举办公益
教研活动场次 **300+**



· 学练优 | 新领程 | 涂重点 | 优翼网 教学资源服务平台

www.youyi100.com



优翼品牌代言人



学习用优翼 越来越优异

优翼教学工具书（小学系列）“3+n”选购指南：

教材笔记 1 本、同步练习 1 本、检测试卷 1 本 + 专项提升 n 本

教材笔记：新领程·涂重点 甘橙语文笔记

同步练习：学练优 新领程 学习单（素养导向的大单元作业）

检测试卷：优干线 真题新卷

假期作业：暑假衔接 寒假衔接

小学总复习：极速提分 系统强化训练 小总冲刺卷 全真模拟卷

字帖系列：四步法写字 写字高手 静心字帖……

语文专项：看图写话 同步作文 默写大通关 阅读与积累 五步法作文 情境化串联古诗词 趣味拼音拼读

数学专项：必考口算应用题 同步口算 口算天天练 模型图解应用题

英语专项：拼读法速记单词 趣味速记音标



优翼品牌代言人



关注“优翼丛书”小程序

更多优质好课等你来



更多教学资源，敬请关注 www.youyi100.com