

单元回顾与评价

第一单元学业质量评价（A）

一年级数学上册（RJ）




优干线同步作业课件


wǒ huì tián

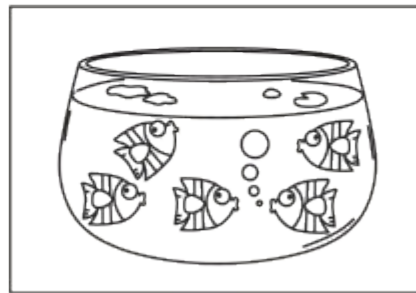
一、我会填。(第2题4✿,其余每空1✿,共34✿)


1. (真题演练) 鱼缸里有几条鱼? 写一写。











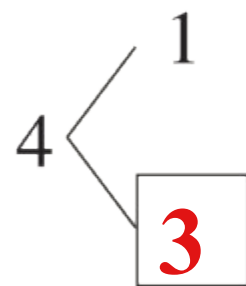
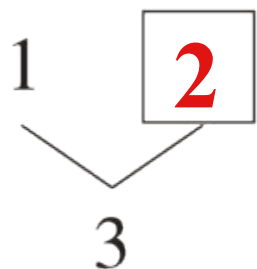
(答案略)

2. 按顺序填数。

0	1	2	3	4	5
---	----------	---	----------	---	----------

5	4	3	2	1	0
---	----------	---	----------	----------	---

3. 分一分, 填一填。



4. 一个人有(**2**)只眼睛, 一只手有(**5**)根手指。

5. (真题演练) 在 ○ 里填上“+”或“-”。

$$5 \text{ ○ } 2 = 3$$

$$0 \text{ ○ } 4 = 4$$

$$1 \text{ ○ } 2 = 3$$

$$4 \text{ ○ } 1 = 3$$

$$2 \text{ ○ } 2 = 4$$

$$0 \text{ ○ } 0 = 0$$

(或 -)

6. 3 和 5 中间的数是 (4); 与 2 相邻的两个数是 (1)
(3)。

7. 在 \bigcirc 里填上“>”“<”或“=”。

$$2 < 3$$

$$2 - 0 = 2$$

$$3 + 1 = 5 - 1$$

$$5 > 0$$

$$5 - 3 < 3$$

$$4 - 4 < 4 - 1$$

8. \square 里可以填几？

$$3 > \square 2$$

$$2 < \square 5$$

$$1 < \square 2 < 3$$

(前两空答案不唯一)

9. 5 个小朋友排成一队,从前面数,优优排第 4;从后面数,优优排第 (2)。

优干线

wǒ huì xuǎn

bǎ zhèng què dá àn de xù hào tián zài kuò hào lǐ

二、我会选。(把正确答案的序号填在括号里)(10✪)

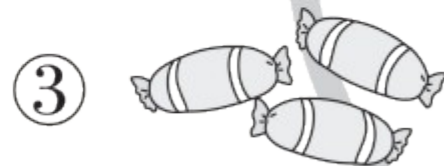
1. (真题演练) 下面算式中, (**③**) 的计算结果是2。

① $2 + 1$

② $5 - 2$

③ $3 - 1$

2. 小可有3颗糖果, 和下面哪一堆合在一起是5颗糖果? (**②**)



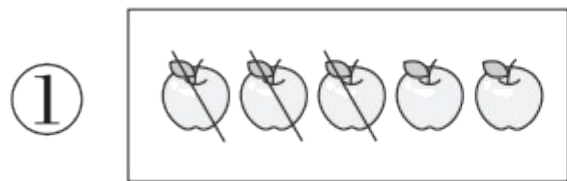
3. 比2大, 比4小的数是(**②**)。

① 1

② 3

③ 5

4. (趋势新题) 下面图(②)能用算式 $3 + 2 = 5$ 表示。



5. $\square + 1 < 5$, \square 里最大填(①)。

① 3

② 2

③ 4

wǒ huì suàn

三、我会算。(12✪)

1. 看谁算得又对又快。(8✪)

$1 + 4 = 5$

$2 + 3 = 5$

$4 - 2 = 2$

$0 + 2 = 2$

$0 + 0 = 0$

$5 - 5 = 0$

$5 - 4 = 1$

$4 - 4 = 0$


2. (趋势新题) 圈出得数是 5 的苹果。(4✳)


 $2+2$


 $5-0$


 $1+2$


 $5-2$


 $2+3$


 $4+1$


 $0+5$


 $1+3$


 $5-5$

优干线

wǒ huì zuò

四、我会做。(19✳)

1. (7✳)



小猴



山羊



小狗



小兔



小猫

(1) 一共有(**5**)只动物。从左边数,排在第2只的是(**山羊**)。

(2)  是从左边数的第(**4**)只,是从右边数的第(**2**)只。


wǒ huì zuò

四、我会做。(19✳)

1. (7✳)



小猴



山羊



小狗



小兔




小猫

(3) 把右边的3只动物圈起来,把从左边数的第3只动物涂上颜色。

(4) 从左边数的第3只动物出去玩了,现在还有(4)只动物。

2. 比一比, 填一填。(7*)



△ 比 ☆ 少 (多, 少)

$3 < 5$

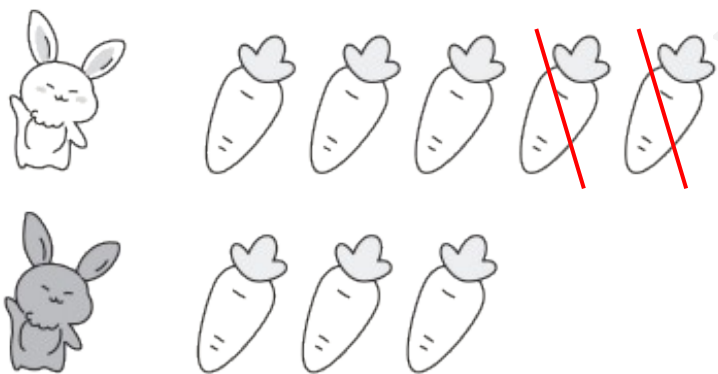
☆ 比 ○ 多 (多, 少)

$5 > 3$

(△) 和 (○) 同样多

$3 = 3$

3. (趋势新题) 怎么能让小白兔和小灰兔的萝卜同样多? 在图上画一画, 再写算式。(5✳)



算式: $5 - 2 = 3$

(答案不唯一)

wǒ huì shuō chū tú de yì sī zài tián suàn shì

五、我会说出图的意思，再填算式。(20✪)

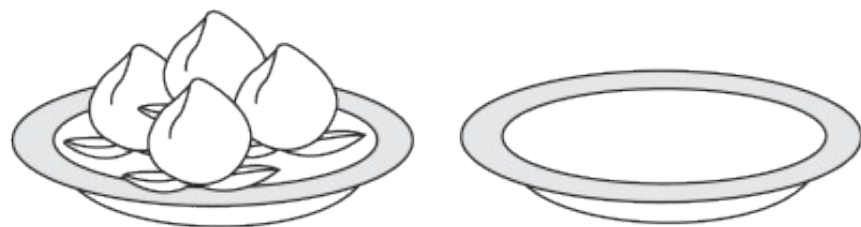
1. (真题演练)



$$\boxed{5} - \ominus \boxed{2} = \boxed{3}$$

2. (真题演练)

优干线



$$\boxed{4} + \oplus \boxed{0} = \boxed{4}$$

3.



$$\boxed{3} \oplus \boxed{1} = \boxed{4}$$

4.



$$\boxed{5} \ominus \boxed{2} = \boxed{3}$$

优干线

wǒ huì kàn tú jiǎng gù shì tián suàn shì
 六、(趋势新题) 我会看图讲故事, 填算式。(5✪)



$$\boxed{3} \oplus \boxed{2} = \boxed{4} \oplus \boxed{1}$$



关注“优翼丛书”小程序

更多优质好课等你来



更多教学资源，敬请关注 www.youyi100.com