



第六单元 数量间的加减关系



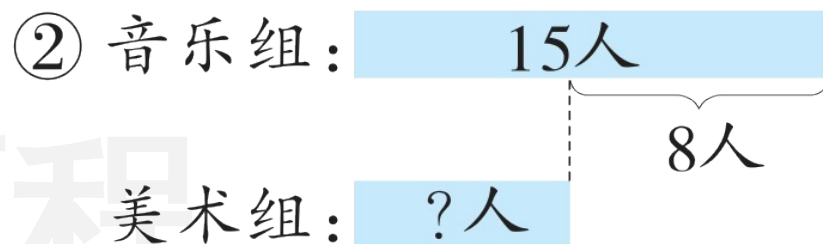
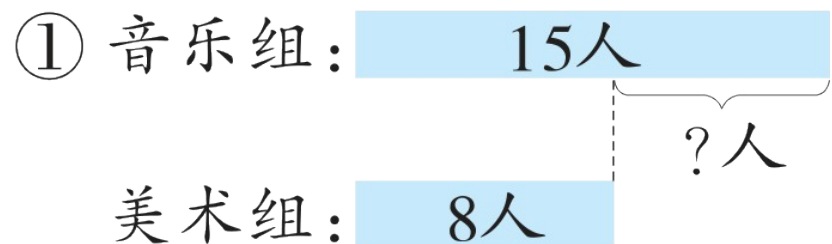
第1课时 解决问题(1)

一年级数学下册 (RJ 卓越版)



新领程同步作业课件

1 yīn yuè zǔ yǒu rén měi shù zǔ yǒu rén yīn yuè zǔ bǐ měi shù zǔ duō jǐ rén
 音乐组有15人，美术组有8人。音乐组比美术组多几人？

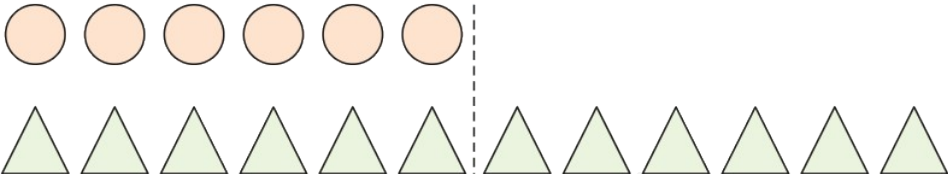


(1) 上面图()能正确分析题意。(填序号)。

(2) 列式计算: $\square \bigcirc \square = \square$ ()

xuǎn yi xuǎn tián xù hào

2 选一选。(填序号)

(1) 如图  ,算式 $12 - 6$ 表示的是()。

① 的个数

② 比 多的个数

③ 比 少的个数

(2) 小乐有 15 颗珠子,其中有 3 颗红色的,小新有 5 颗珠子,小乐比小新多几颗珠子? 下面列式正确的是()。

① $15 - 3$

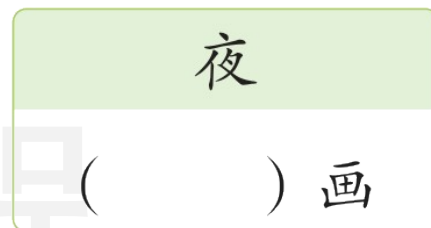
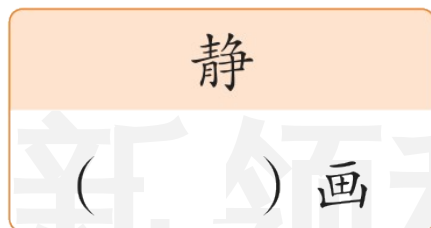
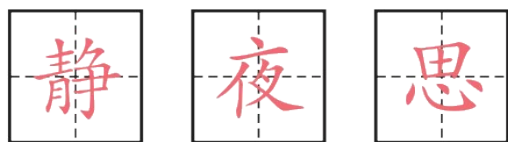
② $15 - 5$

③ $5 - 3$

3 miáo yi miáo shǔ yi shǔ bǐ huà zuì duō de zì bǐ lìng wài liǎng gè zì fēn bié

描一描，数一数，笔画最多的字比另外两个字分别

duō duō shao huà
多多少画？



○ = ()

○ = ()

4 xiǎo yōu jīn nián suì bà ba jīn nián suì nián hòu bà ba bǐ xiǎo yōu dà

小优今年7岁，爸爸今年32岁。6年后，爸爸比小优大

() suì 岁。



关注“优翼丛书”小程序

更多优质好课等你来



更多教学资源，敬请关注 www.youyi100.com