

专项突破与评价

应用提升

一年级数学上册 (RJ)



优干线同步作业课件

wǒ huì tián

一、我会填。(第1题12✳,第8题2✳,其余每空1✳,共30✳)

1. 从下面数中选3个数写出两道加法算式和两道减法算式,请写出三组。

6

10

14

4

2

$$\boxed{6} \oplus \boxed{4} = \boxed{10}$$

$$\boxed{4} \oplus \boxed{6} = \boxed{10}$$

$$\boxed{10} \ominus \boxed{6} = \boxed{4}$$

$$\boxed{10} \ominus \boxed{4} = \boxed{6}$$

$$\boxed{10} \oplus \boxed{4} = \boxed{14}$$

$$\boxed{4} \oplus \boxed{10} = \boxed{14}$$

$$\boxed{14} \ominus \boxed{10} = \boxed{4}$$

$$\boxed{14} \ominus \boxed{4} = \boxed{10}$$

$$\boxed{4} \oplus \boxed{2} = \boxed{6}$$

$$\boxed{2} \oplus \boxed{4} = \boxed{6}$$

$$\boxed{6} \ominus \boxed{4} = \boxed{2}$$

$$\boxed{6} \ominus \boxed{2} = \boxed{4}$$

2. (真题演练) 11 里面有(**1**)个十和(**1**)个一, 这个数前面一个数是(**10**), 后面一个数是(**12**)。
3. (真题演练) 5 个一和 1 个十合起来是(**15**), 比它大, 比 20 小的数有(**16、17、18、**) **1**
4. **9** 两个加数都是 8, 和是(**16**); 被减数是 17, 差是 10, 减数是(**7**)。

5. 找规律填数。

(1) 10, 12, 14, (**16**), 18, (**20**)。

(2) 3, 6, 9, (**12**), 15, (**18**)。

6. (趋势新题)



数一数, 有(**8**)双袜子, 一共是(**16**)只, 再添(**4**)只就有10双袜子了。

7. 优优有 10 个 , 小新有 6 个 , 优优给小新 (**2**) 个 , 两个人的  就同样多。

8. 你在生活中哪里见过 1 ~ 20 的数? 举例说明。

一箱牛奶有 12 盒

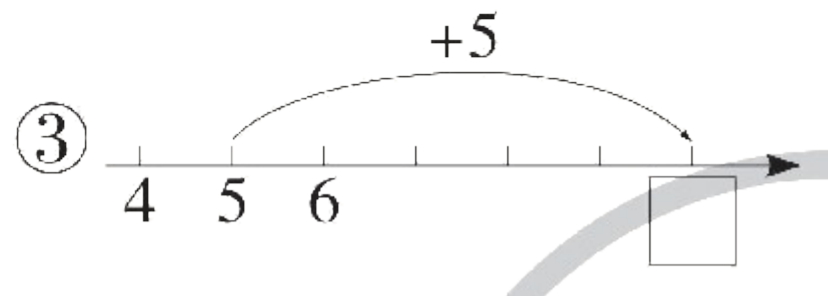
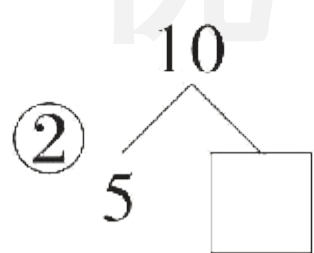

(答案不唯一)

wǒ huì xuǎn

bǎ zhèng què dá àn de xù hào tián zài kuò hào lǐ

二、我会选。(把正确答案的序号填在括号里)(10✿)

1. (趋势新题) 下面问题不能用 $5 + 5 = 10$ 来解决的是(②)。



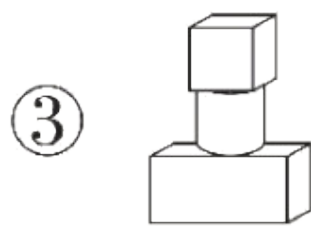
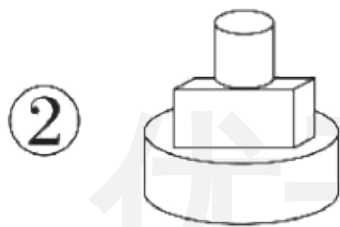
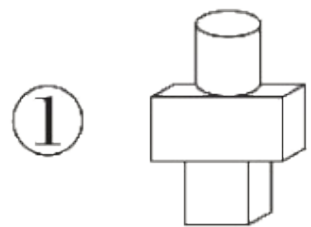
2. (趋势新题) 下面用“凑十法”计算 $8 + 6$ 不正确的是(③)。

① $8 + 6 = 14$

② $8 + 6 = 14$

③ $8 + 6 = 14$

3. (趋势新题) 我说你搭。先放一个正方体, 再在正方体的上面放一个长方体, 最后在长方体的上面放一个圆柱, 下面搭法正确的是(①)。



4. 李老师要外出学习(②)天。

① 5

② 4

③ 3

同学们, 我星期二到星期五要外出学习, 请大家继续保持学习的热情。



李老师

5. 小朋友们排成一队唱歌,从左边数皮皮排第4,从右边数皮皮排第5,这一队共有(①)个小朋友。

① 8

② 9

③ 10

wǒ huì suàn

三、我会算。(20✿)

1. 看谁算得又对又快。(12✿)

$10 + 8 = 18$

$15 - 5 = 10$

$3 + 6 + 5 = 14$

$4 + (9) = 13$

$4 + 11 = 15$

$14 + 3 = 17$

$5 + 8 - 10 = 3$

$(18) - 8 = 10$

$17 - 7 = 10$

$19 - 10 = 9$

$8 - 6 + 9 = 11$

$19 - (4) = 15$

2. 在 里填上合适的数,使两边相等。(8✪)

$$\frac{\boxed{8}}{\quad} = \frac{10-2}{\quad}$$

$$\frac{\boxed{0}+4}{\quad} = \frac{10-6}{\quad}$$

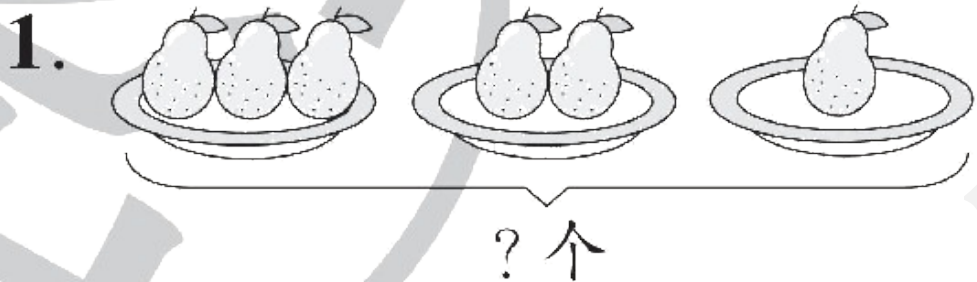
$$\frac{4+5}{\quad} = \frac{1+\boxed{8}}{\quad}$$

$$\frac{\boxed{6}+\boxed{2}}{\quad} = \frac{8}{\quad}$$

(最后两空答案不唯一)

wǒ huì shuō chū tú de yì sī zài tián suàn shì

四、我会说出图的意思，再填算式。(10✪)



$$\boxed{3} \oplus \boxed{2} \oplus \boxed{1} = \boxed{6} \text{ (个)}$$

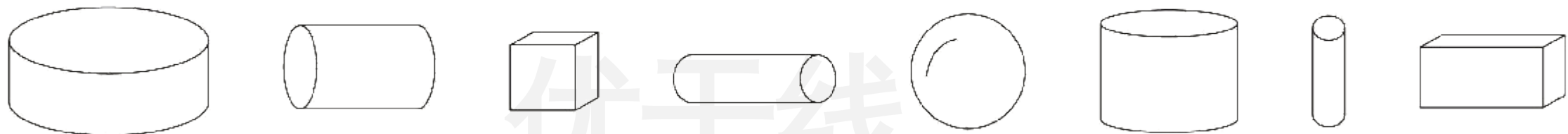


$$\boxed{8} \ominus \boxed{2} \ominus \boxed{3} = \boxed{3}$$

wǒ huì zuò

五、我会做。(13✳)

1. 数一数,填一填。(7✳)



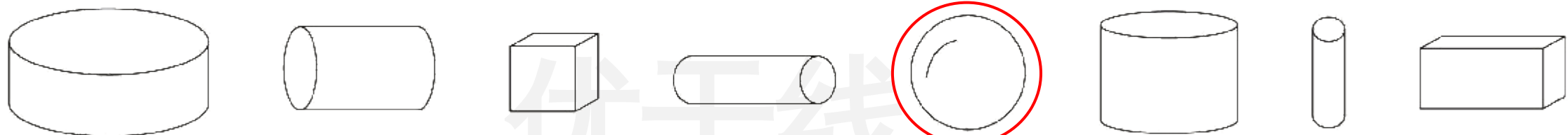
(1) 上面一共有(**8**)个立体图形,其中圆柱有(**5**)个。

(2) 从左边数正方体排第(**3**),从右边数长方体排第(**1**)。

wǒ huì zuò

五、我会做。(13✳)


1. 数一数, 填一填。(7✳)





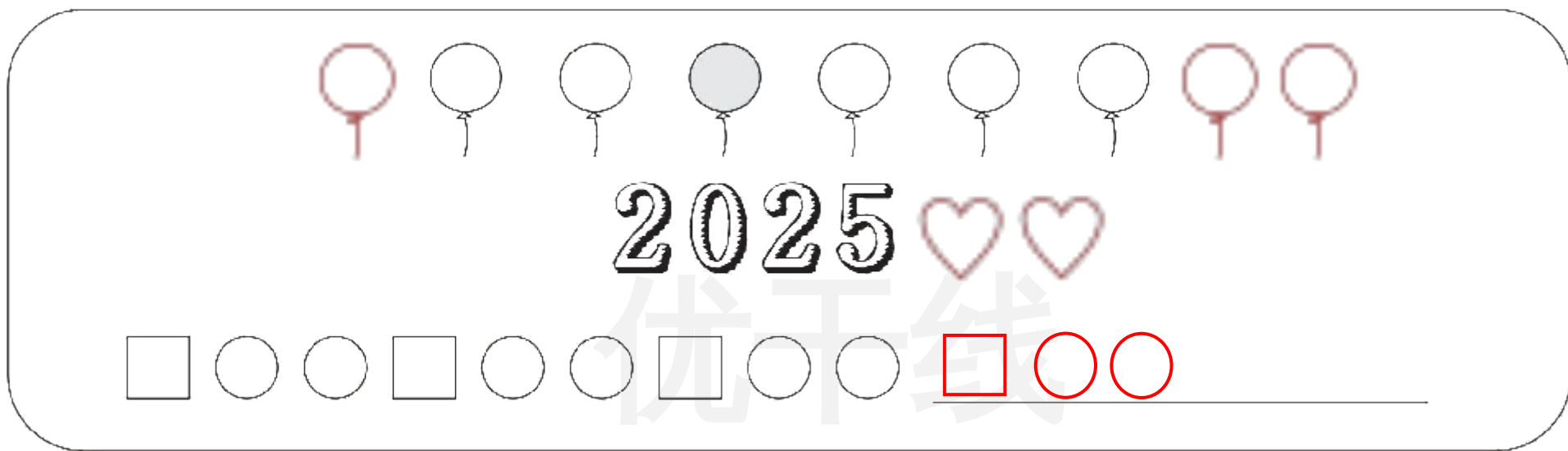
(3) 把从右边数的第4个立体图形圈起来, 再数一数, 它的左边有
(4)个立体图形。


(4) 数一数, 长方体和正方体之间有(4)个立体图形。

2. (趋势新题) 按要求画一画。(6✳)



(1) 按要求把图上方的气球画完: 从左边数  是第 4 个, 从右边数  是第 6 个。



(2) 在“2025”的右边画 2 个 。


(3) 观察图中最下面一行图形的规律,接着再画 3 个图形。

wǒ huì jiě jué wèn tí

六、我会解决问题。(17✿)

1. 小贝带多少钱可以正好买下面两样东西?(5✿)

$$\boxed{12} \oplus \boxed{7} = \boxed{19} \text{ (元)}$$

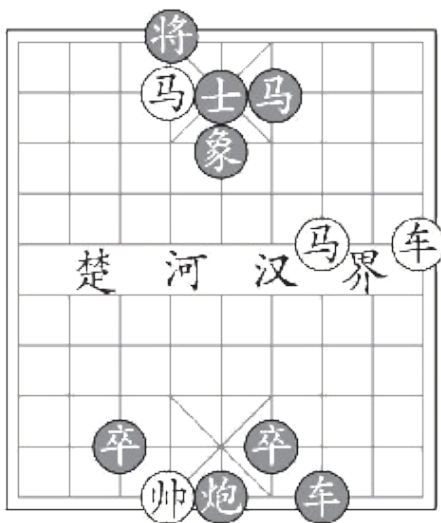


12元



7元

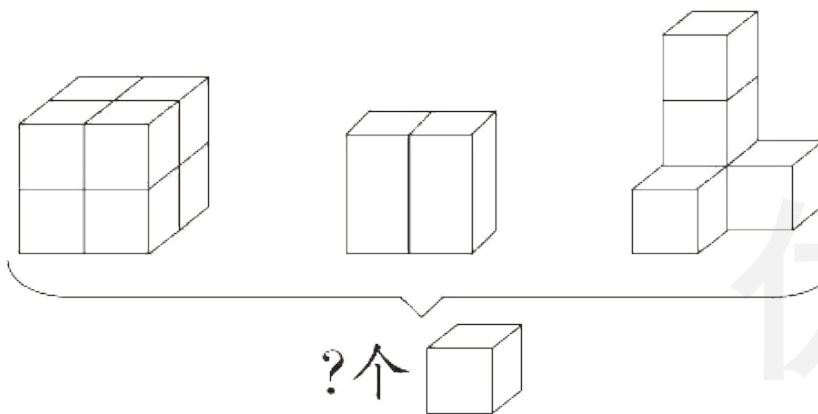
2. (趋势新题) 爷爷正在教小宇下中国象棋(如图)。现在棋盘上还剩下多少枚棋子? (6✳)



方法一: $7 + 5 = 12$ (枚)

方法二: $8 + 4 = 12$ (枚)

3. (趋势新题) 在正确的算式右边画“√”，并说明理由。(6✳)



$8 + 2 + 5 = 15(\text{个})$

$8 + 5 = 13(\text{个})$

理由：**本题是计算有多少个正方体，中间的2个立体图形是长方体，不参与计算**

(言之有理即可)



关注“优翼丛书”小程序

更多优质好课等你来



更多教学资源，敬请关注 www.youyi100.com