

# 20 以内的进位加法

## 练一练



# 1. 一共有多少人？



$$\boxed{5} + \boxed{9} = \boxed{14} \text{ (人)}$$

还能怎样解答？



## 2. 原来有多少个草莓？



吃掉了 5 个，还剩 6 个。

$$\boxed{5} + \textcircled{+} \boxed{6} = \boxed{1} \text{ (个)}$$

1

$$3. \quad 8 + 5 \overset{1}{=} \\ = \overset{3}{3}$$

$$4 + 9 \overset{1}{=} \\ = \overset{3}{3}$$

$$10 - \overset{6}{4} = \\ = \overset{1}{1}$$

$$3 + \overset{1}{8} \\ = \overset{3}{3}$$

$$5 + 7 \overset{2}{=} \\ = \overset{1}{1}$$

$$6 + 8 \overset{4}{=} \\ = \overset{2}{2}$$

$$10 + \overset{5}{5} = \\ = \overset{5}{5}$$

$$9 - \overset{1}{6} \\ = \overset{0}{0}$$


$$7 + 4 = \\ =$$

$$9 + 3 =$$

$$13 + 2 =$$

$$2 + 8$$

# 4. 一共有多少个同学？



已经进去了  
7个同学。

$$\boxed{7} \oplus \boxed{6} = \boxed{13} \text{ (个)}$$

5. 拼出图案①和图案③，  
一共要用多少根小棒？

$$8 + 7 = 15$$

一共要用15根小棒。

8 根

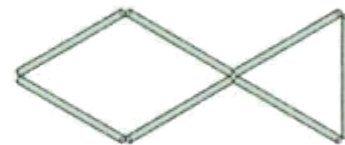


①

7 根



②



③

请你再提出一个数学问题并解答。

6. 在  里填上“>”“<”或“=”。

$$13 > 4 + 8$$

$$3 + 9 < 14$$

$$7 + 6 > 12$$

$$11 < 5 + 7$$

$$6 + 5 < 12$$

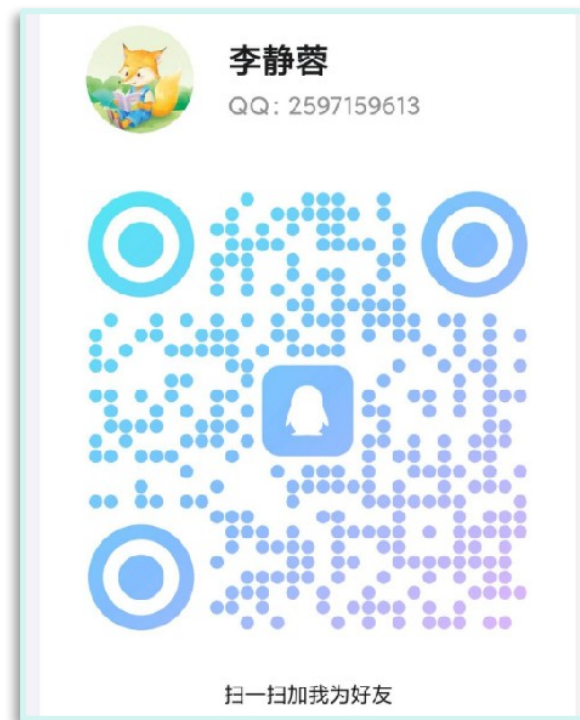
$$3 + 8 = 11$$

# 感谢您使用我们的课件！

欢迎各位老师对此课件提出宝贵的建议，我们将更好的为您服务。

如果您有兴趣参与产品内容研发  
(课件教案编修、教辅图书编修)

请用 QQ 扫码添加优翼教育产品顾问李老师的 QQ。



# 学习用优翼 越来越优异

优翼产品与服务  
历年中小学生学习人次 **3 亿 +**

优翼网教学资源  
每年服务师生人次 **3000 万 +**

年举办公益  
教研活动场次 **300+**



· 学练优 | 新领程 | 涂重点 | 优翼网 教学资源服务平台

[www.youyi100.com](http://www.youyi100.com)



优翼品牌形象代言人

# 学习用优翼 越来越优异

## 优翼教学工具书（小学系列）“3+n”选购指南：

教材笔记 1 本、同步练习 1 本、检测试卷 1 本 + 专项提升 n 本

教材笔记：新领程·涂重点 甘橙语文笔记

同步练习：学练优 新领程 学习单（素养导向的大单元作业）

检测试卷：优干线 真题新卷

假期作业：暑假衔接 寒假衔接

小学总复习：极速提分 系统强化训练 小总冲刺卷 全真模拟卷

字帖系列：四步法写字 写字高手 静心字帖……

语文专项：看图写话 同步作文 默写大通关 阅读与积累 五步法作文 情境

化串联古诗词 趣味拼音拼读

数学专项：必考口算应用题 同步口算 口算天天练 模型图解应用题

英语专项：拼读法速记单词 趣味速记音标



# 声明

---

本文件著作权为创作公司所有，仅限于教师教学及其他非商业性和非盈利性用途。如发现盗用、转卖、网络传播等侵权行为，本公司将依法追究其相应法律责任。

部分素材选自网络，如有争议，请联系删改。