

单元回顾与评价

第一单元学业质量评价（B）

一年级数学上册（RJ）

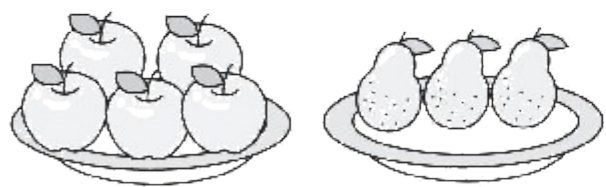


优干线同步作业课件


wǒ huì tián

一、我会填。(第1题6✿,其余每空1✿,共30✿)

1. 数一数,比一比。



(5) > (3)

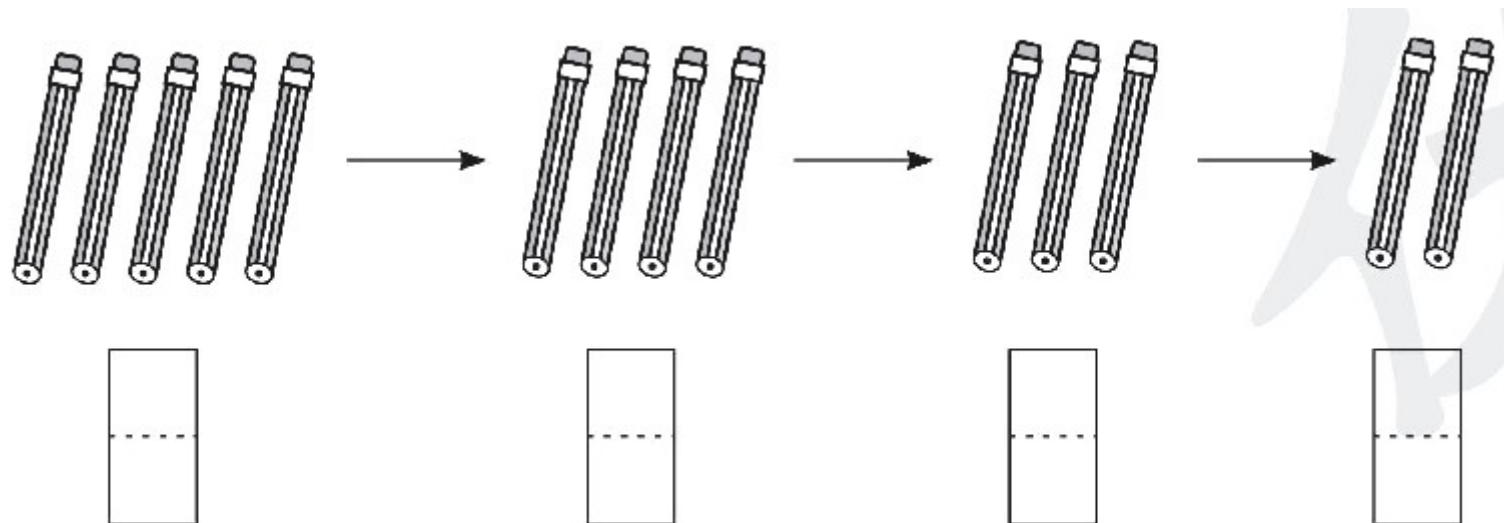


(2) < (5)



(3) = (3)

2. (趋势新题) 数一数, 填一填。



每次少(**1**)支。 (写数略)

3. 比 2 大又比 5 小的数有 (**3**) 和 (**4**); 比 4 大 1 的数是 (**5**)。

4.



第 1 只



第 4 只



第 5 只

(1) 一共有 (**5**) 只鸟。

(2) 被遮住的是第 (**2**) 只鸟和第 (**3**) 只鸟, 遮住了 (**2**) 只鸟。

5. (真题演练) 按顺序排一排。

(1) 3 5 1 2 4

(**1**) < (**2**) < (**3**) < (**4**) < (**5**)

(2) 1+4 5-5 2+2 5-2 2+0

(**1+4**) > (**2+2**) > (**5-2**) > (**2+0**) > (**5-5**)

6. 想一想, 填一填。

(1)  < 5 ,  可能是 (**0**、**1**、**2**、**3**)。
、**4**

(2)  > 2 ,  最小是 (**3**)。

wǒ huì xuǎn

bǎ zhèng què dá àn de xù hào tián zài kuò hào lǐ

二、我会选。（把正确答案的序号填在括号里）（18✪）

1. 与2相邻的两个数分别是（**②**）。

① 0 和 1

② 1 和 3

③ 3 和 4

2. (真题演练) 与 $2+2$ 的得数相等的算式是（**③**）。

① $4-1$

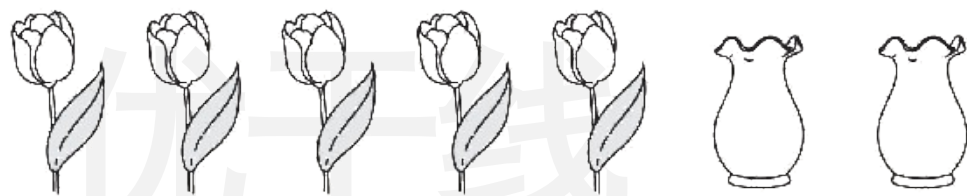
② $1+4$

③ $3+1$

3. (趋势新题) 计算 $5 - 3$, 下面想法不正确的是(②)。

- ① 想: 5 可以分成 3 和 2
- ② 想: 从 5 倒着数, 5、4、3、2, 还剩 1
- ③ 想: $3 + 2 = 5$

4. 5 枝  要插入 2 个  里, 每个  能插入同样多的  吗? (①)

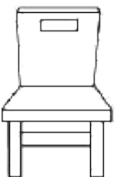


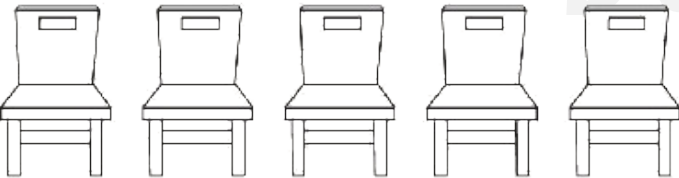
① 不能

② 能

③ 无法确定

5. 从第二排拿(②)把椅子放到第一排,两排的椅子就同样多了。

第一排: 

第二排: 

① 1

② 2

③ 4

优干线

6. $\star + \star = 4$, $\star + \bigcirc = 5$, 那么 $\bigcirc = (\textcircled{2})$ 。

① 2

优干线

② 3

③ 4

wǒ huì suàn

三、我会算。(20✳)

1. 看谁算得又对又快。(10✳)

$$3 + 1 = 4$$

$$2 + 3 = 5$$

$$2 + 2 = 4$$

$$4 - 1 = 3$$

$$1 + 1 = 2$$

$$4 - 0 = 4$$

$$0 + 5 = 5$$

$$5 - 3 = 2$$

$$1 + 4 = 5$$

$$2 - 0 = 2$$

2. (趋势新题) 在 里填上合适的数。(10✿)

得数是 3

$$5 - \boxed{2} = 3$$

$$4 - \boxed{1} = 3$$

$$3 - \boxed{0} = 3$$

得数是 4

$$4 + \boxed{0} = 4$$

$$3 + \boxed{1} = 4$$

$$2 + \boxed{2} = 4$$

得数是 5

$$5 + \boxed{0} = 5$$

$$5 - \boxed{0} = 5$$

$$\boxed{2} + \boxed{3} = 5$$

(最后 2 空答案不唯

一)

四、我会解决问题。(32✱)

位于广州市的长隆野生动物世界是具有国际水准的野生动物园。优优和爸爸一起去长隆野生动物世界游玩。

1. 排队买门票。(6✱)


(1) 一共有(**5**)人排队买票。(1✱)

(2) 优优排第(**4**), 她前面有(**3**)

人, 后面有(**1**)人。(3✱)

(3) (趋势新题) 第一个叔叔买完票走了, 现在一共有(**4**)人排队,

优优排第(**3**)。(2✱)




2. 参观动物园！说一说看到了什么，再写出算式。（20✿）

(1) 大熊猫吃竹子。（5✿）



$$\boxed{1} + \boxed{2} = \boxed{3}$$

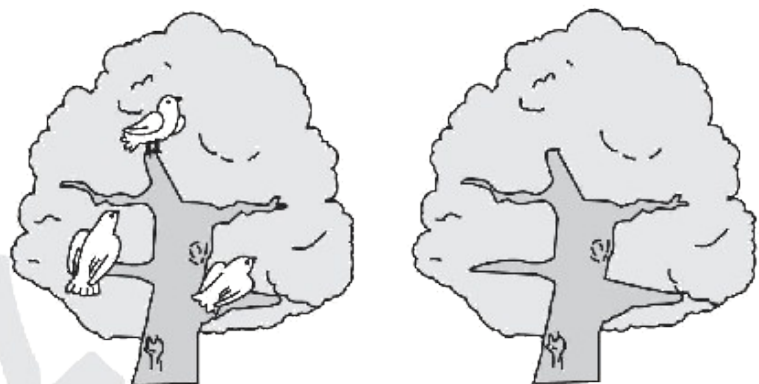
(2) 小猴子荡秋千。（5✿）



$$\boxed{3} + \boxed{2} = \boxed{5}$$

优干线

(3) 小鸟栖树。(5✿)



$$\boxed{3} + \boxed{0} = \boxed{3}$$

(4) 天鹅戏水。(5✿)



$$\boxed{5} - \boxed{2} = \boxed{3}$$

优干线

3. (趋势新题) 投喂长颈鹿。(6✪)



我有4根树枝，给长颈鹿喂了2根。

我有3根树枝，给长颈鹿喂了1根，我们剩下的同样多。



$$\boxed{4} \ominus \boxed{2} = \boxed{3} \ominus \boxed{1}$$

【挑战题】(做对了,奖励 10🌸哦!)

xià miàn de dòng wù biǎo shì jǐ

下面的动物表示几?

(1)  +  = 4  -  = 1  = (**2**)  = (**3**)

(2)  + 2 = 5  -  = 2  = (**3**)  = (**1**)



关注“优翼丛书”小程序

更多优质好课等你来



更多教学资源，敬请关注 www.youyi100.com