

# 单元回顾与评价

## 第二单元学业质量评价（B卷）

一年级数学上册（RJ）

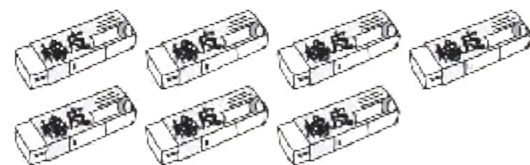
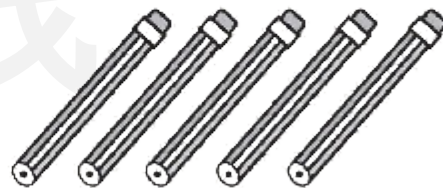



优干线同步作业课件

wǒ huì tián

# 一、我会填。(第1、5题每题4✿,其余每空1✿,共30✿)






1. (真题演练) 数一数, 比一比。



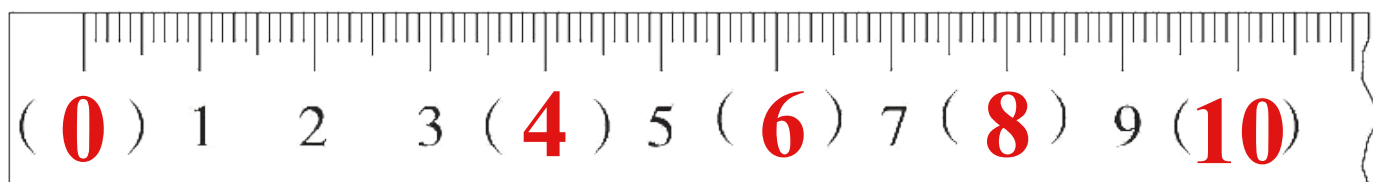
$$( 9 ) > ( 6 )$$

$$( 5 ) < ( 7 )$$

2. 照样子, 填一填。



3. (真题演练)先在图中填一填,再回答问题。



(1) 3 和 5 中间的数是 ( **4** ), 与 9 相邻的两个数是 ( **8** ) 和 ( **10** )。

(2) 上面的数中, 比 3 小的数有 ( **3** ) 个, 比 3 大的数有 ( **7** ) 个。

(3) 1 和 7 两个数中, ( **7** ) 更接近 5。

4. 把下面的算式按得数从小到大的顺序排一排。(写算式)

$$0 + 6$$

$$9 - 6$$

$$7 - 5$$

$$4 + 3$$

$$7 - 2$$

$$\begin{array}{ccccccccc} ( & 7 & - & ) & < & ( & 9 & - & ) & < & ( & 7 & - & ) & < & ( & 0 & + & ) & < & ( & 4 & + & ) \\ & 5 & & & & & 6 & & & & & 2 & & & & & 6 & & & & & & 3 & & \end{array}$$

5. (趋势新题) 按顺序填一填。

写出两种不同的填法哦!



2	3	4	5	6
---	---	---	---	---

6	5	4	3	2
---	---	---	---	---

(答案不唯一)

6. (趋势新题) 如图, 我国古代用算筹(chóu)表示数。

1 2 3 4 5 6 7 8 9

纵(zòng)式: | || ||| |||| ||||| T TT TTT TTTT

横(héng)式: — = ≡ ≡≡ ≡≡≡ ⊥ ⊥⊥ ⊥⊥⊥

请你用纵式的算筹算一算:  $T - ||| = ( || )$ ,  $TTT - |||| = ( |||| )$ 。(用算筹表示)

wǒ huì xuǎn      bǎ zhèng què dá àn de xù hào tián zài kuò hào lǐ

## 二、我会选。(把正确答案的序号填在括号里)(12✿)

1. 根据  $3 + 7 = 10$  可以写出的减法算式是( ② )。

①  $7 + 3 = 10$

②  $10 - 7 = 3$

③  $7 - 3 = 4$

2. 算式  $\square + 3 < 7$ ,  $\square$  里不能填( ③ )。

① 2

② 3

③ 4

3. 比9小,比4大的数有( ② )个。

① 3

② 4

③ 5

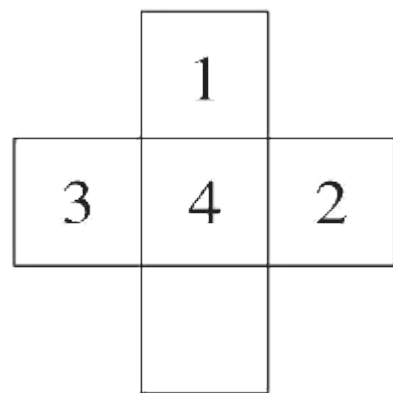
4. (趋势新题)如图,要使每行、每列上三个数相加的得数相

同,  里应该填( ② )。

① 3

② 4

③ 5



5. 下面说法正确的是( ① )。

① 比5个多2个是7个

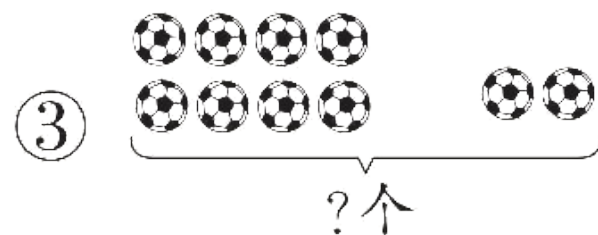
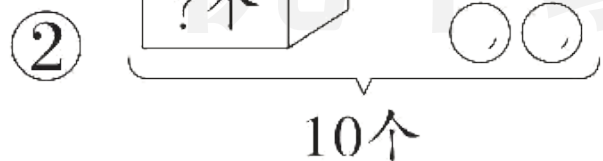
② 与7相邻的数是8和9

③ 2个2个地数:1、2、4、6、8、9

6. (趋势新题) 下面问题不可以用  表示的是

( ② )。

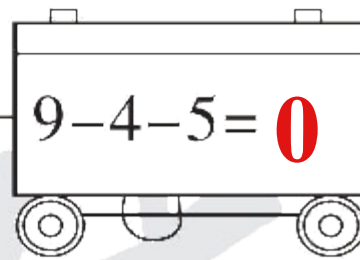









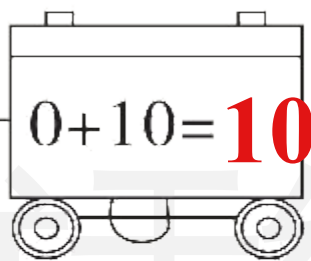

一共几颗草莓?



wǒ huì suàn

### 三、我会算。(24✿)

#### 1. (趋势新题) 小白兔坐火车。(12✿)



## 2. (趋势新题) 小白兔拔萝卜。(12✿)

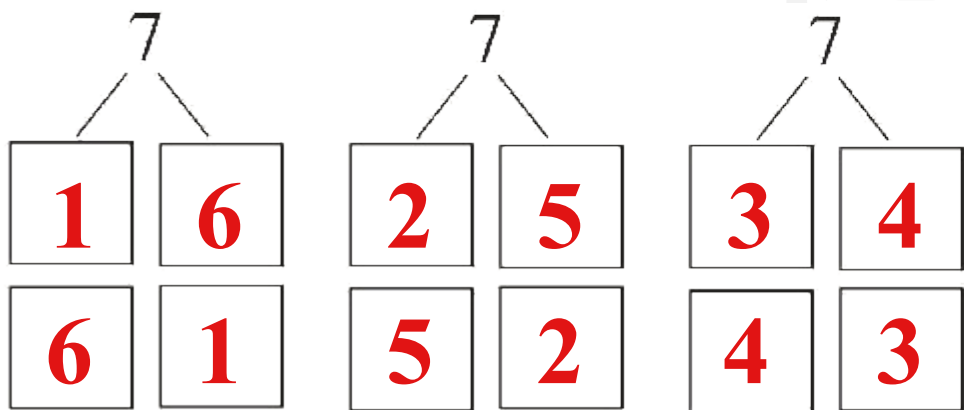


我拔的红萝卜和白萝卜一共有7个。

你能有序表示红萝卜和白萝卜的数量吗？



7的分与合：



$1 + 6 = 7$	$6 + 1 = 7$
$2 + 5 = 7$	$5 + 2 = 7$
$3 + 4 = 7$	$4 + 3 = 7$

wǒ huì zuò

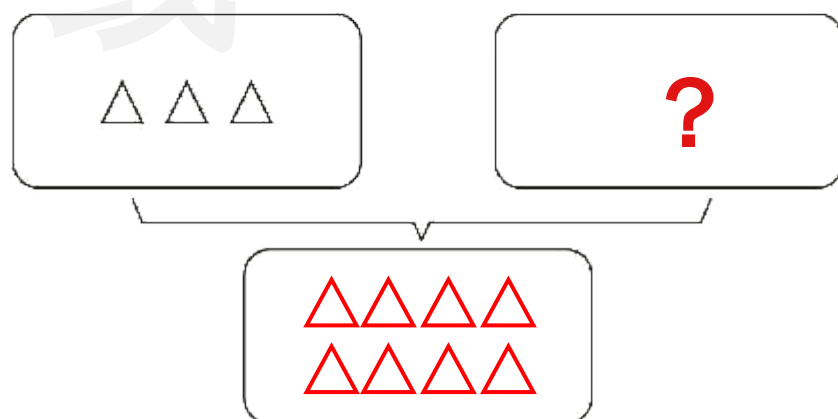
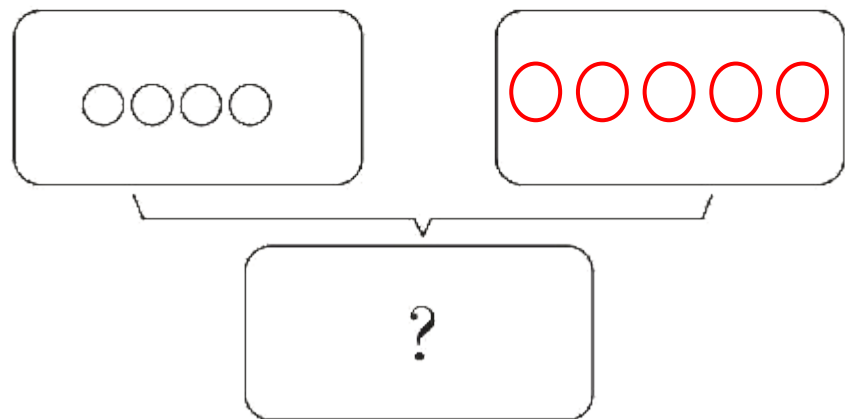
# 四、我会做。(8✿)

先写出算式的得数,再根据算式补充图。

想一想,“?”填在哪里呢?

(1)  $4 + 5 = ( 9 )$

(2)  $8 - 3 = ( 5 )$

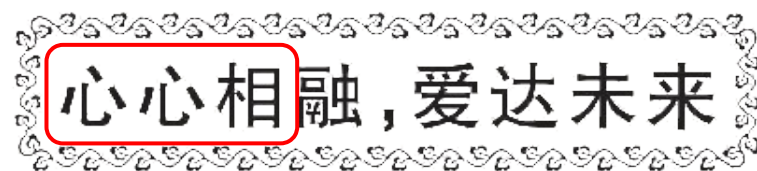


wǒ huì jiě jué wèn tí

## 五、我会解决问题。(26✱)

2023年9月杭州举办了第19届亚运会。

1. (趋势新题) 如图, 是亚运会的主题口号。(8✱)



(1) 主题口号一共有( **8** )个汉字。(2✱)

(2) 从右边数, 第6个汉字是( **相** ), 从左边数, 这个汉字排第( **3** )。(4✱)

(3) 把左边的3个汉字圈起来。(2✱)

2. (趋势新题) 优优买了一些杭州亚运会的纪念礼盒。(8✳)



我要送给爷爷奶奶4个，  
送给妹妹2个。



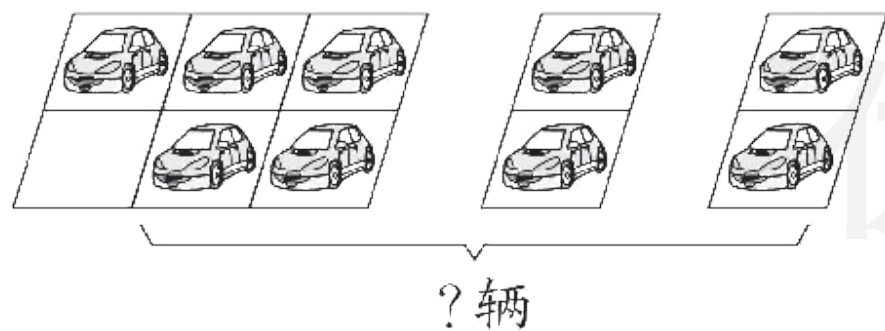
说一说：优优买了( **9** )个纪念礼盒，送给爷爷奶奶( **4** )个，送  
给妹妹( **2** )个，还剩下几个？

列式计算： $\boxed{9} \ominus \boxed{4} \ominus \boxed{2} = \boxed{3}$  (个)


3. 2024年4月杭州亚运会博物馆正式开放啦！看图填算式。(10✳)

(1) 停车场停车。(5✳)

(2) 乘电梯参观。(5✳)



$$\boxed{5} \oplus \boxed{2} \oplus \boxed{2} = \boxed{9} \text{ (辆)}$$



$$\boxed{5} \ominus \boxed{2} \oplus \boxed{3} = \boxed{6} \text{ (人)}$$

【挑战题】(做对了,奖励 10✳️哦!)

shēng huó zhōng yòng

jiě jué de wèn tí yǒu nǎ xiē

shì zhe xiě yì

生活中用  $3 + 7$  解决的问题有哪些? 试着写一

xiě huò huà yì huà

写或画一画。

优干线

花瓶里有 3 枝花,又插了 7 枝,花瓶里一共有多少枝花?

(答案不唯一)



关注“优翼丛书”小程序

更多优质好课等你来



更多教学资源，敬请关注 [www.youyi100.com](http://www.youyi100.com)