

单元回顾与评价

第二单元学业质量评价（A卷）

一年级数学上册（RJ）

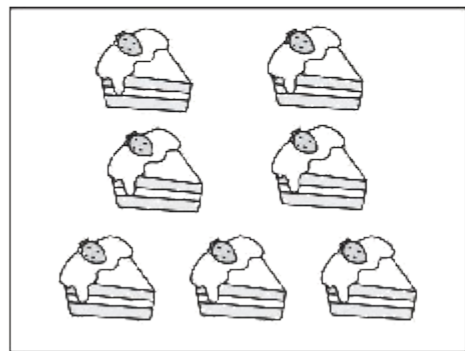



优干线同步作业课件

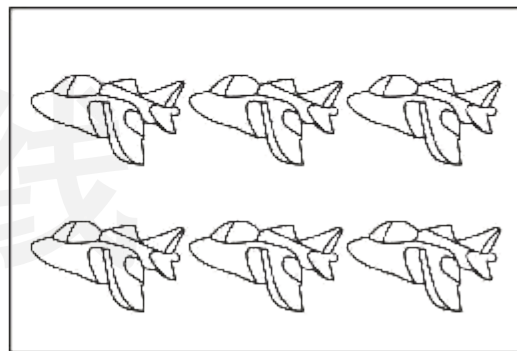
wǒ huì tián

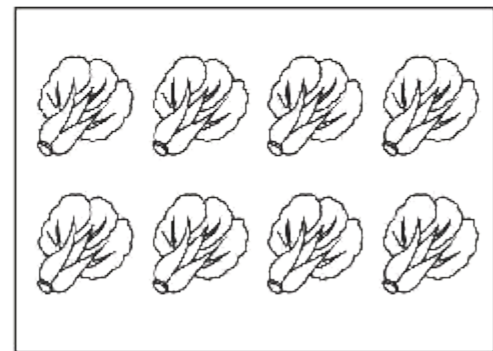
一、我会填。(第3题4✿,第7题8✿,其余每空1✿,共34✿)

1. 看图写数。





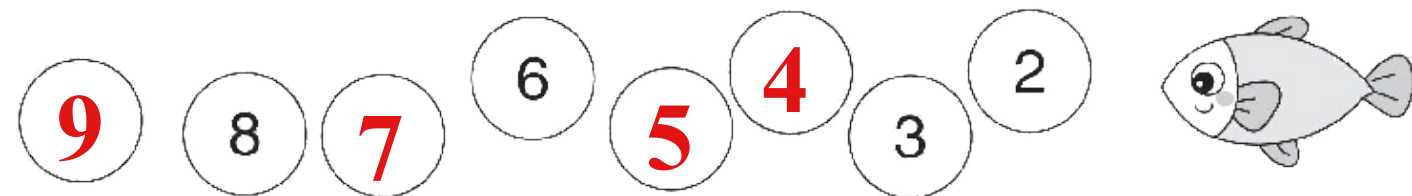





(写数略)

2. (真题演练) 与 8 相邻的两个数是 (**7**) 和 (**9**); 9 后面一个数是 (**10**)。

3. 小鱼吹泡泡。(按顺序写数)

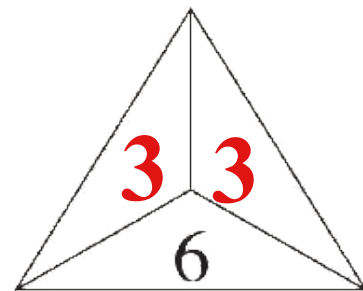
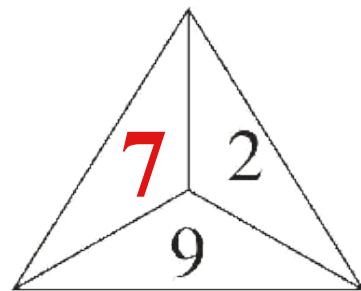
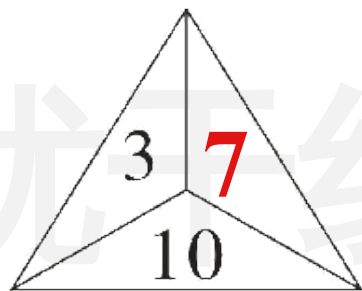
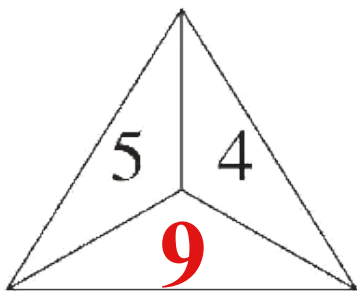
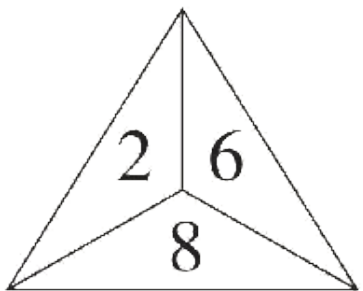


4. 比一比, 填一填。



碗比  少 (**3**) 个,  比  多 (**3**) 个。

5. (趋势新题) 照样子, 填一填。



(最后两空答案不唯一)

6. 在 ○ 里填上“>”“<”或“=”。

$$10 - 3 \text{ ○ } 8$$

$$7 + 2 \text{ ○ } 6$$



$$8 + 1 + 1 \text{ ○ } 9 - 2 + 3$$

$$0 + 10 \text{ ○ } 0$$

$$4 + 5 \text{ ○ } 10$$

$$9 - 3 - 3 \text{ ○ } 7 + 2 - 5$$

7. (真题演练)



$$\boxed{5} + \boxed{3} = \boxed{8}$$

$$\boxed{8} - \boxed{5} = \boxed{3}$$

$$\boxed{3} + \boxed{5} = \boxed{8}$$

$$\boxed{8} - \boxed{3} = \boxed{5}$$

8. $\triangle - \square = 7$, $\square + 3 = 5$ 。则 $\square = (\quad 2 \quad)$, $\triangle = (\quad 9 \quad)$ 。

wǒ huì xuǎn

bǎ zhèng què dá àn de xù hào tián zài kuò hào lǐ

二、我会选。(把正确答案的序号填在括号里)(10✿)

1. 比4大,比10小的数有(③)个。

① 7

② 6

③ 5

2. (趋势新题)关于“6”,下面说法正确的是(②)。

① 一个星期有6天

② 一年级的学生,年龄大多是6岁

③ 6比7大,但比5小

3. 与 $5 + 3$ 得数相等的算式是(①)。

① $1 + 7$

② $10 - 3$

③ $4 + 5$

4. (真题演练)得数比 5 大的算式是(③)。

① $10 - 2 - 3$

② $9 - 8 + 2$

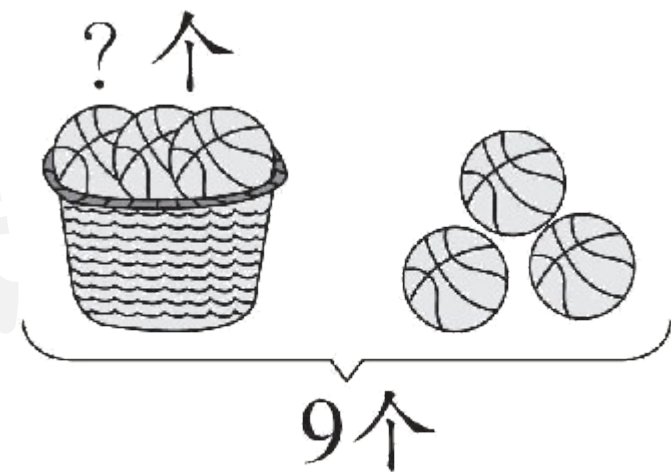
③ $6 - 3 + 4$

5. 图中要解决的问题是(①)。

① 筐里有多少个篮球

② 图中右边有多少个篮球

③ 一共有多少个篮球



wǒ huì suàn

三、我会算。(14✿)

1. 算一算。(8✿)

$8 + 1 = 9$

$9 - 4 = 5$

$6 - 3 = 3$

$0 + 7 - 3 = 4$

$7 - 3 = 4$

$8 - 2 = 6$

$5 + 2 = 7$

$9 - 7 + 2 = 4$

2. 在 里填上合适的数。(6✳)

$$5 + \boxed{5} = 10$$

$$9 - \boxed{5} = 4$$

$$\boxed{7} + 3 = 5 + 5$$

$$\boxed{6} - 2 = 4$$

$$5 + \boxed{3} = 8$$


$$\boxed{3} + \boxed{4} = 6 + 1$$

(最后两空答案不唯一)

wǒ huì zuò

四、我会做。(9✱)

1. 填一填,涂一涂,圈一圈。(5✱)



(1) 从左边数,第 5 棵树上 有 (**6**) 个苹果,有 5 个苹果的是第 (**4**) 棵树。

(2) 从右边数,第 1 棵树和第 3 棵树合起来有 (**8**) 个苹果。

(3) 把从左边数的第 4 棵树涂上颜色;把右边的 3 棵树圈起来。

2. (趋势新题) 接着画一画, 填一填。(4✳)



优干线

$$3 + \boxed{4} = 7$$




$$4 + \boxed{5} = 9$$

wǒ huì shuō chū tú de yì sī zài tián suàn shì

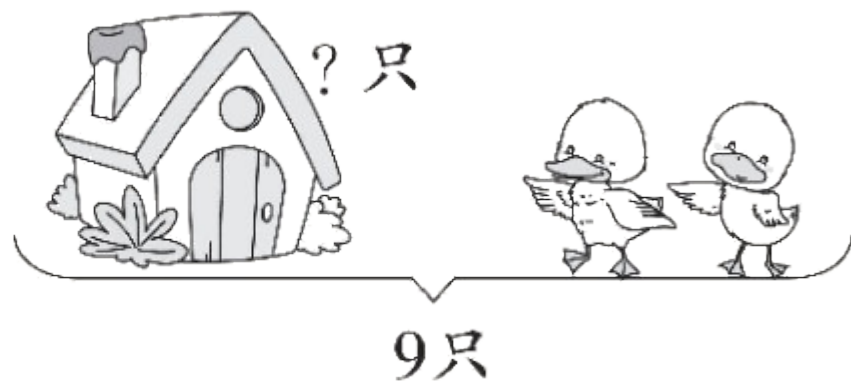
五、我会说出图的意思，再填算式。(20✿)

1.



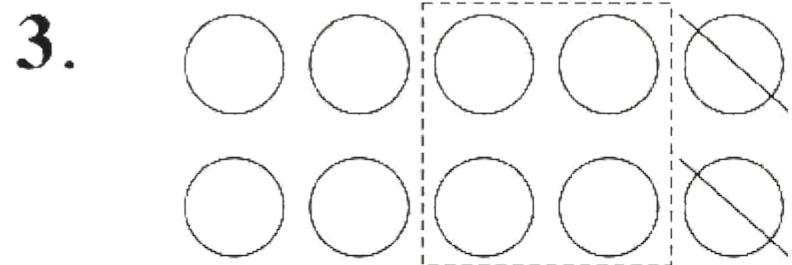
$$\boxed{1} \oplus \boxed{5} = \boxed{6} \text{ (个)}$$

2.

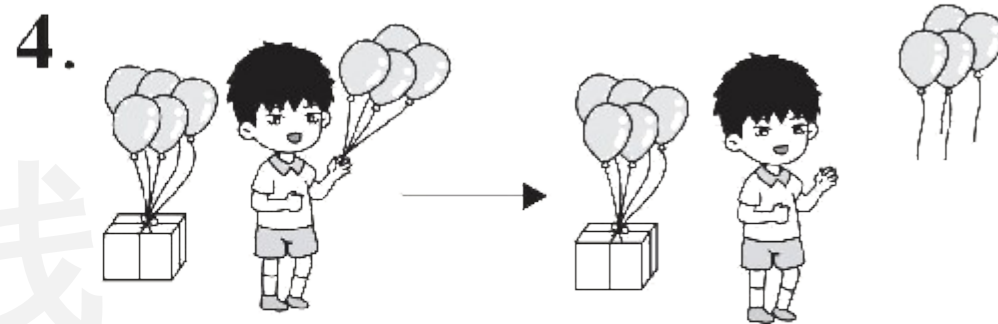


$$\boxed{9} \ominus \boxed{2} = \boxed{7} \text{ (只)}$$

优干线



$$\boxed{10} - \boxed{4} - \boxed{2} = \boxed{4}$$



$$\boxed{5} + \boxed{4} - \boxed{4} = \boxed{5}$$

wǒ huì jiě jué wèn tí

六、我会解决问题。(13✿)

1. 几岁生日就要插几根蜡烛,生日蛋糕上还要再插几根蜡烛?(5✿)



今天是我的
7岁生日。




姐姐,祝你
生日快乐!



$$\boxed{7} - \boxed{3} = \boxed{4} \text{ (根)}$$


2. (趋势新题) (8✳)



(1) 一共有 10 只小兔, 房子里有几只小兔? (4✳)

$$\boxed{10} - \boxed{3} = \boxed{7} \text{ (只)}$$

2. (趋势新题) (8✳)



(2) 请你提出一个数学问题并解答。(4✳)

提问：一共有多少根萝卜？


(答案不唯一)

$$\boxed{5} \oplus \boxed{4} = \boxed{9} \text{ (根)}$$

【挑战题】(做对了,奖励 10✿哦!)

yí gòng yǒu duō shao zhī xiǎo dòng wù zài pái duì ne
 一共有多少只小动物在排队呢?

从前面数和从后面数,我都排第4。



$$3+3+1=7$$

$$[\text{或 } (4+4)-1=7 \text{ (只)}]$$



关注“优翼丛书”小程序

更多优质好课等你来



更多教学资源，敬请关注 www.youyi100.com