



第一单元核心素养闯关

一年级数学下册 (RJ)





wǒ huì tián

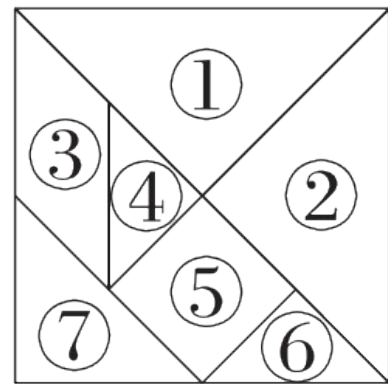
第一关 我会填。(每空1☆,共32☆)

1. 有趣的七巧板。

(1) 如图是一副七巧板,它是由()种不同的图

形组成的,其中有()个 , ()个

, ()个 。



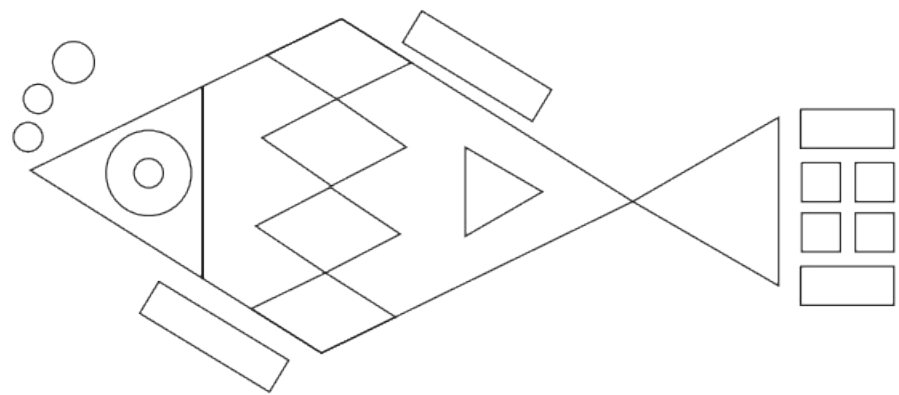
(2) ()号图形是正方形,它可以由()号图形和


()号图形拼成。


2. 拼成一个正方形,至少要()个同样的三角形;至少要


()个同样的正方形可以拼成一个新的正方形。

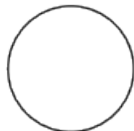
3. 数一数。



() 个 

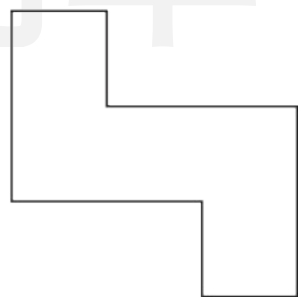
() 个 

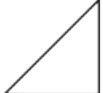
() 个 

() 个 

() 个 

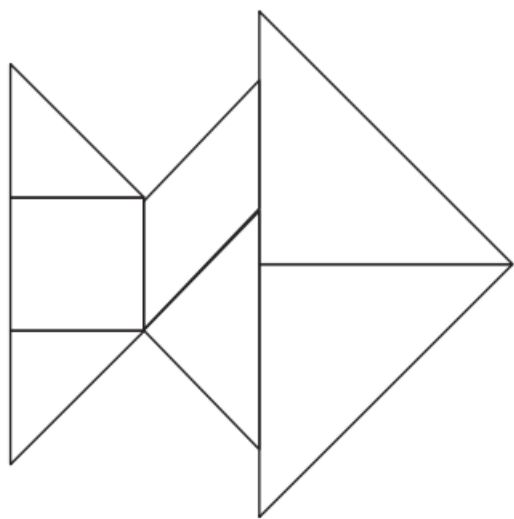
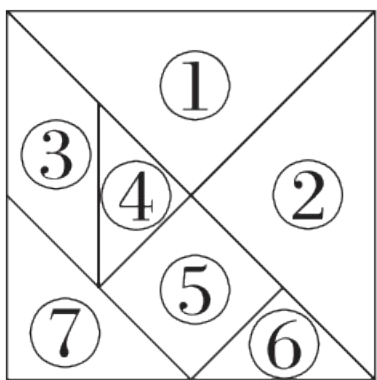
4. 用 () 个  可以拼成一个



, 用 () 个  可以

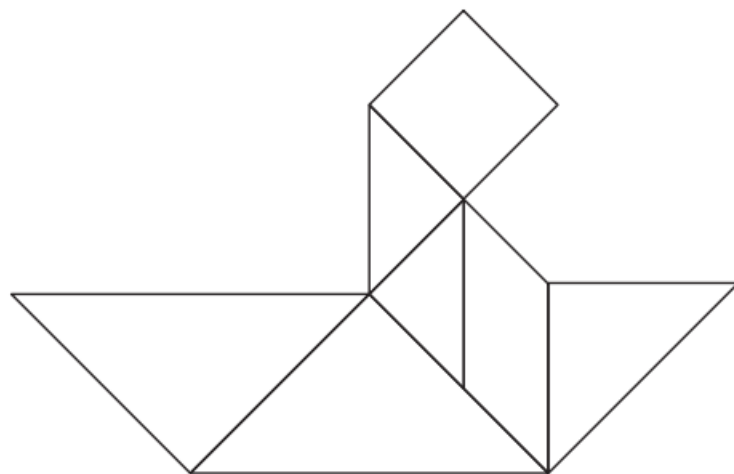
拼成一个  。

5. 下面的图案分别是由一副七巧板拼成的, 它们分别像什么? 填一填, 并在图案中写出每块的编号。



()


鱼



()

wǒ huì xuǎn

第二关 我会选。(10☆)


1. 用  可以画出()种不同的长方形。


① 7


② 5

③ 3

2. 用  可以画出()。

① 

② 

③ 

学习单

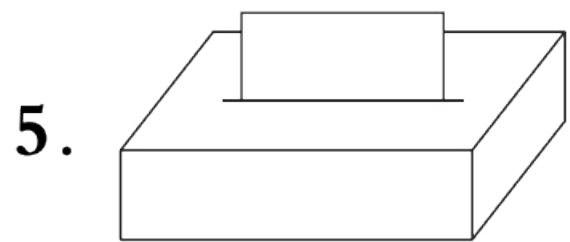
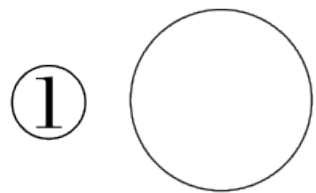
3. 摆一个三角形至少需要()根同样长的小棒。

① 5

② 4

③ 3

4. 把一张正方形的纸对折两次后,沿折痕剪开,剪成的图形不可能是()。



盒子里抽出来的纸片可能是()。

① 圆













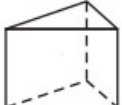
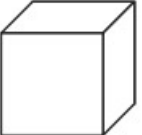




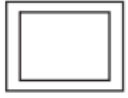
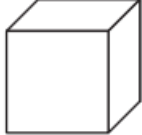
② 三角形

③ 正方形或长方形

wǒ huì quān

第三关 我会圈。(20☆)

1. 用右边的哪个物体可以画出左边的图形？把它圈起来。(8☆)












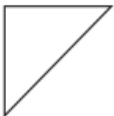



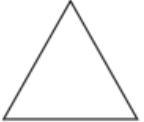




				
				
				
				

2. 找规律,接着摆什么? 圈一圈。(4☆)

(1) ○ ▽ ○ ▽ ○ ▽ ○ ▽ _____ (▽ ○)

(2) □ □ □ □ □ □ □ □ _____ (□ □)


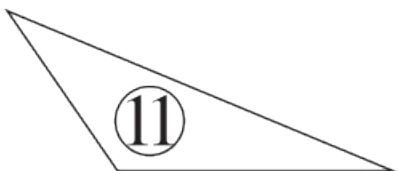
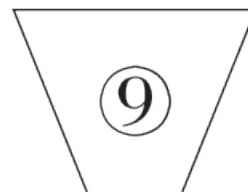
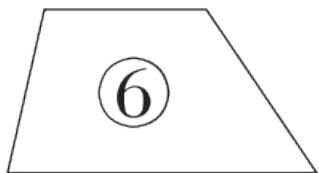


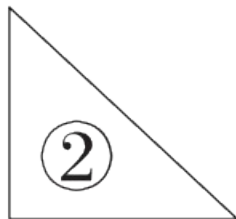
3. 拼一拼, 圈一圈, 左边的图形可以由右边的哪两个图形拼成? (8☆)

wǒ huì fēn

tián xù hào

第四关 我会分。(填序号)(10☆)



长方形()

正方形()

三角形()


圆()

平行四边形()

wǒ huì zuò

第五关 我会做。(28☆)

1. 下面的图形分别是用长方体的哪个面画的？连一连。(6☆)



上面

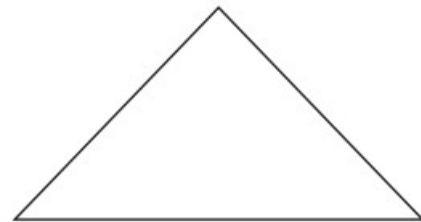



右面

前面

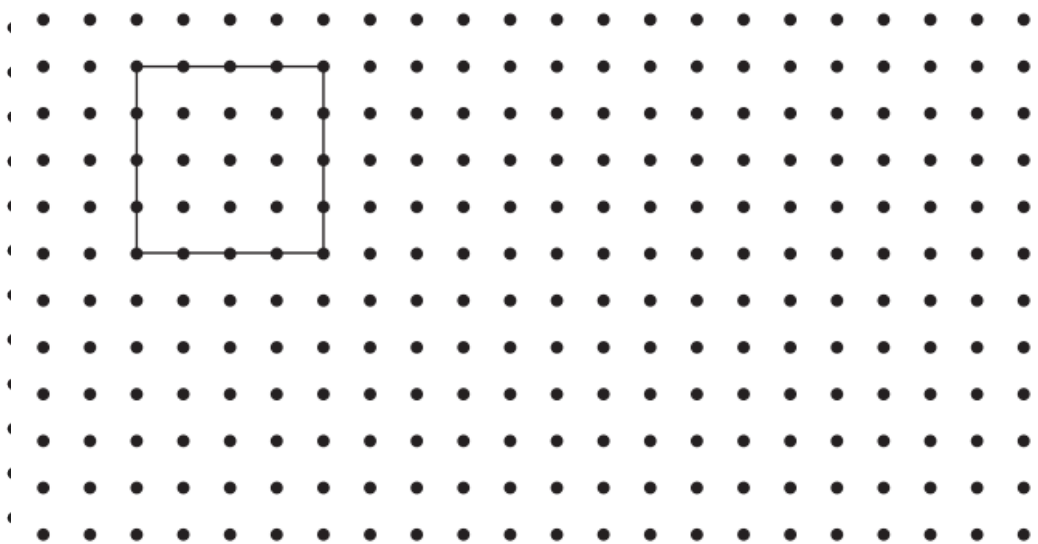


学习单

2. 把下面的图形剪成相同的两部分。(画一画)(10☆)



3. “围草地”，优优在钉子上围出了一个图形。(8☆)



习单

(1) 优优围的是什么图形？在 里画“√”。(3☆)

长方形

正方形

三角形

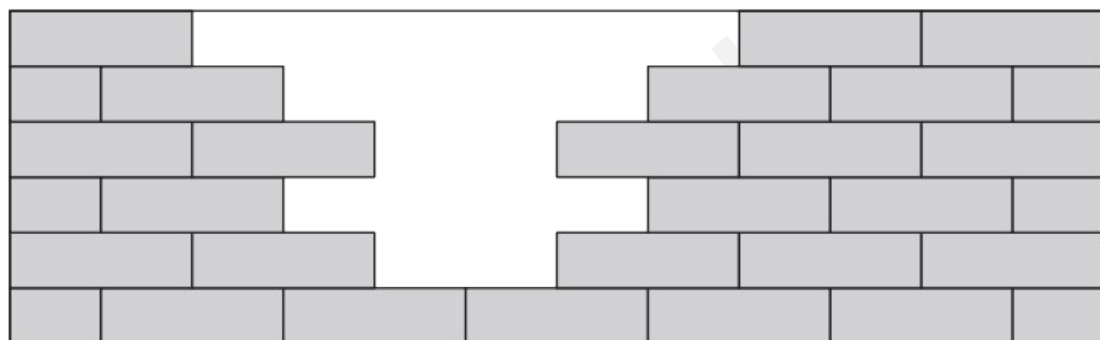
(2) 你还能围出一个其他图形吗？画一画。(3☆)

(3) 在钉子上能围出圆吗？在 里画“√”。(2☆)

能

不能

4. 我来补墙。(4☆)




缺了()块  。

wǒ lái tiǎo zhàn

我来挑战。(做对了,奖励10☆哦!)

“?”处是哪个图形?请在正确图形的后面画“√”。



注意每行、每列都有3种不同的图形。



 ()

 ()

 ()



关注“优翼丛书”小程序

更多优质好课等你来



更多教学资源，敬请关注 www.youyi100.com