

# 单元回顾与评价

## 第五单元学业质量评价（A卷）

一年级数学上册（RJ）

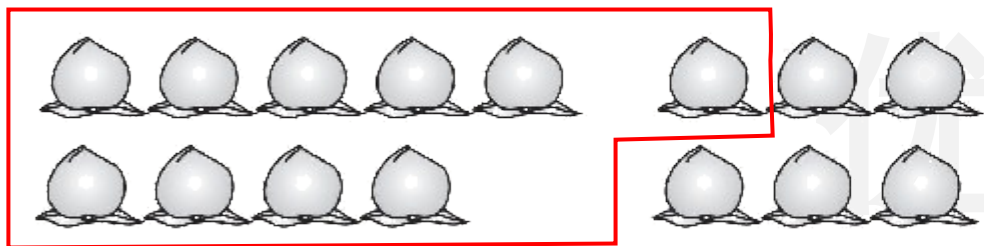


优干线同步作业课件

wǒ huì tián


一、我会填。（第1、6题每题6✿，其余每空1✿，共32✿）

1. (趋势新题) 圈一圈，填一填。



$$9 + 6 = 15$$

Diagram showing the decomposition of 6 into 1 and 5. A bracket under 9 and 1 is labeled 10. The numbers 1 and 5 are in boxes.



$$7 + 8 = 15$$

Diagram showing the decomposition of 8 into 3 and 5. A bracket under 7 and 3 is labeled 10. The numbers 3 and 5 are in boxes.

(圈法均不唯一)

2. (真题演练) 12 和 18 这两个数中, ( **18** ) 更接近 20; ( **12** ) 更接近 10, 它与 10 相差 ( **2** )。

3. 3 连续加 3: 3、( **6** )、( **9** )、( **12** )、( **15** )。

16 连续减 3: 16、( **13** )、( **10** )、( **7** )、( **4** )。

4. 一个加数是 9, 另一个加数是 6, 和是( **15** ); 两个 8 的和是( **16** )。

5. 在 ○ 里填上“>”“<”或“=”。

优干线


$$8 + 3 \text{ } \textcircled{<} \text{ } 6 + 8$$

$$9 - 7 \text{ } \textcircled{<} \text{ } 9 + 7$$

$$10 + 4 \text{ } \textcircled{>} \text{ } 7 + 4$$



7. 照样子, 填一填。



8. 同学们排队买票。君君前面有 3 人, 后面有 8 人, 这一队一共有

( 12 ) 人。

wǒ huì xuǎn      bǎ zhèng què dá àn de xù hào tián zài kuò hào lǐ

二、我会选。(把正确答案的序号填在括号里)(10✿)

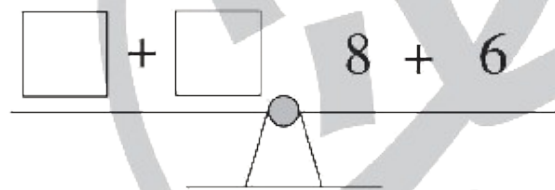
1. 下面算式中, ( ② ) 的和是 13。

①  $15 - 2$

②  $4 + 9$

③  $7 + 7$

2. (趋势新题) 如图, 要使跷跷板平衡, 左边应该填的算



式是 ( ② )。

①  $7 + 3$

②  $9 + 5$

③  $6 + 7$

3. (真题演练)  $7 + 8 > \square$ ,  $\square$ 里最大可以填( ① )。

① 14

② 15

③ 16

4. 爸爸早餐时买2个包子花了4元,买1瓶牛奶花了8元,爸爸买早餐一共花了多少元? 列式正确的是( ③ )。

①  $2 + 8 = 10$ (元)

②  $2 + 4 + 8 = 14$ (元)

③  $4 + 8 = 12$ (元)

5.  $\triangle + \triangle = 18$ ,  $\triangle = ( \textcircled{2} )$ 。

① 18

② 9

③ 8

优干线

wǒ huì suàn

## 三、我会算。(25✿)

## 1. 直接写出得数。(16✿)

$5 + 9 = 14$

$5 + 8 = 13$

$6 + 8 = 14$

$4 + 8 + 4 = 16$

$8 + 7 = 15$

$8 + 4 = 12$

$2 + 9 = 11$

$7 + 8 - 4 = 11$

$7 + 9 = 16$

$17 - 3 = 14$

$10 - 0 = 10$

$9 - 4 + 7 = 12$

$3 + 8 = 11$

$5 + 6 = 11$

$9 + 9 = 18$

$14 + 2 - 6 = 10$

2. 在  里填上合适的数。(9✳)

$$9 + \boxed{6} = 15$$

$$\boxed{7} + 6 = 13$$

$$12 = \boxed{4} + 8$$

$$\boxed{7} + 7 = 14$$

$$\boxed{7} + 4 = 11$$

$$12 = 16 - \boxed{4}$$

$$9 + \boxed{10} = 19$$

$$7 + 6 = 2 + \boxed{11}$$


$$9 + 3 = \boxed{10} + \boxed{2}$$

(最后两空答案不唯一)

wǒ huì shuō chū tú de yì sī zài tián suàn shì


四、我会说出图的意思，再填算式。(10✿)

1.



$$\boxed{4} \oplus \boxed{7} = \boxed{11} \text{ (只)}$$

2.




$$\boxed{16} \ominus \boxed{6} = \boxed{10} \text{ (只)}$$

wǒ huì jiě jué wèn tí

## 五、我会解决问题。(23✿)


1. 停车场一共有多少辆汽车？(6✿)



方法一： $\boxed{6} \oplus \boxed{5} = \boxed{11}$  (辆)

方法二： $\boxed{9} \oplus \boxed{2} = \boxed{11}$  (辆)

2. 车上原来有多少人？(5✳)




$$\boxed{9} + \textcircled{+} \boxed{3} = \boxed{12} \text{ (人)}$$

3.



我家养了7只羊。

优优



我家养的羊和你家的同样多。

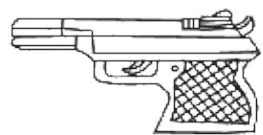


小新

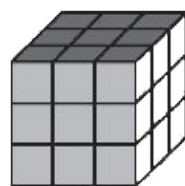
优优家和小新家一共养了多少只羊？(6✿)

$$\boxed{7} \oplus \boxed{7} = \boxed{14} \text{ (只)}$$


4. 优优要买下面玩具中的两种,最多要花多少元?最少要花多少元?(6✳)



6元



8元



7元

最多:  $\boxed{8} \oplus \boxed{7} = \boxed{15}$  (元)

最少:  $\boxed{6} \oplus \boxed{7} = \boxed{13}$  (元)

【挑战题】(做对了,奖励 10✳️哦!)

yǐ zhī

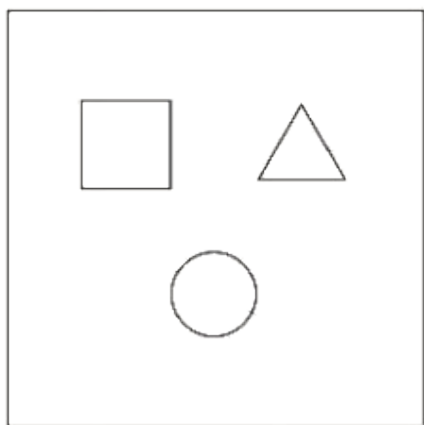
已知  $\triangle = 3$ ,  $\square = 4$ ,  $\bigcirc = 6$ ,

qiú chū xià miàn fāng kuàng lǐ suǒ yǒu

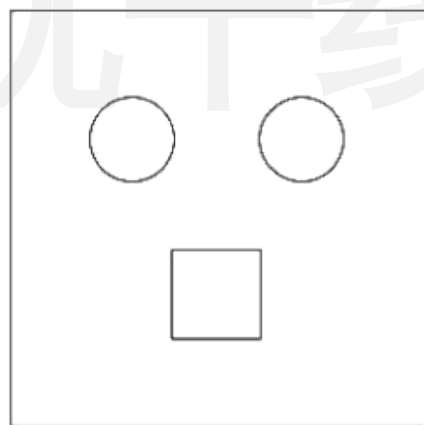
求出下面方框里所有

tú xíng de hé

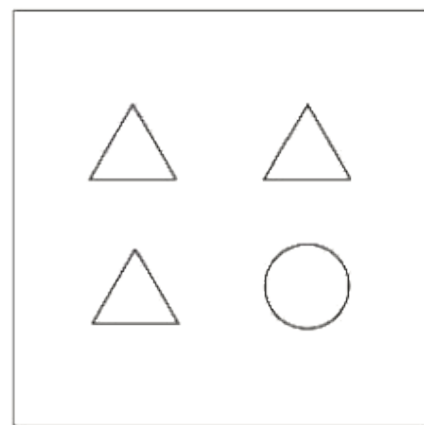
图形的和。



( 13 )



( 16 )



( 15 )



关注“优翼丛书”小程序

更多优质好课等你来



更多教学资源，敬请关注 [www.youyi100.com](http://www.youyi100.com)