



# 第七单元 复习与关联

## 第1课时 数与运算(1)

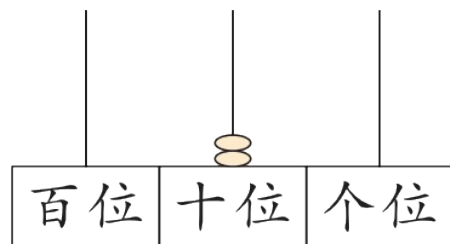
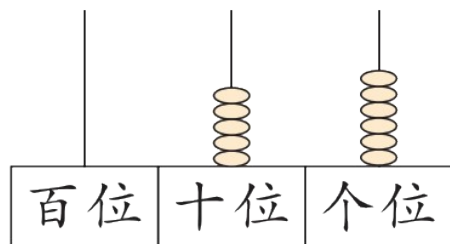
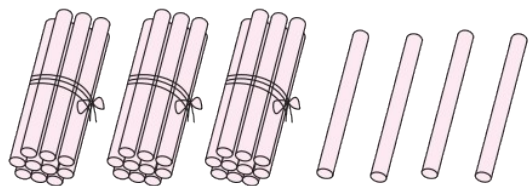
一年级数学下册 (RJ)



新领程同步作业课件

1 填一填。

(1) 看图写一写、读一读。



写作( )

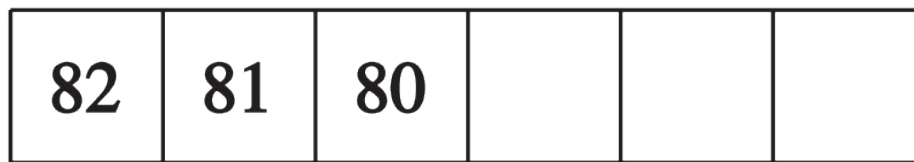
写作( )

写作( )

读作( )

读作( )

读作( )



(3) 与 70 前后相邻的两个数是( )和( )。

(4) 最大的两位数是( ), 最小的两位数是( ), 它们相差( )。

(5) 83 里面有 ( ) 个十和 ( ) 个一; 2 个一和 7 个十合起来是 ( )。

(6) 一个数的个位上是 4, 十位上是 5, 这个数是 ( )。

(7) 把下面各数按从小到大的顺序排列起来。



( ) < ( ) < ( ) < ( ) < ( )

(8) 用 7 个 ○ 在右边的数位表上摆一摆, 摆出的最大数是 ( )。

十位	个位

## 2 选一选。

(1) 和“68”中的“6”表示的意思相同的是( )。

① 56

② 96

③ 61

(2)  $2\square < 25$ ,  $\square$ 中可以填的数字是( )。

① 4

② 5

③ 6

(3) 下图中,“ $\downarrow$ ”所指的数可能是( )。



① 48

② 52

③ 58

(4) 优优用  $\star$  表示 10, 用  $\blacktriangle$  表示 1, 下面表示的数中最大的是( )。

①  $\star\star\star\blacktriangle\blacktriangle\blacktriangle$

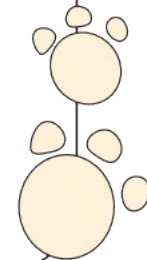
②  $\star\star\blacktriangle\blacktriangle\blacktriangle$

③  $\star\star\star\star\blacktriangle$

3 (新趋势) 请将你心中的 35 画出来。

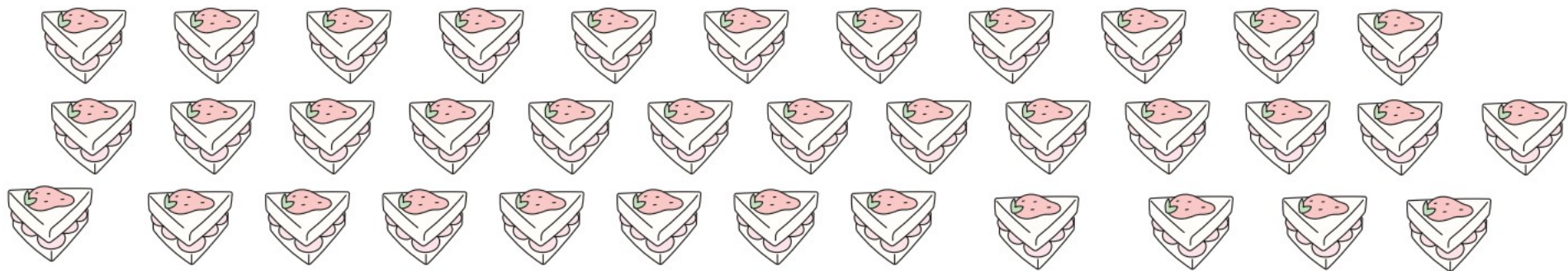
35

斤领程



#### 4 解决问题。

(1) 36 个蛋糕, 每盒装 10 个, 可以装满几盒? 还剩几个? (圈一圈, 填一填)



可以装满  盒, 还剩  个。

(2) 在合适的答案下面画“√”。(扫目录处二维码看解题视频)

我们有40只。



我们比蜜蜂多得多。



我们比蜜蜂少一些。



可能有多少只？

29 只	54 只	85 只
<input type="checkbox"/>	<input type="checkbox"/>	<input type="checkbox"/>



可能有多少只？

8 只	30 只	42 只
<input type="checkbox"/>	<input type="checkbox"/>	<input type="checkbox"/>



# 学习用优翼 越来越优异

优翼产品与服务  
历年中小学生学习人次 **3亿+**

优翼网教学资源  
每年服务师生人次 **3000万+**

年举办公益  
教研活动场次 **300+**



· 学练优 | 新领程 | 涂重点 | 优翼网 教学资源服务平台

[www.youyi100.com](http://www.youyi100.com)



优翼品牌代言人



# 学习用优翼 越来越优异

## 优翼教学工具书（小学系列）“3+n”选购指南：

教材笔记 1 本、同步练习 1 本、检测试卷 1 本 + 专项提升 n 本

教材笔记：新领程·涂重点 甘橙语文笔记

同步练习：学练优 新领程 学习单（素养导向的大单元作业）

检测试卷：优干线 真题新卷

假期作业：暑假衔接 寒假衔接

小学总复习：极速提分 系统强化训练 小总冲刺卷 全真模拟卷

字帖系列：四步法写字 写字高手 静心字帖……

语文专项：看图写话 同步作文 默写大通关 阅读与积累 五步法作文 情境化串联古诗词 趣味拼音拼读

数学专项：必考口算应用题 口算天天练 模型图解应用题

英语专项：拼读法速记单词 趣味速记音标



优翼品牌代言人



关注“优翼丛书”小程序

更多优质好课等你来



更多教学资源，敬请关注 [www.youyi100.com](http://www.youyi100.com)