



第6单元复习与关联



第1课时 数与运算

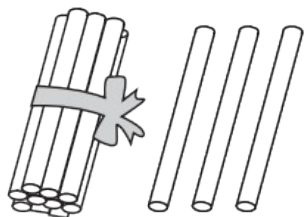
一年级数学上册 (RJ)

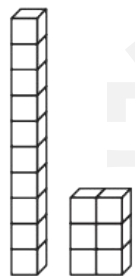


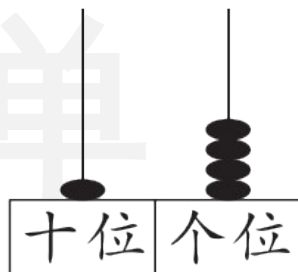
学习单 同步作业课件

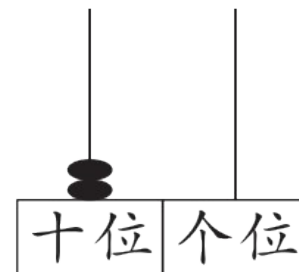
kàn tú xiě shù

1. 看图写数。

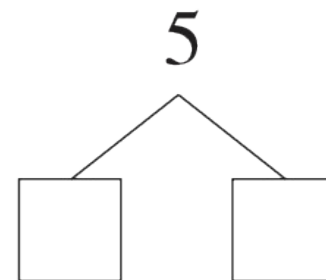
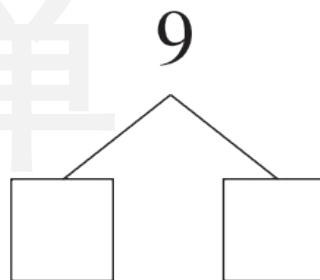
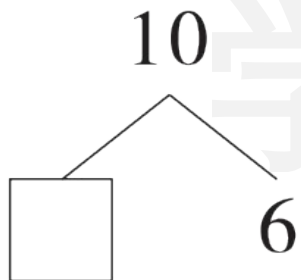
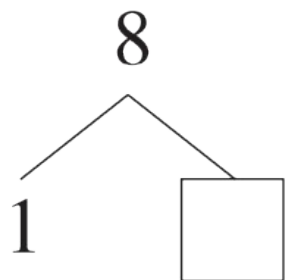









2. 在 里填合适的数。



xiān quān chū gè zài suàn yì suàn


3. 先圈出10个，再算一算。



$$8 + 4 = \square$$

Diagram showing the decomposition of 4 into two boxes, with lines connecting them to the 8 and the result box.

学习单



$$9 + 5 = \square$$

Diagram showing the decomposition of 5 into two boxes, with lines connecting them to the 9 and the result box.

tián yì tián

4. 填一填。

(1) 按顺序填数。

10			13		15
----	--	--	----	--	----

		16	14		10
--	--	----	----	--	----

(2) 5 个一和 1 个十合起来是(), 读作(), 与它相邻的两个数是()和(); 2 个十是()。

(3) 个位上是 9, 十位上是 1 的两位数是()。

(4) 在 里填上合适的数。

$$\square < 17$$

$$\square > 10$$

$$\square > 16$$

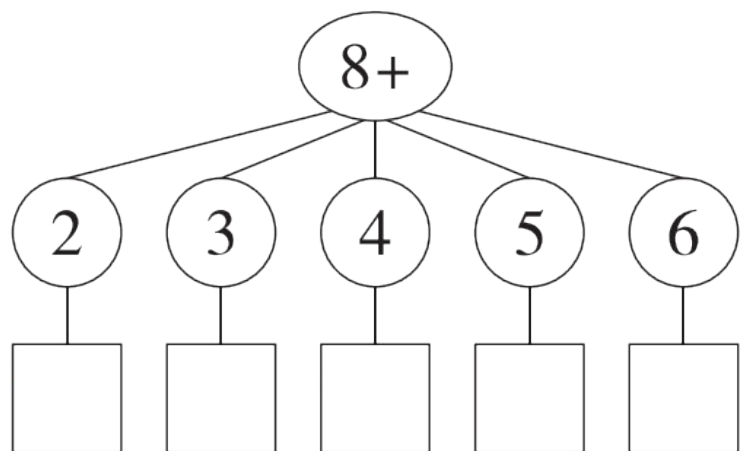
$$5 < \square < 12$$

(5) 10 13 14 12 19 20 11

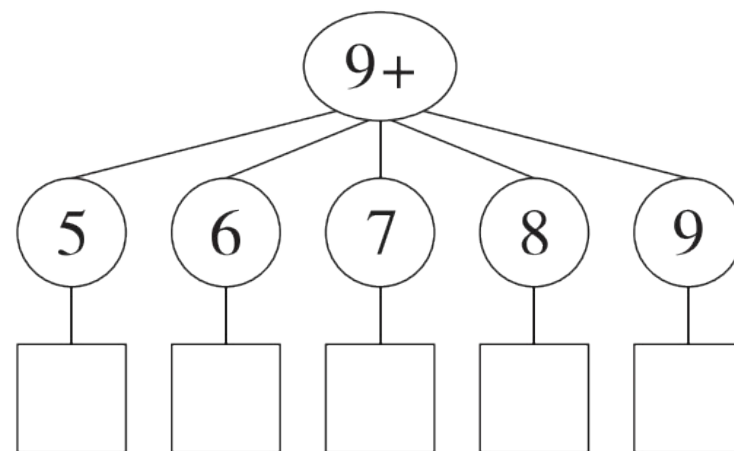
从左边数,第4张卡片上的数是(),它左边第一张卡片上的数是(),它右边有()张卡片。

suàn yì suàn

5. 算一算。



学习单



bǎ xià miàn de suàn shì àn dé shù cóng xiǎo dào dà de shùn xù pái yì pái
 6. 把下面的算式按得数从小到大的顺序排一排。

$$5 + 6$$

$$6 + 8$$

$$9 - 6$$

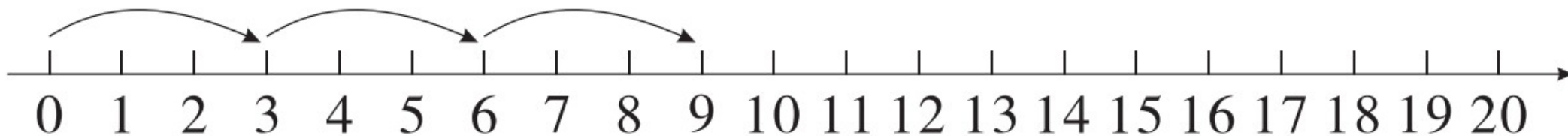
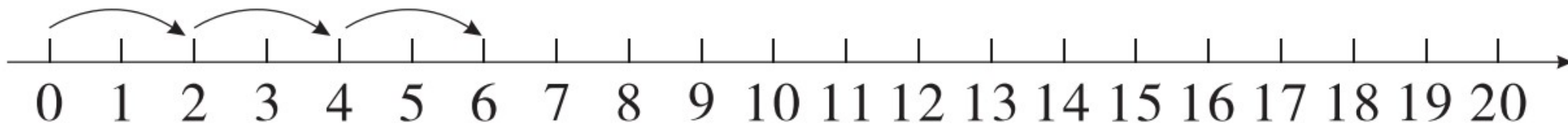
$$10 + 7$$

$$4 + 9$$

() < () < () < () < ()

zhào yàng zi huà yì huà

7. 照样子，画一画。





学习用优翼 越来越优异

优翼产品与服务
历年中小学生学习人次 **3亿+**

优翼网教学资源
每年服务师生人次 **3000万+**

年举办公益
教研活动场次 **300+**



· 学练优 | 新领程 | 涂重点 | 优翼网 教学资源服务平台

www.youyi100.com



优翼品牌代言人



学习用优翼 越来越优异

优翼教学工具书（小学系列）“3+n”选购指南：

教材笔记 1 本、同步练习 1 本、检测试卷 1 本 + 专项提升 n 本

教材笔记：新领程·涂重点 甘橙语文笔记

同步练习：学练优 新领程 学习单（素养导向的大单元作业）

检测试卷：优干线 真题新卷

假期作业：暑假衔接 寒假衔接

小学总复习：极速提分 系统强化训练 小总冲刺卷 全真模拟卷

字帖系列：四步法写字 写字高手 静心字帖……

语文专项：看图写话 同步作文 默写大通关 阅读与积累 五步法作文 情境

化串联古诗词 趣味拼音拼读

数学专项：必考口算应用题 同步口算 口算天天练 模型图解应用题

英语专项：拼读法速记单词 趣味速记音标



优翼品牌代言人



关注“优翼丛书”小程序

更多优质好课等你来



更多教学资源，敬请关注 www.youyi100.com