



第5单元20 以内的进位加法



第1课时 9 加几

一年级数学上册 (RJ)



学习单 同步作业课件

【学习目标】

我会用“凑十法”计算9加几的进位加法。

sòng niú nǎi

【自主探究】送牛奶！

任务1：看图写算式。



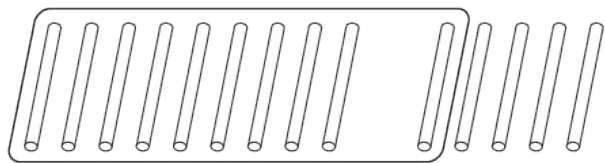
$$\square + \square = \square$$

任务2：你是怎么计算这个算式的呢？说一说吧！



我从9开始，接着往后数 个，10、11、、、，一共有 瓶。

我用凑十法：先从右边取1瓶放在左边凑成10，再计算。可以像下面这样表示。



$$9 + \square = \square$$

\swarrow \searrow
 4

想：9加 得10，
10加 得 。


 巩固单

quān yi quān suàn yi suàn

1. 圈一圈，算一算。 [★]



$$9 + 6 = \square$$



$$9 + \square = \square$$

学习单

suàn yì suàn bǐ yì bǐ

2. 算一算，比一比。 [★★★]



$10+2=$

$9+1+2=$

$9+3=$



$10+3=$

$9+1+3=$

$9+4=$




$10+6=$

$9+1+6=$

$9+7=$

kàn tú xiě chū liǎng dào guān yú 9 de jiā fǎ suàn shì

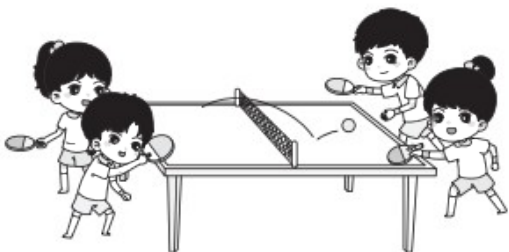
3. 看图写出两道关于 9 的加法算式。 [★★]



单

$$\square + \square = \square$$

$$\square + \square = \square$$



liǎng rén yí gòng zhé le duō shao zhǐ zhǐ fēi jī

4. 两人一共折了多少只纸飞机？ [★★]



我折了9只纸飞机。

我折的纸飞机和你同样多。



$$\square \bigcirc \square = \square (\text{只})$$

lǐ zuì dà néng tián jǐ

5. () 里最大能填几? [★★ ★]

$$9 + () < 16$$

$$9 + () < 12$$

$$() + 9 < 17$$



学习用优翼 越来越优异

优翼产品与服务
历年中小学生学习人次 **3 亿 +**

优翼网教学资源
每年服务师生人次 **3000 万 +**

年举办公益
教研活动场次 **300+**



· 学练优 | 新领程 | 涂重点 | 优翼网 教学资源服务平台

www.youyi100.com



优翼品牌代言人



学习用优翼 越来越优异

优翼教学工具书（小学系列）“3+n”选购指南：

教材笔记 1 本、同步练习 1 本、检测试卷 1 本 + 专项提升 n 本

教材笔记：新领程·涂重点 甘橙语文笔记

同步练习：学练优 新领程 学习单（素养导向的大单元作业）

检测试卷：优干线 真题新卷

假期作业：暑假衔接 寒假衔接

小学总复习：极速提分 系统强化训练 小总冲刺卷 全真模拟卷

字帖系列：四步法写字 写字高手 静心字帖……

语文专项：看图写话 同步作文 默写大通关 阅读与积累 五步法作文 情境化串联古诗词 趣味拼音拼读

数学专项：必考口算应用题 同步口算 口算天天练 模型图解应用题

英语专项：拼读法速记单词 趣味速记音标



优翼品牌代言人



关注“优翼丛书”小程序

更多优质好课等你来



更多教学资源，敬请关注 www.youyi100.com