

第二单元 6~10 的认识和加、减法

第 2 课时 10 的加、减法

一年级数学上册 (RJ)

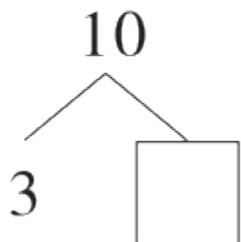


新领程同步作业课件

tián yì tián

1 填一填。

(1)

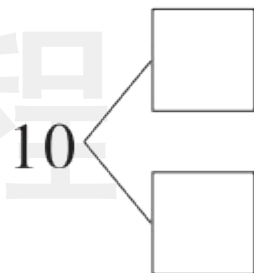


$$3 + \square = 10$$

$$10 - 3 = \square$$

$$10 - \square = 3$$

(2)



$$\square + \square = 10$$

$$\square - \square = \square$$

$$\square - \square = \square$$

2 zài lǐ tián shàng “ > ” “ < ” huò “ = ” 。
 在 里填上 “ > ” “ < ” 或 “ = ” 。

$3 + 5 \bigcirc 10$

$7 - 3 \bigcirc 10$

$4 + 3 \bigcirc 10 - 4$

$10 - 1 \bigcirc 9$


$2 + 7 \bigcirc 10$

$10 - 2 \bigcirc 6 + 1$

kàn tú liè shì jì suàn


3 看图列式计算。

(1)



$$\square \bigcirc \square = \square (\text{只})$$

(2)



$$\square \bigcirc \square = \square (\text{只})$$

tián yì tián suàn yì suàn

4 (素养提升) 填一填，算一算。

(1) 一共有几只鸟？

$$\square \bigcirc \square = \square \text{ (只)}$$

答：一共有 \square 只鸟。

(2) 看图讲 $10 - 4 = 6$ 的数学故事。



新领程



关注“优翼丛书”小程序

更多优质好课等你来



更多教学资源，敬请关注 www.youyi100.com