

第3单元 认识立体图形

第2课时 拼搭

一年级数学上册 (RJ)



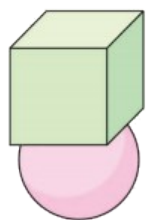
学练优同步作业课件

dā yi dā

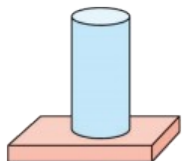
1 搭一搭。

(1) 在能搭稳的图形下面画“√”。

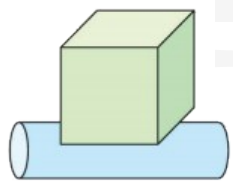
(2) 搭得最高的画“√”。



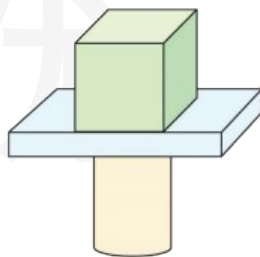
()



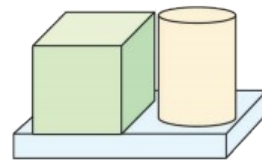
()



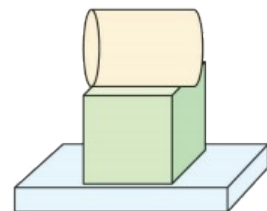
()



()



()

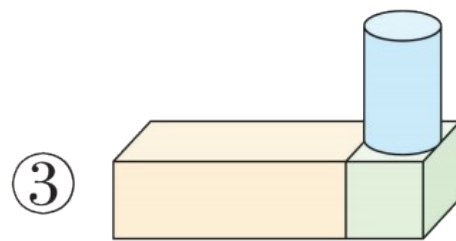
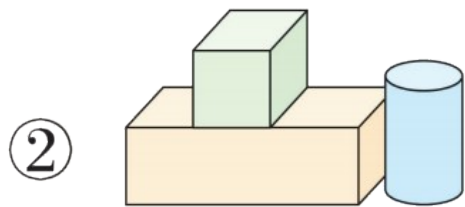
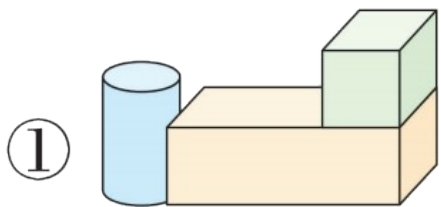


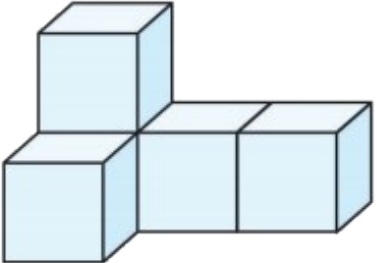
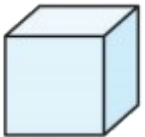
()

xuǎn yi xuǎn

2 选一选。

(1) 先摆(bǎi)一个长方体,再在长方体的右边摆一个圆柱,最后把一个正方体放在长方体的上面。下面摆法正确的是()。



(2)  是由()个  拼成的。

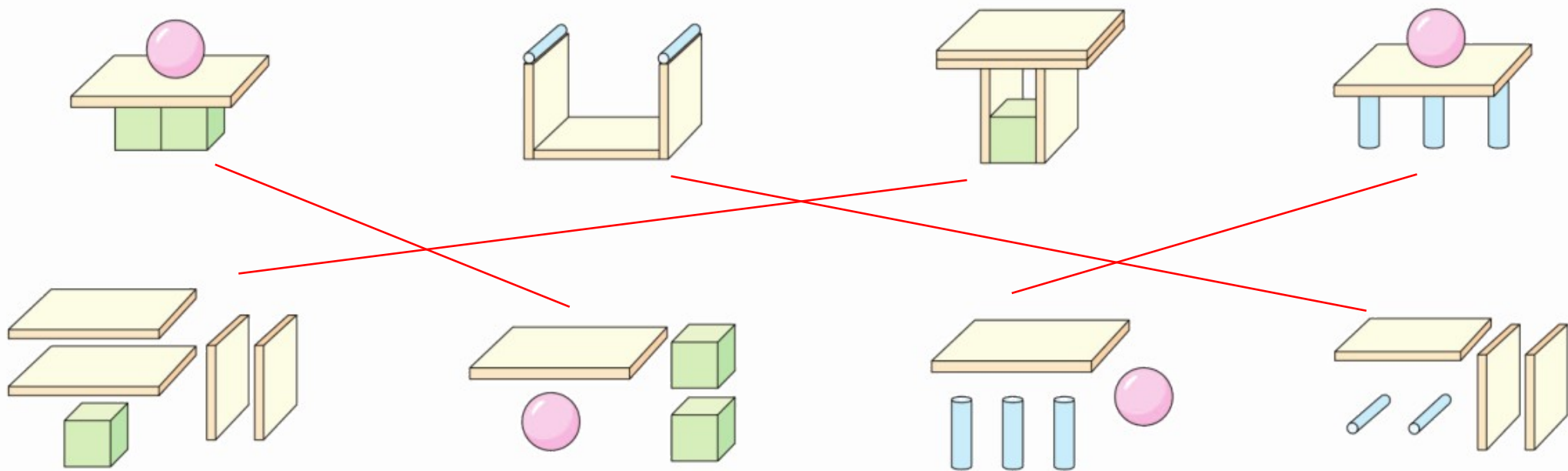
① 3

② 4

③ 5

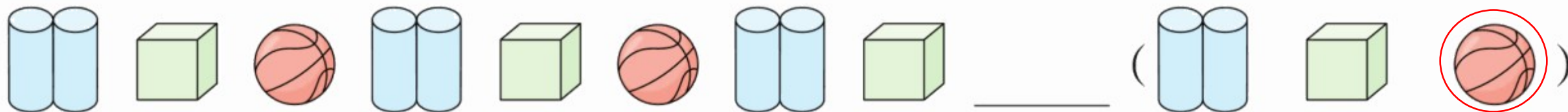
bǎ zǔ hé tú xíng yǔ tā suǒ yòng de cái liào lián qǐ lái

3 把组合图形与它所用的材料连起来。



jiē xià lái yīng gāi bǎi shén me quān chū zhèng què de dá àn

4 接下来应该摆什么？圈出正确的答案。





关注“优翼丛书”小程序

更多优质好课等你来



更多教学资源，敬请关注 www.youyi100.com