

第六单元复习与关联

第 1 课时 数与运算

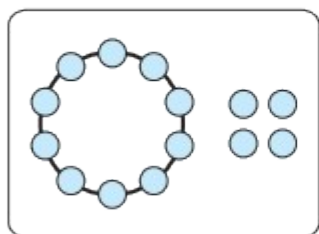
一年级数学上册 (RJ)



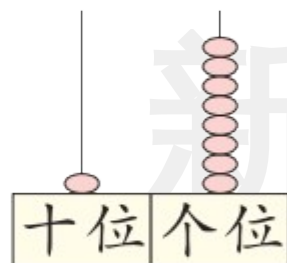
新领程同步作业课件

kàn tú tián shù

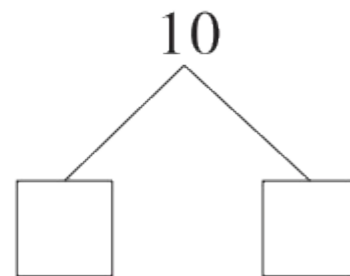
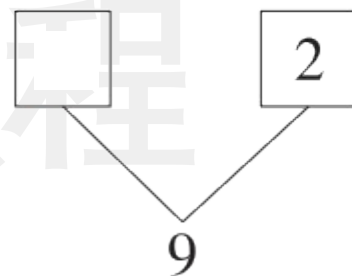
1 看图填数。



()



()



tián yì tián

2 填一填。


(1)

10			13		15
----	--	--	----	--	----

		18	17		15
--	--	----	----	--	----

(2) 13 读作(), 它是由()个十和()个一组成的。

(3) 十位上是 1, 个位上是 8 的数是(), 它的前一个数是()。

(4) 在  里填上“>”“<”或“=”。

$6 + 3$  10

$8 + 8$  15

$16 - 4$  $7 + 9$

$7 + 6$  $4 + 9$

suàn yì suàn

3 算一算。

$0 + 2 =$

$5 + 3 =$

$6 + 7 =$

$7 + 2 - 3 =$

$8 + 10 =$

$15 - 3 =$

$14 + 4 =$

$8 - 4 + 7 =$

新领程

4 (素养提升) xiǎo bái tù hé xiǎo huī tù dōu fēn dé tóng yàng duō de luó bo
 小白兔和小灰兔都分得同样多的萝卜，

xiǎo bái tù chī le 7 gè , xiǎo huī tù chī le 8 gè , shuí shèng xià de duō
 小白兔吃了7个，小灰兔吃了8个，谁剩下的多？

新领程





关注“优翼丛书”小程序

更多优质好课等你来



更多教学资源，敬请关注 www.youyi100.com