

# 第一单元素养通关


一年级数学上册（RJ）




新领程同步作业课件

tián kòng chéng bǎo

第一关：填空城堡。（第4题2☆，其余每空1☆，共20☆）

1. 盘子里各有几个  ？ 写一写。



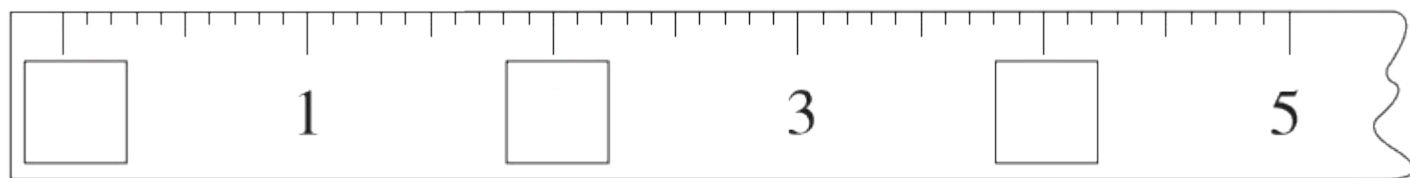




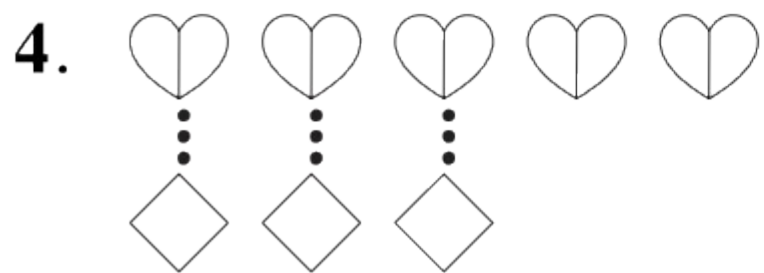




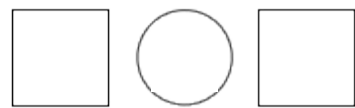
## 2. 按顺序填数。



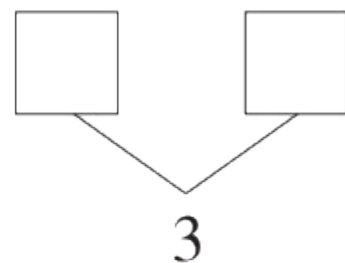
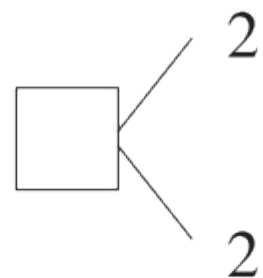
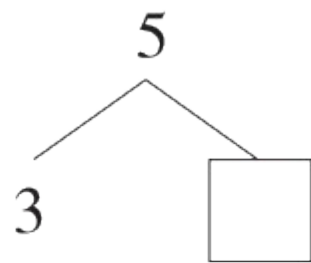
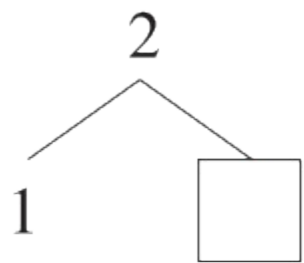
3. 比 2 大, 比 4 小的数是( )。



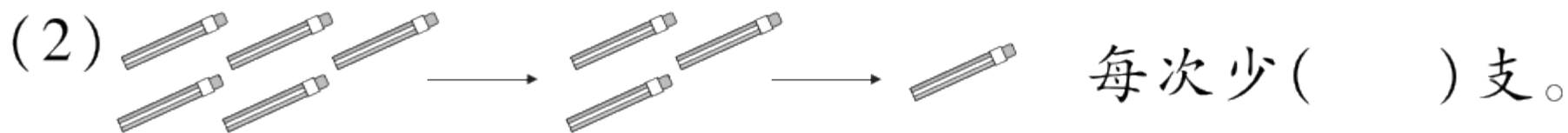

比 (多 少),



5. 在  里填上合适的数。



6. 想一想, 填一填。



新领程

jì suàn wáng guó

## 第二关：计算王国。(28☆)

### 1. 口算。(12☆)

$3 - 2 = \square$

$2 + 1 = \square$

$5 - \square = 1$

$3 + \square = 4$

$2 + 2 = \square$

$4 - 3 = \square$

$\square + 1 = 2$

$5 - \square = 0$

$4 - 0 = \square$

$3 + 0 = \square$

$\square - 2 = 3$

$\square + 3 = 4$

2. 在  $\bigcirc$  里填上“ $>$ ”“ $<$ ”或“ $=$ ”，在  $\square$  里填上合适的数。(8☆)

3  $\bigcirc$  2      1  $\bigcirc$  4      1  $\bigcirc$  0      2  $>$   $\square$

2  $\bigcirc$  1      1  $\bigcirc$  1      3  $\bigcirc$  5       $\square$   $<$  4

3. 在  $\bigcirc$  里填上“ $+$ ”或“ $-$ ”。(8☆)

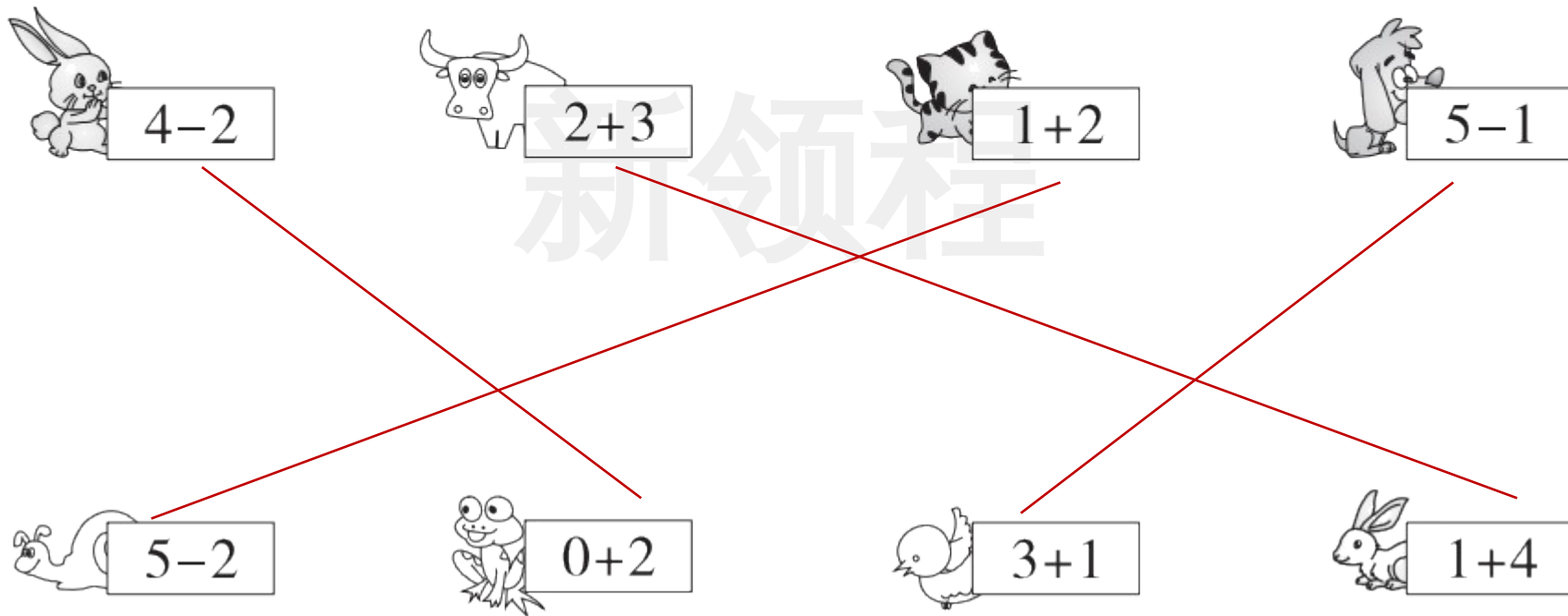
3  $\bigcirc$  2 = 5      4  $\bigcirc$  1 = 3      3  $\bigcirc$  3 = 0      5  $\bigcirc$  1 = 4









5  $\bigcirc$  0 = 5      0  $\bigcirc$  1 = 1      2  $\bigcirc$  2 = 4      2  $\bigcirc$  1 = 1

dòng shǒu mì shì

### 第三关：动手密室。(26☆)

1. 找朋友，把得数相同的算式连起来。(8☆)





 $4-2$	 $2+3$	 $1+2$	 $5-1$
 $5-2$	 $0+2$	 $3+1$	 $1+4$

2. 先填一填,再用自己喜欢的方式表示算式的意思。(4☆)

$1 + 4 = \square$

$5 - 3 = \square$

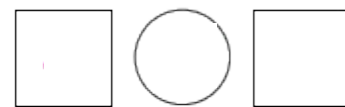


新领程

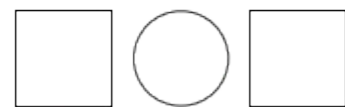
### 3. 涂一涂, 比一比。(6☆)



☆ 和 ▲ 同样多



● 比 ☆ 多



♥ 比 ☆ 少



4. 填一填, 圈一圈, 画一画。(8☆)



(1) 图中一共有( )个安全标志图。

(2) 从左边数,  排第( ), 它的左边有( )个

安全标志图。

(3) 把右边的4个安全标志图圈起来, 在从右边数的第4个安全标志图下面画“▲”。

(4) 从右边数的第2个安全标志图被拿走了, 现在还剩( )个安全标志图。

shù xué yuán dì

kàn tú liè shì jì suàn

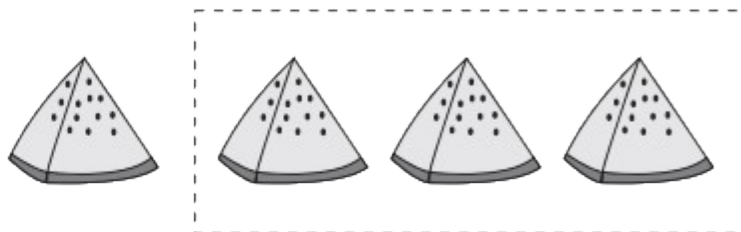
第四关：数学园地。（看图列式计算）（12☆）

1.



$$\square \bigcirc \square = \square$$

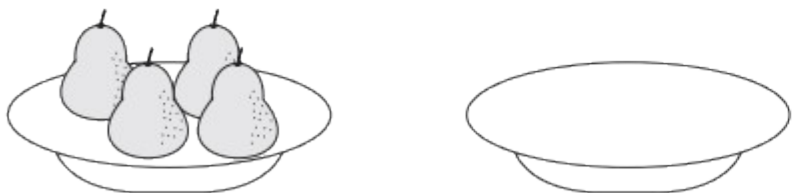
2.



$$\square \bigcirc \square = \square$$

新领程

3.



$$\square \bigcirc \square = \square$$

4.



$$\square \bigcirc \square = \square$$


shēng huó lè yuán

第五关：生活乐园。（第1题3☆，第2题7☆，第3题4☆，共14☆）

1.



第1个



第4个



第5个

大树后面藏着的小朋友  
是第  个和第  个，  
藏了  个小朋友。



2. 把 5 根萝卜分给两只小兔, 每只小兔都要分。



(1) 每只小兔分得的萝卜能同样多吗? 在正确答案后面画“√”。

能  不能

(2) 如果让你来分, 你可以怎样分? 写一写。

第一只小兔				
第二只小兔				

3. 小猴要吃 5 个桃子, 它选的可能是哪两盘? (用算式表示)



$$\square \bigcirc \square = \square$$

$$\square \bigcirc \square = \square$$

sù yǎng tí shēng      zuò duì le      jiǎng lì      。  
 素养提升。（做对了，奖励10☆哦！）



我是小亮，从前面数我排第3，  
 从后面数我也排第3。

1. 用一个○代表一个人，画一画。

2. 这一排一共有(      )个人。



关注“优翼丛书”小程序

更多优质好课等你来



更多教学资源，敬请关注 [www.youyi100.com](http://www.youyi100.com)