

《优干线》人教版数学一下作业 PPT



更多教学资源内容，敬请关注 www.youyi100.com

第三单元学业质量评价



fēn yī fēn quān yī quān

一、分一分，圈一圈。

1. 下面哪些是学习用品，哪些是生活用品？把序号填进相对应的圈里。



①



②



③



④



⑤



⑥



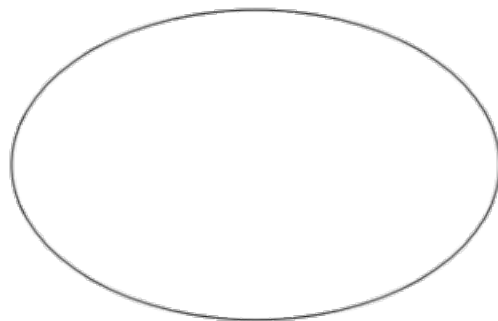
⑦




⑧



⑨

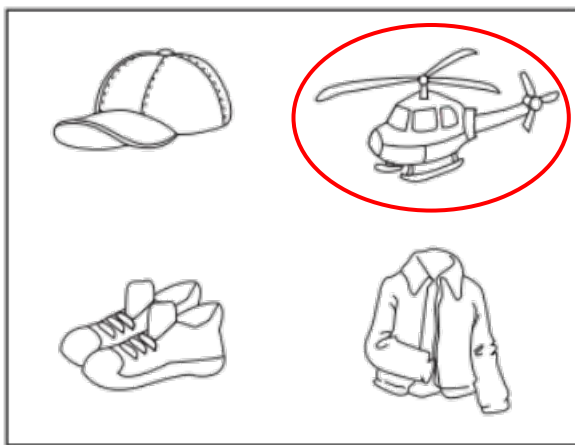



学习用品




生活用品

2. 把每个框中不同类的圈出来。
































xià miàn shì wáng shū shū jiā yǎng de dòng wù

二、下面是王叔叔家养的动物。

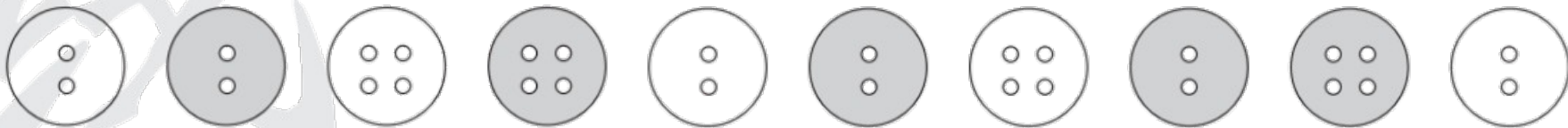


1. 按动物的种类分一分,再涂一涂,填一填。

				
				 () 只
				 () 只
				 () 只
				 () 只
				
				

2.  和  一共有()只,  比  多()只。

bǎ niǔ kòu fēn chéng liǎng zǔ kě yǐ zěn yàng fēn tián yi tián
 三、把纽扣分成两组，可以怎样分？填一填。



我按 () 分。

类型		
个数		



我按 () 个扣眼和 () 个扣眼分。

类型		
个数		

suàn yì suàn fēn yì fēn

四、算一算，分一分。

1. 直接写出得数。

$5 + 6 =$

$11 - 2 =$

$13 - 7 =$

$8 + 9 =$

$14 - 6 =$

$16 - 8 =$

$12 - 5 =$

$6 + 9 =$

$12 - 3 =$

$16 - 5 =$

2. 按运算的类型把第 1 题分一分,填写下表。

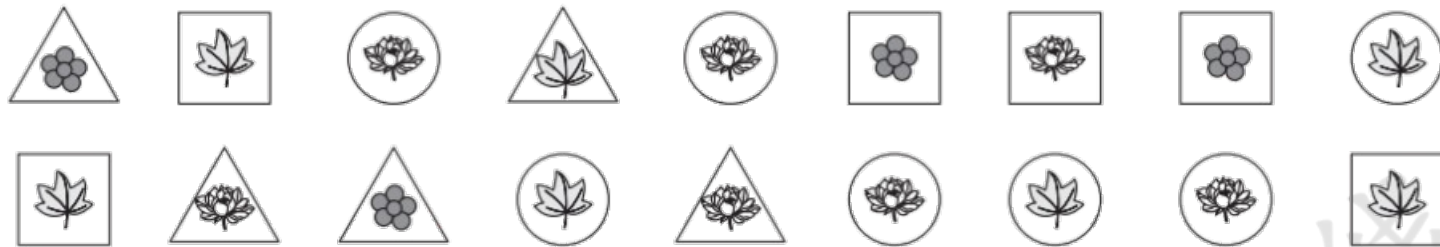
类型	加法	减法
道数		

3. 按算式的得数把第 1 题分一分,填写下表。



类型	小于 10	大于 10
道数		

qiǎo shǒu fēn yī fēn zhěng lǐ kǎ piàn

五、巧手分一分，整理卡片。




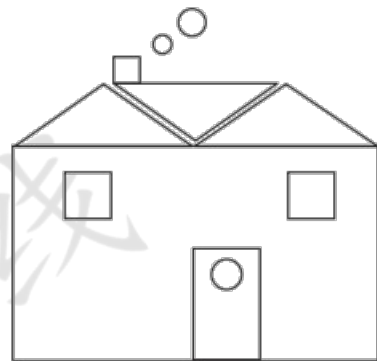
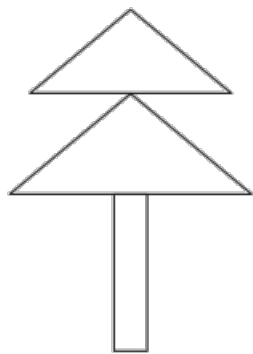

1. 根据上图填写下表。

图案			
张数			

2. 还可以怎样分？

张数			

shǔ yì shǔ tián yi tián
 六、数一数，填一填。



1. 数一数上面每种图形的个数,填写下表。

图形	三角形	圆	正方形	长方形
个数				

2. 图中一共有()个图形,()的个数最多。

3. 三角形比圆多()个。

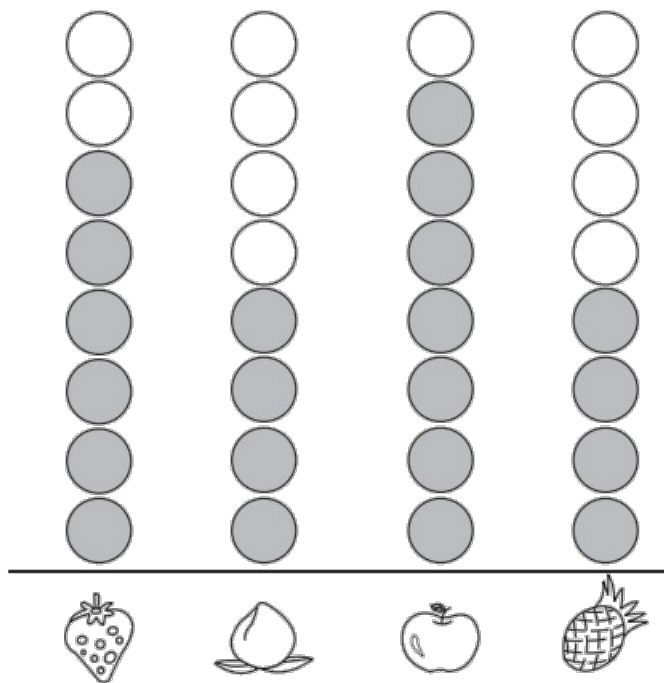
4. 你还能提出其他数学问题并解答吗？

提问：_____





解答： $\square \bigcirc \square = \square$ ()

yī bān tóng xué zuì xǐ huan chī de shuǐ guǒ de qíng kuàng rú xià
 七、一（1）班同学最喜欢吃的水果的情况如下

tú
 图。



1. 根据左图填写下表。

水果				
	草莓	桃	苹果	菠萝
人数				

水果	 草莓	 桃	 苹果	 菠萝
人数	6	4	7	4

2. 根据上面的统计结果回答问题。


(1) 最喜欢吃()的人数最多。

(2) 最喜欢吃()和()的人数同样多。

(3) 你还能提出什么数学问题?

挑战题。

jiāng xià miàn de shuǐ bēi fēn lèi yǒu jǐ zhǒng fēn fǎ
 将下面的水杯分类，有几种分法？





关注“优翼丛书”小程序

更多优质好课等你来



更多教学资源，敬请关注 www.youyi100.com