



素养通关



《欢乐购物街》素养通关

一年级数学下册（RJ卓越版）

新领程同步作业课件



tián kòng chéng bǎo

第一关：填空城堡。（第2题3☆，第3题4☆，第4题16☆，其

余每空1☆，共36☆）

1. 人民币的单位有()、()、()。

2. 写出下面的钱数。


新领程



()元()角



()元()角



()元

3. 在()里填上合适的人民币单位。

(1) 一支铅笔 1()。 (2) 一盒彩笔 8() 5()。

(3) 一个书包 30()。 (4) 一块橡皮 5()。

新领程

4. 算一算。

$7 \text{ 角} + 2 \text{ 角} = (\quad) \text{ 角}$

$8 \text{ 元} + 2 \text{ 元} = (\quad) \text{ 元}$

$6 \text{ 角} + 4 \text{ 角} = (\quad) \text{ 元}$

$2 \text{ 元} - 3 \text{ 角} = (\quad) \text{ 元} (\quad) \text{ 角}$

$10 \text{ 元} - 4 \text{ 元} = (\quad) \text{ 元}$

$9 \text{ 角} + 3 \text{ 角} = (\quad) \text{ 元} (\quad) \text{ 角}$

$1 \text{ 元} - 5 \text{ 角} = (\quad) \text{ 角}$

$20 \text{ 元} + 9 \text{ 角} = (\quad) \text{ 元} (\quad) \text{ 角}$

5. 在 \bigcirc 里填上“ $>$ ”“ $<$ ”或“ $=$ ”。

9 角 \bigcirc 1 元

3 元 6 角 \bigcirc 4 元



7 元 \bigcirc 8 角 9 分

5 元 \bigcirc 50 角

2 元 8 角 \bigcirc 2 元 8 分

10 元 \bigcirc 15 角


6. 换一换。

(1) 一张  可以换 () 张 , 也可以换 () 张



新领程

(2) 一张  可以换 () 张 。

(3) 一张  可以换 () 张 。

xuǎn zé mí gōng

第二关：选择迷宫。(12☆)

1. 有5枚硬币共2元6角,第4枚硬币是()。



?



① 1元

② 5角

③ 1角

2. 小优买了一支笔,她给了售货员一张  , 但还差2元,

这支笔的价格是()。

① 7元

② 8元

③ 12元

3. 右图花生油的价格可能是()。

① 42 元

② 45 元

③ 48 元



我买这壶花生油付了5张 , 找回的钱比5元少。

4. 一本书的价格比 15 元贵得多, 它的价格可能是()。

① 10 元

② 20 元

③ 50 元


tā men gè mǎi le yì běn xià miàn de shū fù de qián duì ma duì
 第三关：他们各买了一本下面的书，付的钱对吗？对

de huà
 的画“√”。(12☆)



1张5元，1张1元，
 1张5角，3张1角。

()



6元8角

6张1元，8张1角。

()



6张1元，1张5角，
 3张1角。

()

1张5元，1张5角，
 3张1角。

()



wǒ huì fù qián

第四关：我会付钱。(15☆)

1. 买下面的物品该怎样付钱？圈一圈。(6☆)

(1)




2元5角



(2)



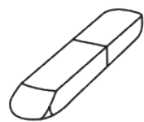
28元



2. 买文具。(9☆)



6元



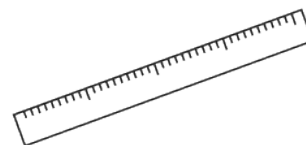
5角



8角

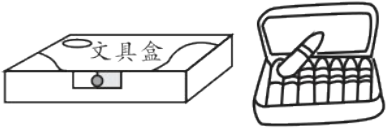
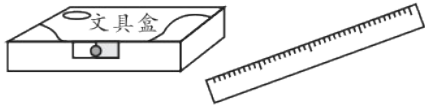
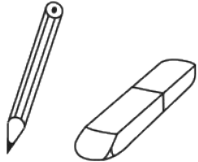


10元



1元

新领程

买的物品			
应付的钱数			

shēng huó lè yuán

第五关：生活乐园。(25☆)

1. 用20元钱正好能买下面哪两种物品？(可以列算式表示)(5☆)




6元



15元



5角



5元






14元

2. 快乐购物。(20☆)

(1) 一辆玩具汽车比一个玩具熊贵多少钱?

新领程



(2) 玲玲买一个  和一支  , 应付多少钱?

(3) 小芳买一件 , 还剩 4 元钱。她原来有多少钱?

新领程

(4) 你还能提出什么数学问题并解答?

提问: _____

解答: _____



关注“优翼丛书”小程序

更多优质好课等你来



更多教学资源，敬请关注 www.youyi100.com