



# 第一单元 认识平面图形



## 第 1 课时 认识平面图形

一年级数学下册  
(RJ)

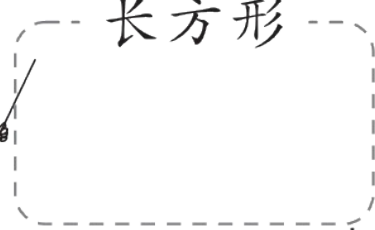


新领程同步作业课件

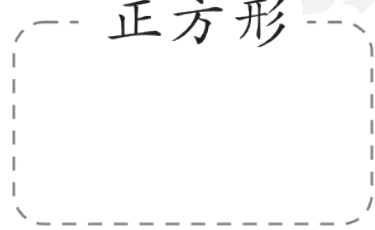
1 把图形送回家。(填序号)



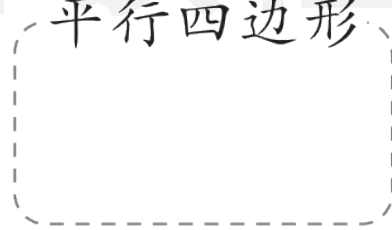
长方形



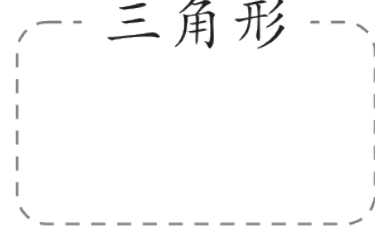
正方形



平行四边形




三角形



圆






2 (跨学科) 古小勇用图形拼出了“掩耳盗铃”的故事,数一数他用了多少个图形吧!



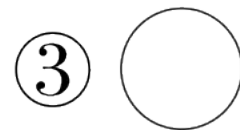
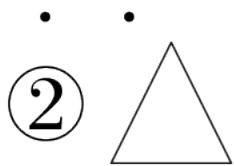
正方形	(      )个
长方形	(      )个
圆	(      )个
三角形	(      )个

3 选一选。

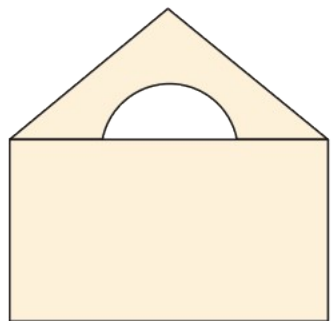
(1) 用( )能画出 。



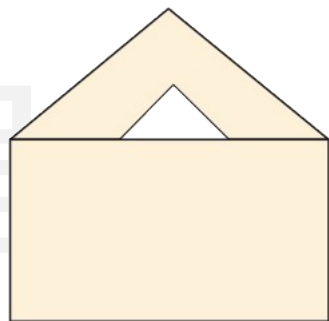
(2) 下面图形中,( )不能在钉板上围出。



4 (素养提升) 信封里可能是什么? (填序号)



信封里可能是  
( )。



信封里可能是  
( )。

① 正方形

② 圆

③ 三角形

④ 长方形



关注“优翼丛书”小程序

更多优质好课等你来



更多教学资源，敬请关注 [www.youyi100.com](http://www.youyi100.com)