

第 6 单元 11 ~ 20 各数的认识

★ 数学乐园

一年级数学上册 (RJ)



学习单 同步作业课件

 优翼学习单

kǒu suàn chuǎng guān

1. 口算闯关。

$7 + 2 = \square$

$2 + 3 = \square$

$5 + 2 = \square$

$7 - 4 = \square$

$8 - 6 = \square$

$7 - 2 = \square$

$6 - 3 = \square$

$3 + 4 = \square$

$10 + 2 = \square$

$10 - 2 = \square$

$15 - 2 = \square$

$15 + 2 = \square$

fēn lèi shū lǐ wǒ zuì bàng

2. 【趣味探究】分类梳理我最棒！



你真棒，祝贺你顺利完成了游戏！在游戏的过程中，你都使用了哪些知识呢？

根据下面的花朵，和同伴分享一下吧，说说每道题分别用的什么知识！

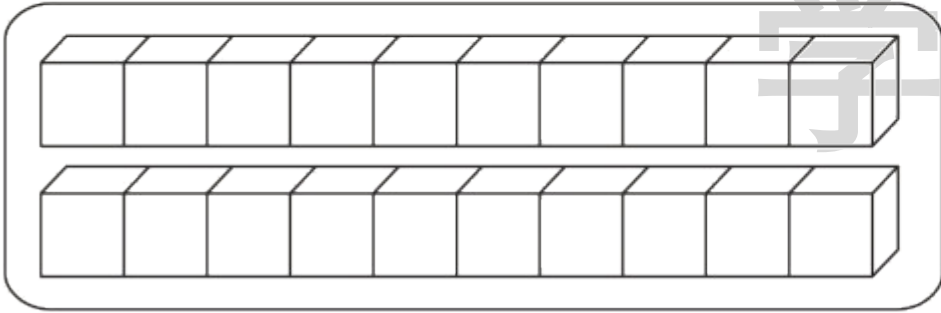


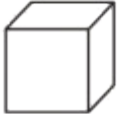


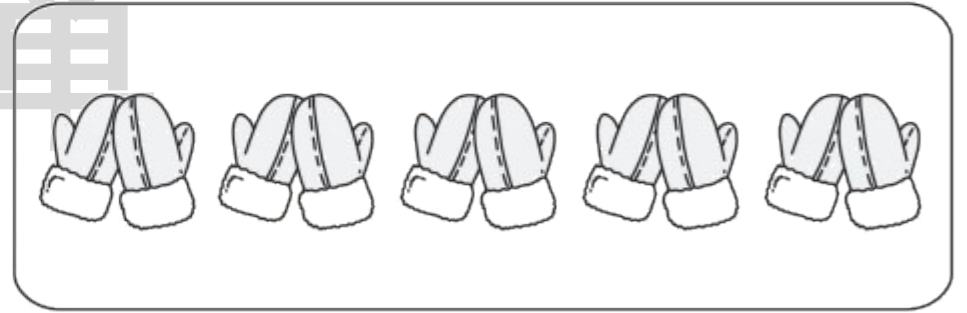
 优翼巩固单

shǔ yì shǔ

1. 数一数。 [★]



() 个 



() 双手套, () 只手套

tián yì tián

2. 填一填。 [★★]

(1) 一个两位数,个位和十位上都是1,这个数是()。

(2) 15的前一个数是(),后一个数是()。


(3) 升国旗时,少先队员举()手行队礼。

(4) 如果今年端午节假期是星期四到星期六,那么一共放()天假。

(5) 写出大于11小于17的数:()。

kàn tú liè shì jì suàn

3. 看图列式计算。 [★ ★]



$$\square \bigcirc \square = \square (\text{个})$$



$$\square \bigcirc \square \bigcirc \square = \square (\text{只})$$


我知道你是数学小天才，来试一试吧！

xué xiào dōng jì yùn dòng huì

yuè

rì kāi mù

4. 学校冬季运动会()月()日开幕。 [★ ★ ★]



再过5天我们学校冬季运动会就开幕了。





关注“优翼丛书”小程序

更多优质好课等你来

更多教学资源，敬请关注 www.youyi100.com