

# 第一单元 5 以内数的认识和加、减法

## 第 1 课时 加法


一年级数学上册 (RJ)




新领程同步作业课件

kàn tú tián kòng

1 看图填空。

	<p><input type="text"/> 和 <input type="text"/> 合起来是 <input type="text"/>。</p>
<p><math>3+1=</math> <input type="text"/></p>	

	<p>读作：<input type="text"/> 加 <input type="text"/> 等于 <input type="text"/>。</p>
<p><math>4+1=</math> <input type="text"/></p>	

2 suàn yì suàn  
算一算。

$$1 + \begin{array}{|c|} \hline 4 \\ \hline 3 \\ \hline 2 \\ \hline \end{array} = \begin{array}{|c|} \hline \\ \hline \\ \hline \\ \hline \end{array}$$

新领程

$$2 + \begin{array}{|c|} \hline 1 \\ \hline 2 \\ \hline 3 \\ \hline \end{array} = \begin{array}{|c|} \hline \\ \hline \\ \hline \\ \hline \end{array}$$

xiān shuō yì shuō měi fú tú biǎo shì de yì sī zài liè chū suàn shì


3 先说一说每幅图表示的意思，再列出算式。



$$\square \bigcirc \square = \square$$



$$\square \bigcirc \square = \square$$



$$\square \bigcirc \square = \square$$

xiǎo xīn yào cóng xià miàn sān shù qì qiú zhōng mǎi liǎng shù tā kě

4 (素养提升) 小新要从下面三束气球中买两束，他可

néng mǎi le jǐ gè qì qiú yòng suàn shì biǎo shì  
能买了几个气球？用算式表示。



$$\square \bigcirc \square = \square$$

$$\square \bigcirc \square = \square$$

$$\square \bigcirc \square = \square$$



关注“优翼丛书”小程序

更多优质好课等你来



更多教学资源，敬请关注 [www.youyi100.com](http://www.youyi100.com)