

第 6 单元 11-20 各数的认识

★ 数学乐园


一年级数学上册 (RJ)



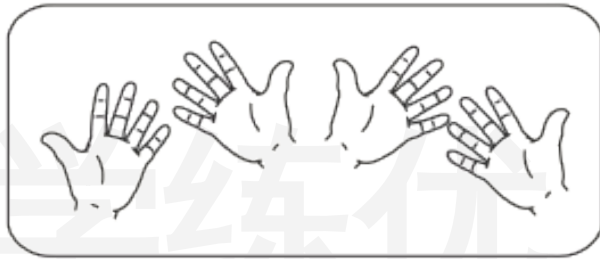
学练优同步作业课件

shǔ yì shǔ

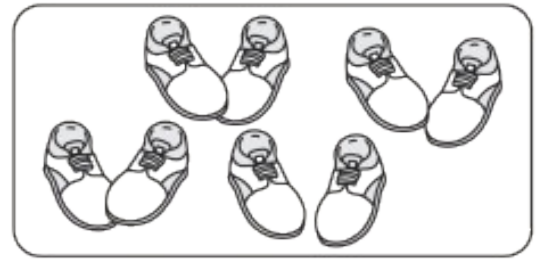
1 数一数。



() 条腿



() 根手指



() 双鞋

tián yì tián

2 填一填。


(1) 一个两位数,个位和十位上的数都是1,这个数是()。

(2) 按顺序填数:

14	15	16			
----	----	----	--	--	--

		16	14	12	
--	--	----	----	----	--

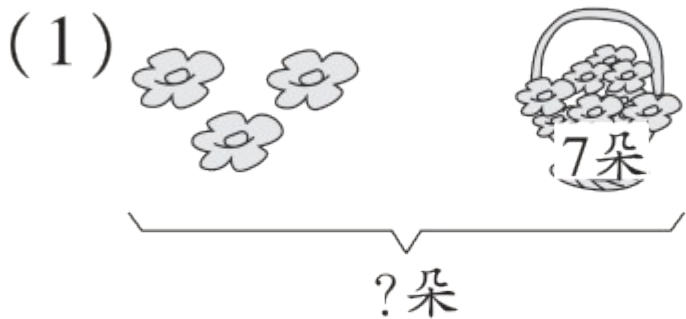
(3) 15 前面的一个数是(),后面的一个数是()。

(4)  图中手表是戴在()手手腕(wàn)上的。

(5) 排队买电影票,小轩排第 10,小优排第 15。他们中间有()人。

kàn tú liè shì jì suàn

3 看图列式计算。



$$\square \bigcirc \square = \square \text{ (朵)}$$





还剩多少只？

$$\square \bigcirc \square \bigcirc \square = \square \text{ (只)}$$

duì hào rù zuò

4 对号入座。



1 把  能坐 1 人, 1 把  能坐 2 人, 有 () 人没有座位。



关注“优翼丛书”小程序

更多优质好课等你来



更多教学资源，敬请关注www.youyi100.com