

# 第四单元素养通关

一年级数学上册 (RJ)

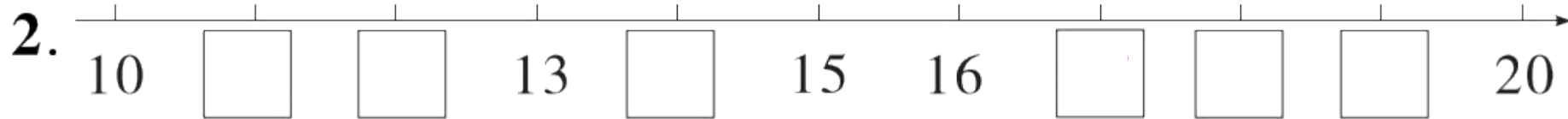
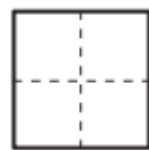
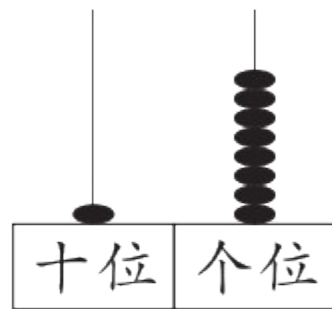
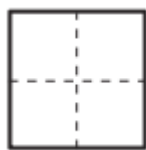
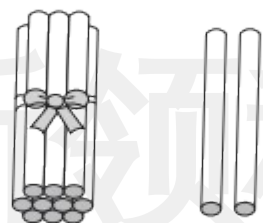
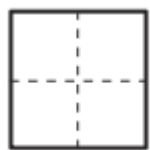
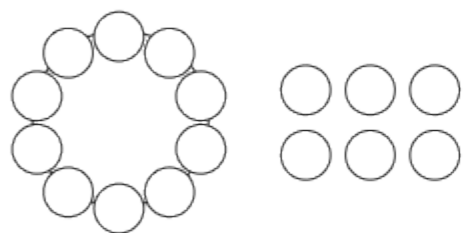


新领程同步作业课件

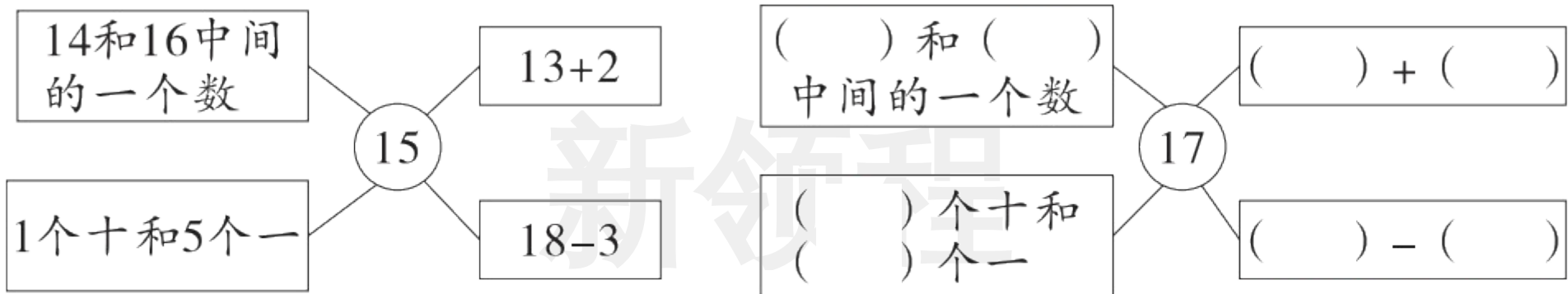
tián kòng chéng bǎo

第一关：填空城堡。（第2题3☆，其余每空1☆，共27☆）

1. 看图写数。



3. 照样子, 写一写。



4. 17 后面连续三个数是( )、( )、( )。

5. 在  $\bigcirc$  里填上“ $>$ ”“ $<$ ”或“ $=$ ”。

$10 \bigcirc 20$

$18 \bigcirc 17$

$11 \bigcirc 10$

$10 + 1 \bigcirc 11$

$15 \bigcirc 13$

$20 \bigcirc 16$

$19 \bigcirc 20$

$4 + 12 \bigcirc 15$

6. 一个加数是 10, 另一个加数是 9, 和是( )。

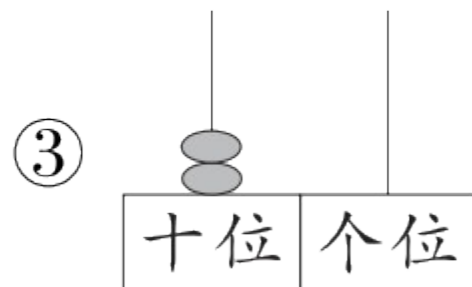
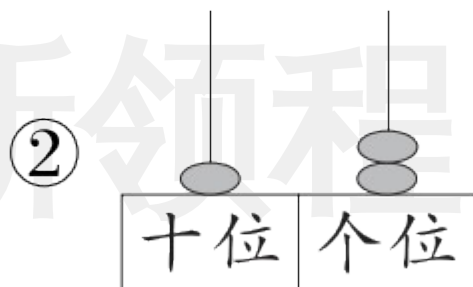
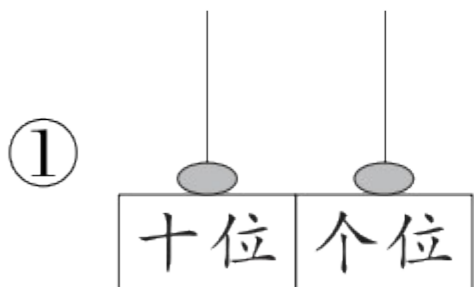
7. 文文爸爸星期二到星期四放假, 他一共放假( )天。

xuǎn zé mí gōng

tián xù hào

第二关：选择迷宫。（填序号）（10☆）

1. 下面能表示 12 的是图（ ）。



2. 比 14 大, 比 18 小的数有（ ）个。

① 2

② 3

③ 4

3. 关于“17”说法不正确的是( )。

① 由 7 个一和 1 个十组成

② 比 16 大 1

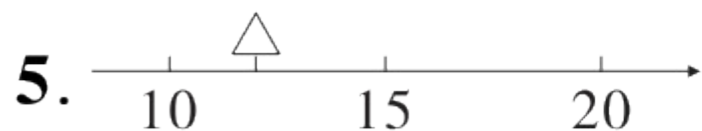
③ 17 读作：一七

4. 原定周二比赛,推迟 2 天举行,比赛将在周( )举行。

① 三

② 四

③ 五



如图,△所在位置表示的数可能是( )。

① 9

② 12

③ 16

jì suàn wáng guó

### 第三关：计算王国。(20☆)

#### 1. 口算。(12☆)

$19 - 5 =$

$6 + 10 =$

$18 - 8 =$

$8 + 11 - 9 =$

$11 - 10 =$

$13 + 6 =$

$10 + 7 =$

$15 - 5 - 5 =$

$16 + 2 =$

$10 + 9 =$

$17 - 6 =$

$14 - 4 + 2 =$

新 领 程

2. 在  里填上合适的数。(8☆)

$7 + \square = 9$

$\square + 10 = 13$

$4 + \square = 14$

$12 = 1 + \square$

$16 - \square = 6$

$\square - 5 = 10$

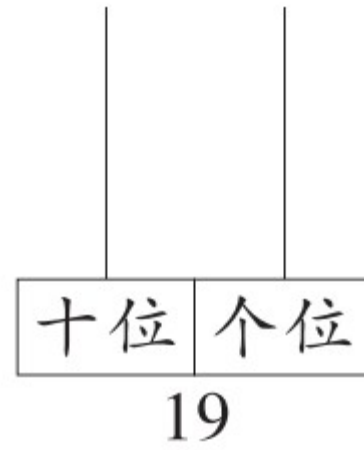
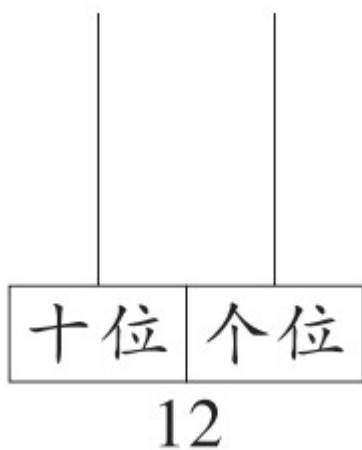
$15 + \square = 18$

$13 = \square - \square$

dòng shǒu mì shì

第四关：动手密室。(12☆)


1. 看数画珠子。(6☆)



## 2. 小动物坐火车。(连一连)(6☆)




我的车厢号是16和18中间的数。



我的车厢号由1个十和5个一组成。



我的车厢号比18大，比20小。



我的车厢号是15后面第3个数。



我的车厢号由20个一组成。



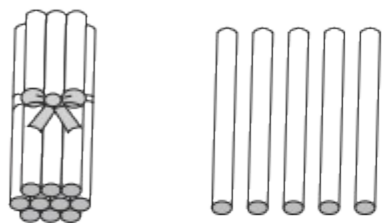
我的车厢号由6个一和1个十组成。

shù xué yuán dì

kàn tú liè shì jì suàn

第五关：数学园地。（看图列式计算）（12☆）

1.




$$\square + \square = \square$$

$$\square - \square = \square$$

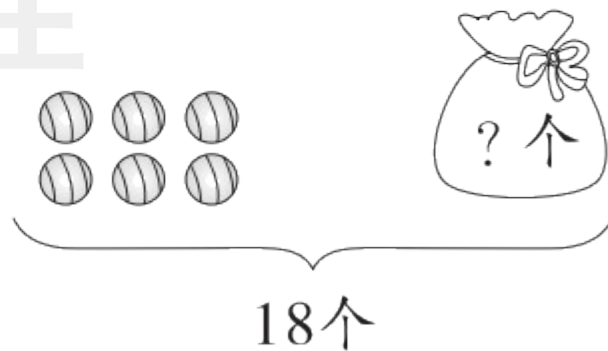
$$\square - \square = \square$$

2.



$$\square \bigcirc \square = \square (\text{个})$$

3.




$$\square \bigcirc \square = \square (\text{个})$$

新领程

shēng huó lè yuán

第六关：生活乐园。（第3题4☆，其余每题5☆，共19☆）

1.



一共有多少人？

$$\square \bigcirc \square = \square \text{ (人)}$$

答：一共有  人。

2.

一共有15根。



还剩几根？

$$\square \bigcirc \square = \square \text{ (根)}$$

答：还剩  根。

### 3. 小动物春游。



小兔和乌龟之间有(        )只小动物。

4. 小新今天读了几页故事书？



小新

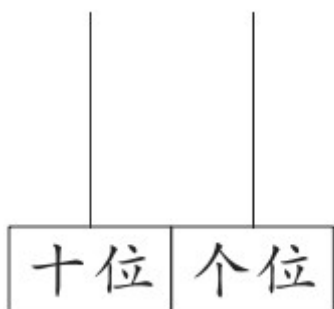
今天我从第10页读到了第17页，明天该读第18页了。

画一画：

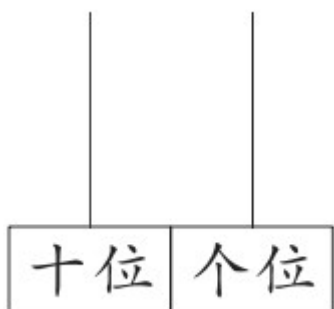
答：小新今天读了  页故事书。

sù yǎng tí shēng zuò duì le jiǎng lì 。  
**素养提升**。（做对了，奖励10☆哦！）

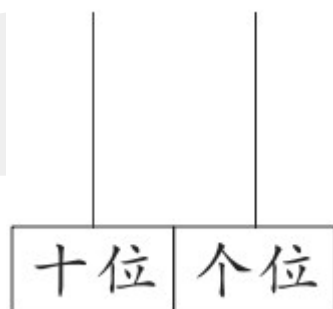
你能用两颗珠子表示出三个不同的数吗？画一画，填一填。



(      )



(      )



(      )



关注“优翼丛书”小程序

更多优质好课等你来



更多教学资源，敬请关注 [www.youyi100.com](http://www.youyi100.com)