

# 快乐闯关

## 第四单元快乐闯关

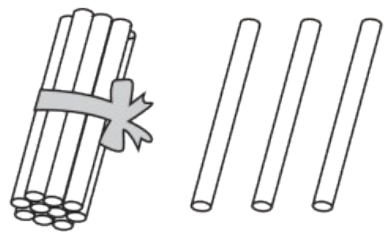
一年级数学上册 (RJ)



学练优同步作业课件

第一关 我会填。(第2、5题各4☆,第6题5☆,其余每空1☆,共28☆)

1. 写一写,读一读。



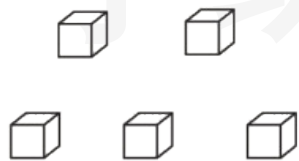
写作( )

读作( )



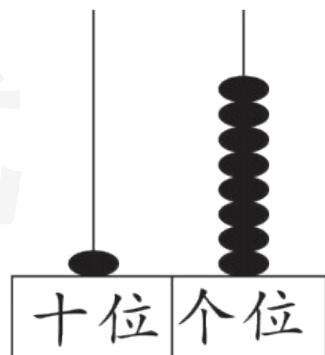
写作( )

读作( )



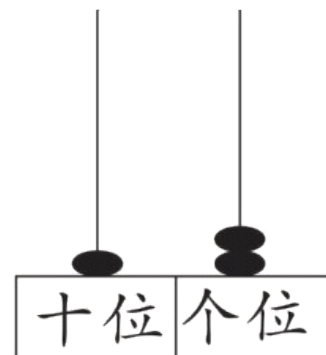
写作( )

读作( )



写作( )

读作( )



2. 13 中的“3”在( )位上,表示( )个( );  
“1”在( )位上,表示( )个( )。
3. 1 个十和 7 个一合起来是( );个位上是 9,十位上是 1 的数是( );比 19 大 1 的数是( )。

4. 被减数是 16, 减数是 4, 差是 (            ); 两个加数都是 4, 和是 (            )。

5.

20	18	16				
----	----	----	--	--	--	--

		14		
--	--	----	--	--

6. 黑板上写了一些数:6、11、20、18、0、13。

(1) 从左往右数,第4个数是(            ),比它小1的数是(            )。

(2) 把这些数按从小到大的顺序排一排。

---

7. 原定星期二举行的比赛推迟 2 天再举行, 比赛将在星期( ) 举行。
8. 一个数比 10 大, 比 20 小, 并且它的十位和个位上的数字相同, 这个数是( )。

wǒ huì xuǎn

## 第二关 我会选。(6☆)

1. 比 10 大, 比 14 小的数有( )个。

① 3

② 4

③ 5

2. 16 里面有( )个一和( )个十。

① 1

② 6

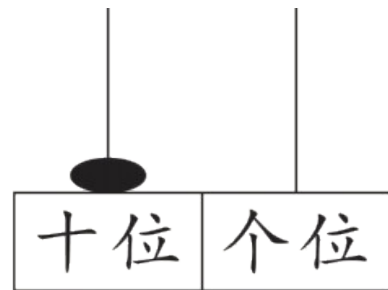
③ 7

3. 右图添上一个珠子,得到的数不可能是( )。

① 20


② 11

③ 2

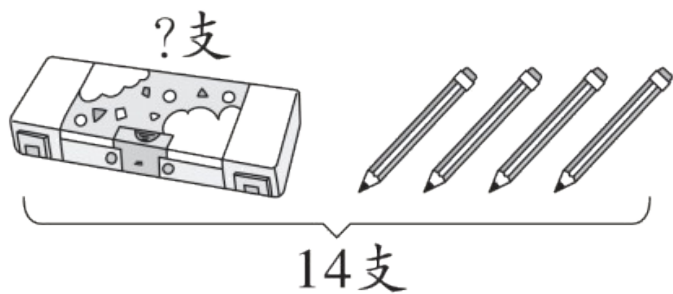


4. 不能用算式“ $14 - 4 = 10$ ”解决的是( )。

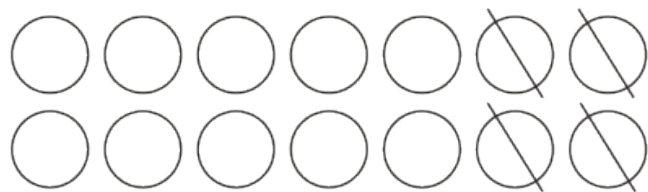
①



②



③



5. 小优看故事书,从第 10 页看到第 15 页,她一共看了( )页。

① 4


② 5

③ 6

wǒ huì zuò

### 第三关 我会做。(12☆)

1. 圈出 10 个, 并填一填。(6☆)



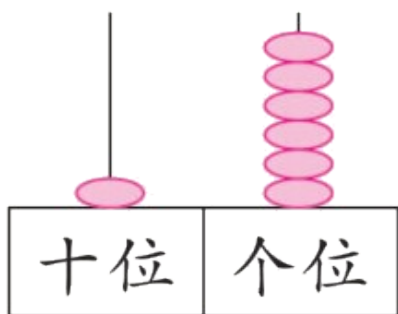
( ) 个十和( ) 个一

学练

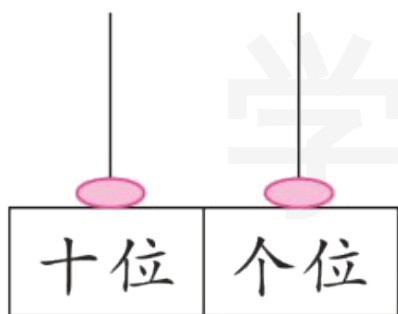



( ) 个十和( ) 个一

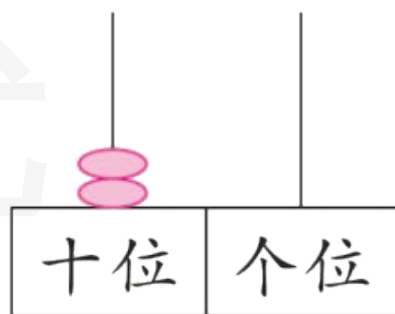
2. 先画出珠子,再比一比。(6☆)



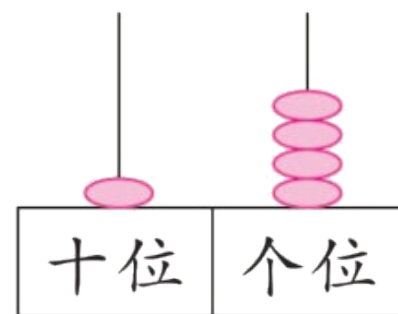
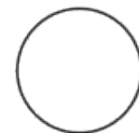
16



11



20



14

wǒ huì suàn

## 第四关 我会算。(28☆)

## 1. 直接写出得数。(12☆)

$10 + 6 =$

$17 - 6 =$

$18 - 5 =$

$8 + 11 - 9 =$

$12 + 3 =$

$4 + 12 =$

$1 + 10 =$

$15 - 5 + 4 =$

$10 + 3 =$

$16 - 4 =$

$19 - 10 =$

$10 + 2 + 6 =$

2. 在 ○ 里填上“>”“<”或“=”。(8☆)

$10 + 2 \bigcirc 12$

$15 - 3 \bigcirc 13$

$18 - 2 \bigcirc 12$

$1 + 17 \bigcirc 16$

$6 + 10 \bigcirc 17$

$8 - 4 \bigcirc 4$

$5 + 10 \bigcirc 15$

$16 - 4 \bigcirc 14$

3. 在  里填上合适的数。(8☆)

$$\square + 4 = 16$$

$$11 - \square = 10$$

$$5 + \square = 16$$

$$\square + 2 = 15$$

$$13 - \square = 3$$

$$\square + 10 = 18$$



$$\square - 2 = 11$$

$$\square - \square = 10$$

wǒ huì kàn tú liè shì jì suàn

# 第五关 我会看图列式计算。(10☆)

1.




学练优

$$\square + \square = \square$$

$$\square - \square = \square$$

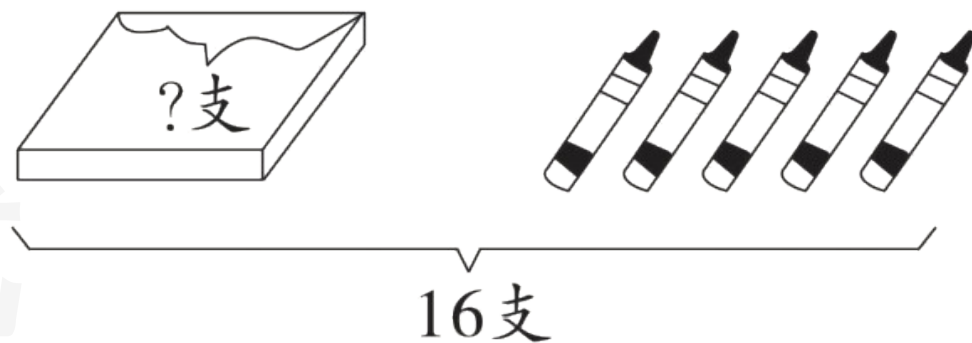
$$\square - \square = \square$$

2.



$$\square \bigcirc \square = \square \text{ (根)}$$

3.



$$\square \bigcirc \square = \square \text{ (支)}$$

wǒ huì jiě jué wèn tí

# 第六关 我会解决问题。(16☆)

1.



两个队一共得了多少分？(5☆)

$$\square \bigcirc \square = \square \text{ (分)}$$

答：两个队一共得了  分。

2.



丁丁

我们一共擦了  
17张桌子。

我擦了6张，其余  
都是丁丁擦的。



文文

丁丁擦了多少张桌子？(5☆)

$$\square \bigcirc \square = \square \text{ (张)}$$

答：丁丁擦了  $\square$  张桌子。



方法二：画一画。（用 ○ 表示人画一画）

第 3

第 13

答：轩轩和优优之间有  人。

wǒ lái tiǎo zhàn

我来挑战。(10☆)

优优每天坚持看课外书,她明天应该从第( )页看起。

我昨天从头开始看,看了14页,今天又接着看了4页。



优优



关注“优翼丛书”小程序

更多优质好课等你来



更多教学资源，敬请关注 [www.youyi100.com](http://www.youyi100.com)