

第五单元 20 以内的进位加法

第 2 课时 练习课

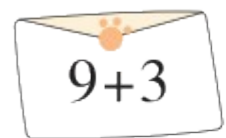
一年级数学上册 (RJ)



新领程同步作业课件

lián yi lián

1 连一连。



$9+3$



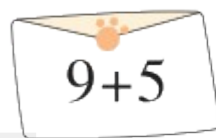
12



$9+6$



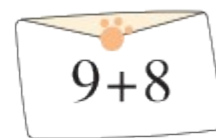
17



$9+5$



15



$9+8$



14

新领程

2 zài lǐ tián shàng “ > ” “ < ” huò “ = ” 。
 在 里填上 “ > ” “ < ” 或 “ = ” 。

$9 + 6 \bigcirc 16$

$9 + 2 \bigcirc 11$

$9 + 8 \bigcirc 18$

$9 + 9 \bigcirc 20$

$9 + 7 \bigcirc 15$

$9 + 3 \bigcirc 12$

新领程

mā ma yí gòng mǎi le duō shao gè kǒu zhào

3 妈妈一共买了多少个口罩？



已经用了
9个口罩。




还剩下8个
口罩。



$$\square \bigcirc \square = \square (\text{个})$$

答：妈妈一共买了 个口罩。

4 kàn huà zhǎn 。 (liè chū liǎng gè jiā fǎ suàn shì , bìng jì suàn)
 看画展。(列出两个加法算式,并计算)

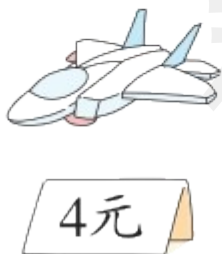


$$\square + \square = \square$$

$$\square + \square = \square$$

gòu wù

5 (素养提升) 购物。



买两种玩具(jù), 最少
要花()元, 最多要
花()元。





关注“优翼丛书”小程序

更多优质好课等你来



更多教学资源，敬请关注 www.youyi100.com