



单元素养通关

第四单元素养通关

一年级数学上册（RJ）

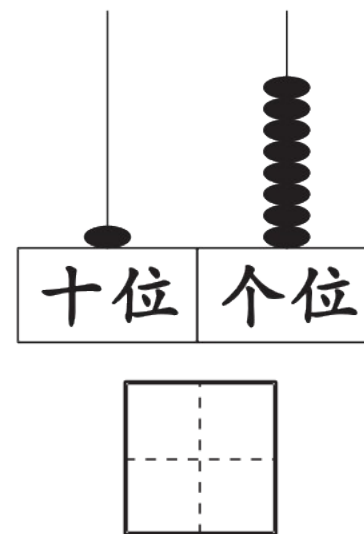
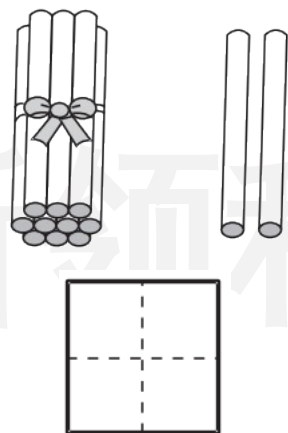
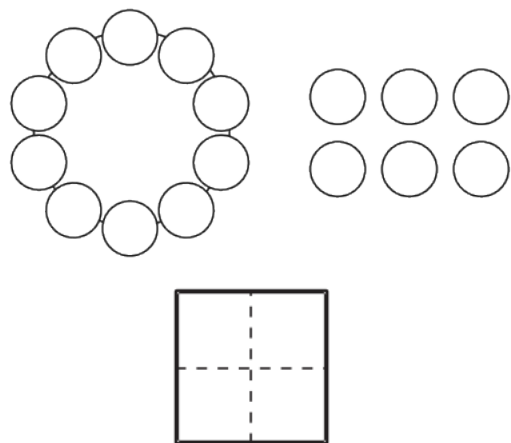


新领程同步作业课件


tián kòng chéng bǎo

第一关：填空城堡。（第2题3☆，其余每空1☆，共27☆）

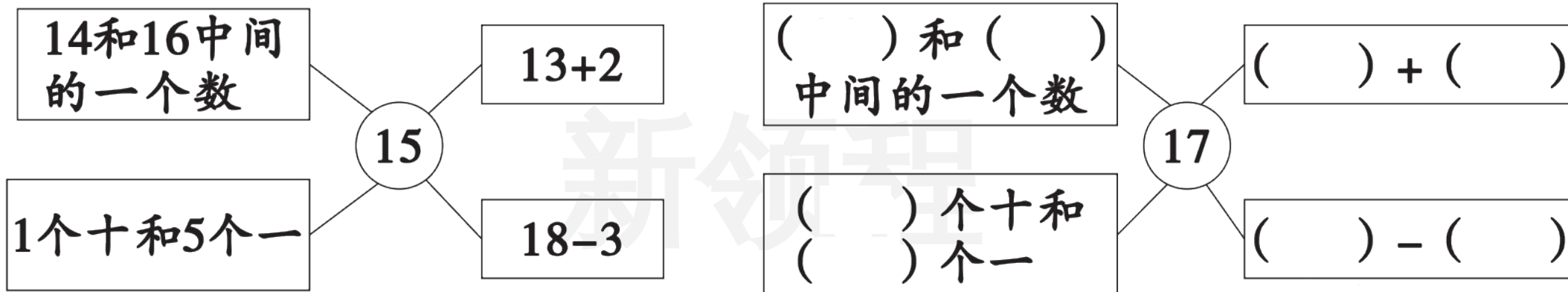
1. 看图写数。



2. 按顺序填数。



3. 照样子,写一写。



4. 17后面连续三个数是()、()、()。

5. 在 \bigcirc 里填上“ $>$ ”“ $<$ ”或“ $=$ ”。

$10 \bigcirc 20$

$18 \bigcirc 17$

$11 \bigcirc 10$

$10 + 1 \bigcirc 11$

$15 \bigcirc 13$

$20 \bigcirc 16$

$19 \bigcirc 20$

$4 + 12 \bigcirc 15$

6. 一个加数是 10, 另一个加数是 9, 和是()。

7. 文文爸爸从星期二到星期四放假, 他一共放假()天。

xuǎn zé mí gōng

tián xù hào

第二关：选择迷宫。（填序号）（10☆）

1. 关于“17”的说法不正确的是（ ）。

① 由7个一和1个十组成

② 比16大1

③ 17读作：一七

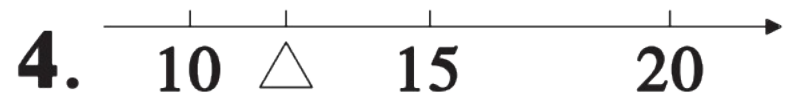
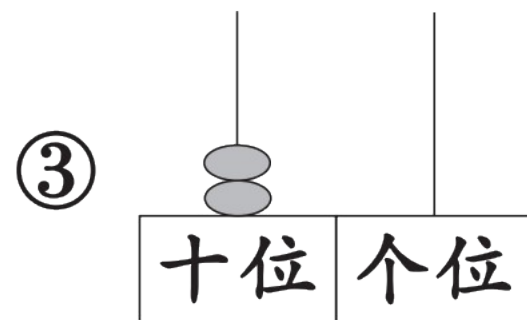
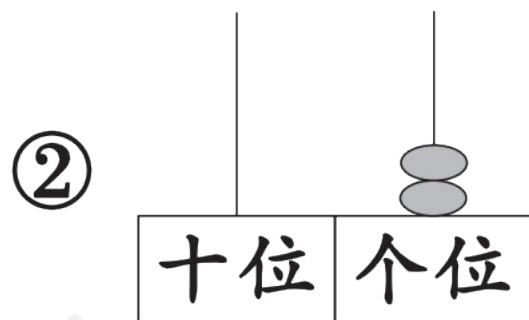
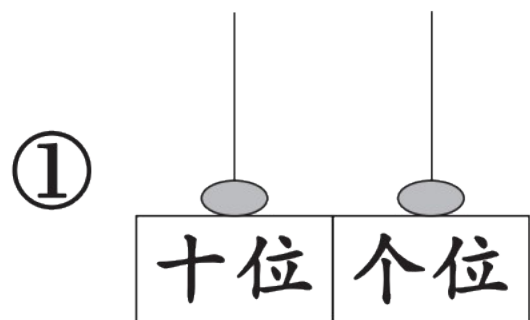
2. 比14大，比18小的数有（ ）个。

① 2

② 3

③ 4

3. 下面哪个计数器上的数表示 2? ()



如图, \triangle 所在位置表示的数可能是()。

① 9

② 12

③ 16

5. 原定周二比赛, 推迟 2 天举行, 比赛将在周()举行。

① 三

② 四

③ 五

jì suàn wáng guó

第三关：计算王国。(20☆)

1. 口算。(12☆)

$19 - 5 =$

$6 + 10 =$

$18 - 8 =$

$8 + 11 - 9 =$

$11 - 10 =$

$13 + 6 =$

$10 + 7 =$

$15 - 5 - 5 =$

$16 + 2 =$

$10 + 9 =$

$17 - 6 =$

$14 - 4 + 2 =$

新领程

2. 在 里填上合适的数。(8☆)

$7 + \square = 9$

$\square + 10 = 13$

$4 + \square = 14$

$12 = 1 + \square$

$16 - \square = 6$

$\square - 5 = 10$

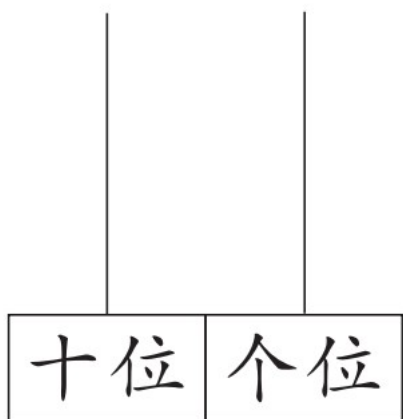
$15 + \square = 18$

$13 = \square - \square$

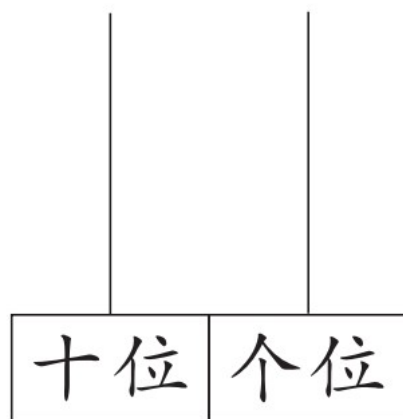
dòng shǒu mì shì

第四关：动手密室。(12☆)

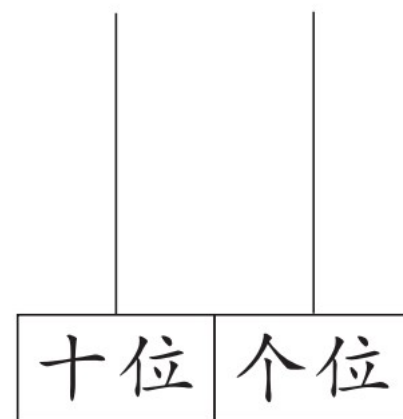
1. 看数画珠子。(6☆)



12



15




19

2. 小动物们坐火车。(连一连)(6☆)




我的车厢号
是比13大4
的数。



我的车厢号
的个位是5，
十位是1。



我的车厢号
比18大，比
20小。



我的车厢号
是15后面第
3个数。



我的车厢
号由20个
一组成。



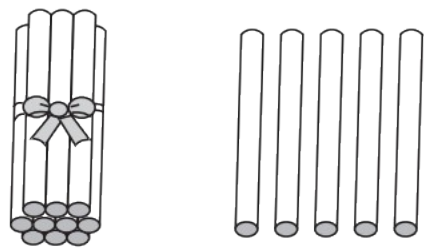
我的车厢号由
6个一和1个十
组成。

shù xué yuán dì

kàn tú liè shì jì suàn

第五关：数学园地。（看图列式计算）（12☆）

1.




$$\square + \square = \square$$

$$\square - \square = \square$$

$$\square - \square = \square$$

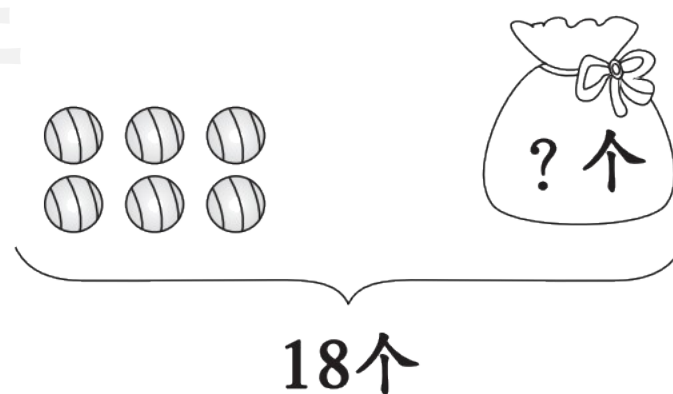
2.



? 根

$$\square \bigcirc \square = \square \text{ (根)}$$

3.



18 个


$$\square \bigcirc \square = \square \text{ (个)}$$

新领程

shēng huó lè yuán

第六关：生活乐园。(19☆)

1.




一共有多少人？(5☆)

$$\square \bigcirc \square = \square (\text{人})$$

2.

一共有15根。



还剩多少根？(5☆)

$$\square \bigcirc \square = \square (\text{根})$$

3. 小动物们秋游。(4☆)



小兔和乌龟之间有()只小动物。

4. 小新今天读了几页故事书？(5☆)



今天我从第10页读到了第17页，明天该读第18页了。

画一画：

小新今天读了()页故事书。

sù yǎng tí shēng zuò duì le jiǎng lì 。
素养提升。（做对了，奖励10☆哦！）

一堆书，比10本多，比20本少。5本5本地数或3本3本地数，都正好数完。这堆书有（ ）本。



学习用优翼 越来越优异

优翼产品与服务
历年中小学生学习人次 **3 亿 +**

优翼网教学资源
每年服务师生人次 **3000 万 +**

年举办公益
教研活动场次 **300+**



· 学练优 | 新领程 | 涂重点 | 优翼网 教学资源服务平台

www.youyi100.com



优翼品牌代言人



学习用优翼 越来越优异

优翼教学工具书（小学系列）“3+n”选购指南：

教材笔记 1 本、同步练习 1 本、检测试卷 1 本 + 专项提升 n 本

教材笔记：新领程·涂重点 甘橙语文笔记

同步练习：学练优 新领程 学习单（素养导向的大单元作业）

检测试卷：优干线 真题新卷

假期作业：暑假衔接 寒假衔接

小学总复习：极速提分 系统强化训练 小总冲刺卷 全真模拟卷

字帖系列：四步法写字 写字高手 静心字帖……

语文专项：看图写话 同步作文 默写大通关 阅读与积累 五步法作文 情境化串联古诗词 趣味拼音拼读

数学专项：必考口算应用题 同步口算 口算天天练 模型图解应用题

英语专项：拼读法速记单词 趣味速记音标



优翼品牌代言人



关注“优翼丛书”小程序

更多优质好课等你来



更多教学资源，敬请关注 www.youyi100.com