



# 第三单元认识立体图形



## 第1课时 认识立体图形

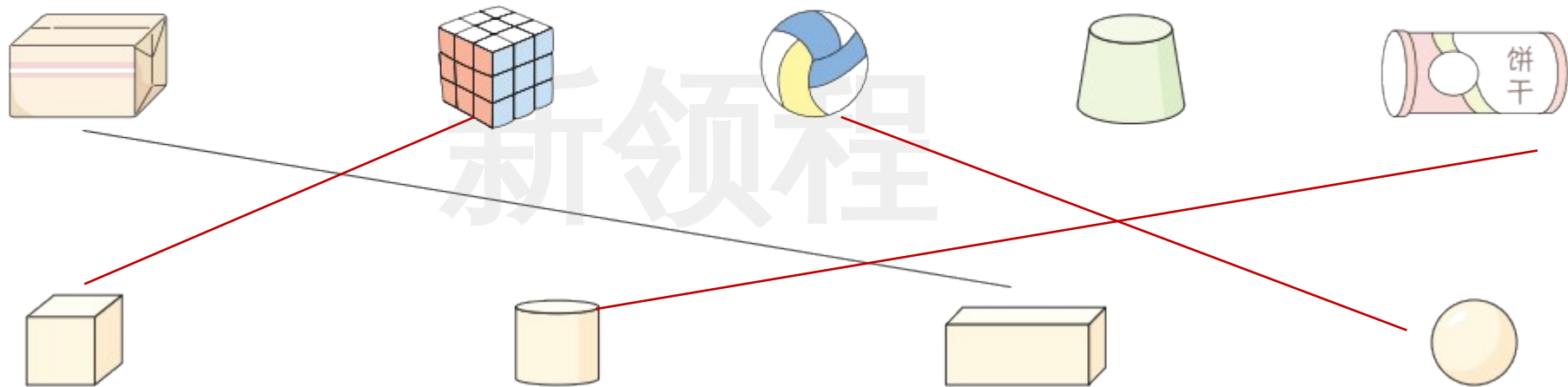
一年级数学上册（RJ）



新领程同步作业课件

zhào yàng zi rèn yi rèn lián yi lián

1 照样子，认一认，连一连。



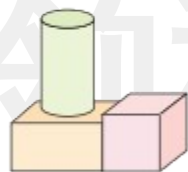
zài zhèng què de bǎi fǎ xià miàn huà

2 在正确的摆法下面画“√”。

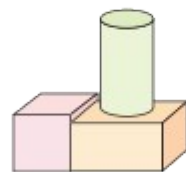


正方体在长方体的右边，圆柱在长方体的上面。

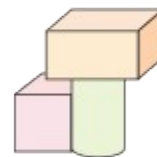
新领程



( )




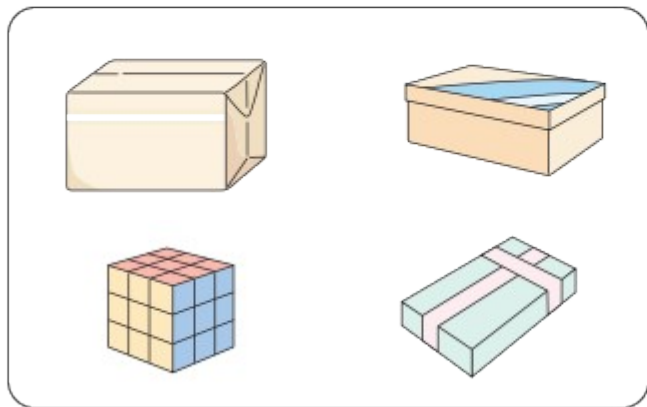
( )



( )


zhǎo chū měi zǔ zhōng xíng zhuàng bù yí yàng de wù pǐn quān yì quān

3 找出每组中形状不一样的物品，圈一圈。



xià miàn cáng zhe de shì shén me tú xíng cāi yī cāi quān yī quān

4 (素养提升) 下面藏着的是什么图形？猜一猜，圈一圈。



新领程



( 正方体 长方体 圆柱 )

( 正方体 长方体 圆柱 )



关注“优翼丛书”小程序

更多优质好课等你来



更多教学资源，敬请关注 [www.youyi100.com](http://www.youyi100.com)