

核心素养闯关

第 6 单元核心素养闯关

一年级数学下册 (RJ)



学习单同步作业课件

wǒ huì tián

第一关 我会填。（第7小题6☆，其他每空1☆，共24☆）

1. 计算 $38 - 30 + 6$ 时，先算（ ）法，再算（ ）法，结果是（ ）。

2. 计算 $65 - (21 + 9)$ 时，先算（ ）法，再算（ ）法，结果是（ ）。

3. 78 比 50 多（ ），7 比 54 少（ ）。

学习单

4. 在○里填上“>”“<”或“=”。

$83 + 6 \bigcirc 83 - 6$

$58 - 9 \bigcirc 58 - 6$

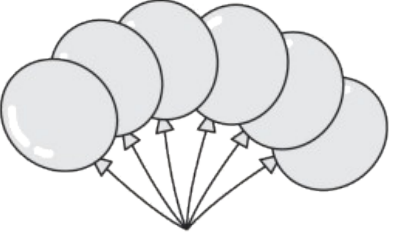
$45 + 20 \bigcirc 45 + 2$

$74 + 6 \bigcirc 82 - 6$

$78 - 5 \bigcirc 58 + 6$

$35 + 40 \bigcirc 55 + 20$

5. 40 连续减 4, 写出每次减得的差。40、36、()、()、()。

6. 3束  , 每人分一个, () 分给 15 个小朋友。(填“够”或“不够”)

7. 在()里填上合适的数。

() + 45 = 50 72 - () = 68 36 + () = 56 - ()

(在括号里填上相同的数)

60 + () > 65 20 + 40 > () () - 5 < 32

wǒ huì xuǎn

第二关 我会选。(8☆)

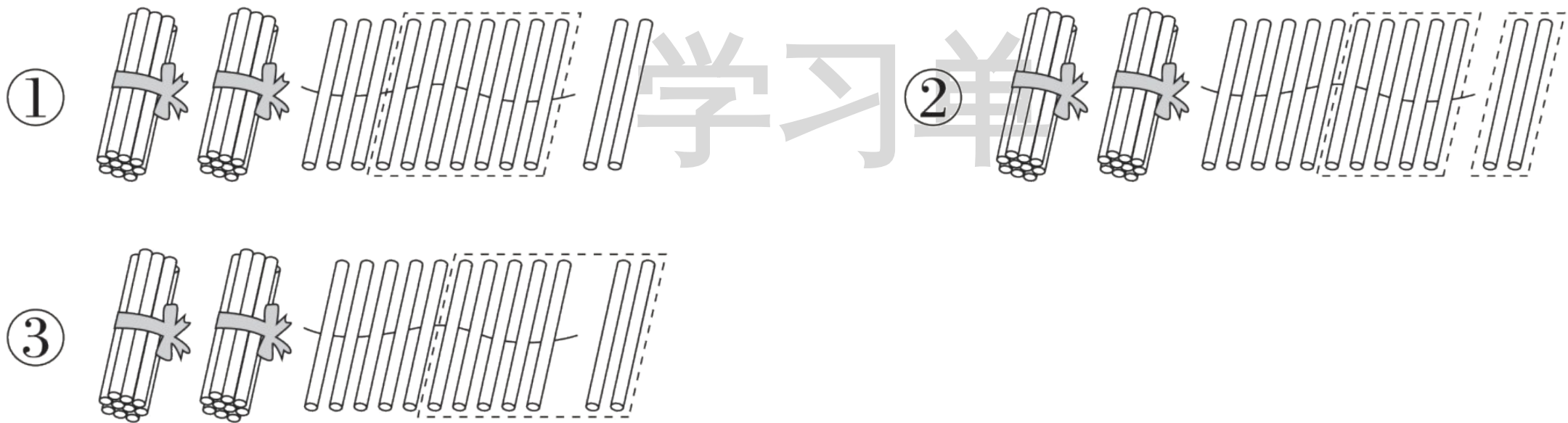
1. 下面算式中的“4”和“3”可以直接相加的是()。

① $45 + 3$

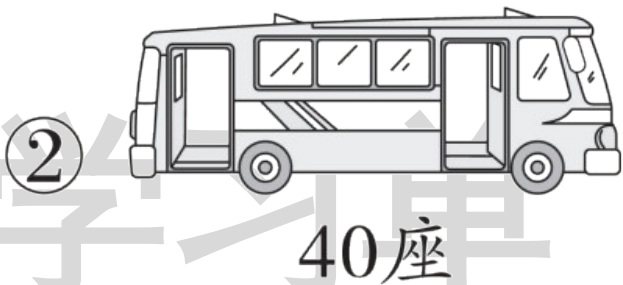
② $45 + 30$

③ $24 + 30$

2. 计算 $32 - 7$ 时, 先算 $12 - 7 = 5$, 再算 $20 + 5 = 25$, 下面的小棒图圈法正确的是()。



3. 4 个老师带领 39 个学生去公园游玩,他们乘坐()号车比较合适。



4. 轩轩买了一本故事书,第一天看了 20 页,第三天是从第 71 页开始看的,那么第二天他看了()页。

① 49

② 50

③ 51

wǒ huì suàn

第三关 我会算。(34☆)

1. 算一算。(14☆)

$40 + 25 =$

$75 + 6 =$

$93 - 60 =$

$81 - 7 =$

$7 + 76 =$

$85 - 50 =$

$56 - 9 =$

$8 + 38 =$

$35 + 30 - 5 =$

$56 - (12 + 8) =$

$18 + (35 + 5) =$

$95 - 7 - 50 =$

$74 - (47 - 7) =$

$62 - (27 + 3) =$

2. 在 ○ 里填上“+”或“-”，使等式成立。(8☆)

28 ○ 4 ○ 8 = 24 46 ○ 7 ○ 6 = 47

56 ○ (23 ○ 7) = 86 34 ○ (12 ○ 8) = 14

3. 正确的画“√”,错误的画“×”并改正。(12☆)

(1) $25 + 8 = 23$ ()

改正: _____

(2) $53 + 4 = 93$ ()

改正: _____

(3) $37 - 5 = 32$ ()

改正: _____

学习单

(4) $42 - 7 = 45$ ()

改正: _____

(5) $36 - (6 - 5) = 25$ ()

改正: _____

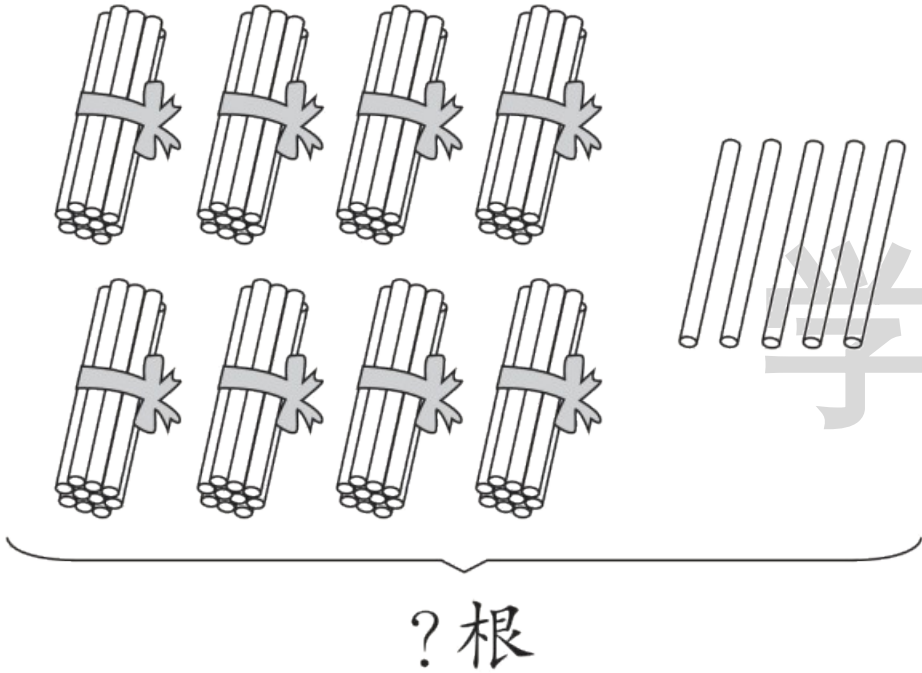
(6) $50 - (7 + 3) = 46$ ()

改正: _____

wǒ huì kàn tú liè shì jì suàn

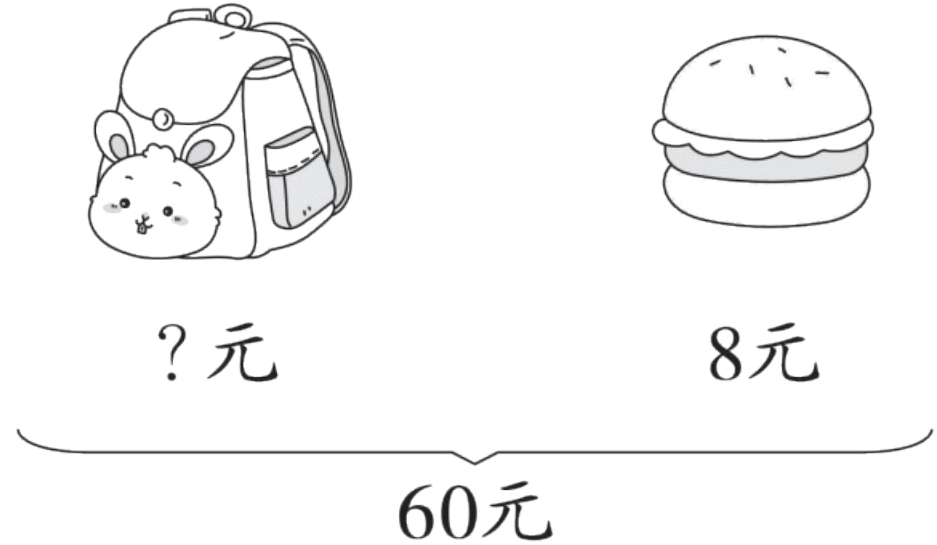
第四关 我会看图列式计算。(6☆)

1.



$$\square \bigcirc \square = \square (\quad)$$

2.



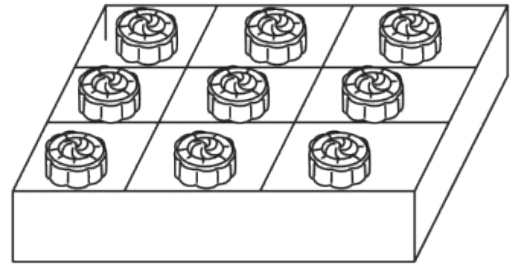
$$\square \bigcirc \square = \square (\quad)$$

wǒ huì jiě jué wèn tí

第五关 我会解决问题。(28☆)

1. 把30个月饼装入下面的盒子里,最多可以装满几盒?(4☆)

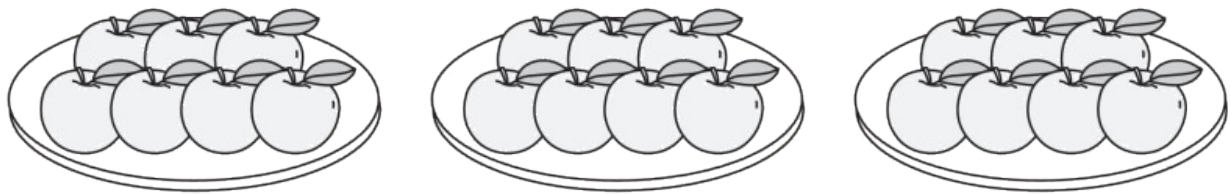
练习单



2. 体育室一共有 93 根跳绳, 其中黄色的有 40 根。借给一年级 30 根, 体育室还有多少根跳绳? (4☆)

学习单


3. 妈妈准备了3盘苹果,每盘7个,一共有多少个苹果?(4☆)



学习单

4. 小猴摘了多少个桃子?(4☆)

树上原来有36个桃子,我摘了一些后还剩8个。



5. 妈妈给轩轩买了一套衣服,付给收银员 100 元,应找回多少钱?

(用两种方法解答)(4☆)

单



50元

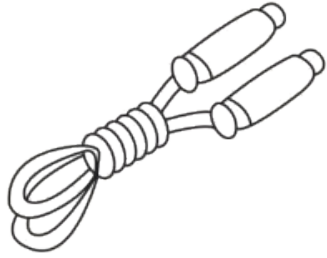


40元

6. 购物。(8☆)



35元



3元



7元



28元

(1) 买一个足球和一根跳绳一共要多少钱？(4☆)

(2) 一个书包比一支钢笔贵多少钱？(4☆)

wǒ lái tiǎo zhàn

我来挑战。（做对了，奖励10☆哦！）

优优和轩轩都收集了一些画片。优优送给轩轩4张画片后，两个人的画片就一样多了。原来优优比轩轩多（ ）张画片。



关注“优翼丛书”小程序

更多优质好课等你来



更多教学资源，敬请关注www.youyi100.com