

趣味游园考

一年级数学上册 (RJ)

新领程同步作业课件

游戏规则：随机抽取 12 道题目，直接说出答案。

奖励：每答对 1 题得 1 颗☆。

$5 + 9 =$

$12 + 3 =$

$12 + 7 =$

$4 + 7 + 8 =$

$15 - 10 =$

$4 + 7 =$

$8 + 8 =$

$12 + 7 - 9 =$

$6 + 6 \bigcirc 12$

$10 + 9 \bigcirc 18$

$5 + 8 \bigcirc 12$

$18 - 8 + 5 \bigcirc 10$

$16 - 5 \bigcirc 10$

$4 + 9 \bigcirc 14$

$4 + 8 \bigcirc 13$

$5 + 7 + 3 \bigcirc 14$

$9 + \square = 15$

$3 + \square = 11$

$11 + \square = 19$

$2 + \square = 12$

$7 + \square = 12$

$5 + \square = 13$

$\square + 8 = 14$

$8 + \square = 17$

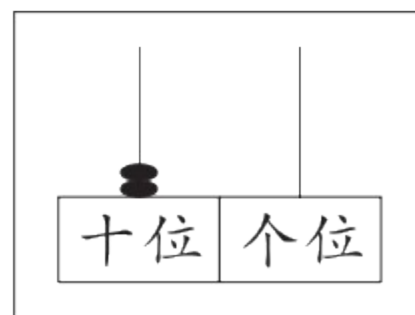
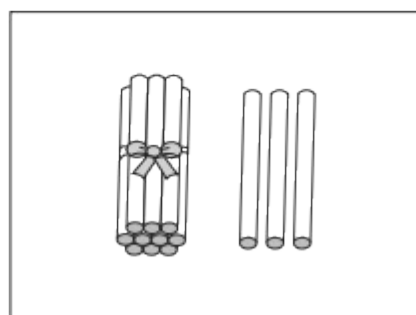
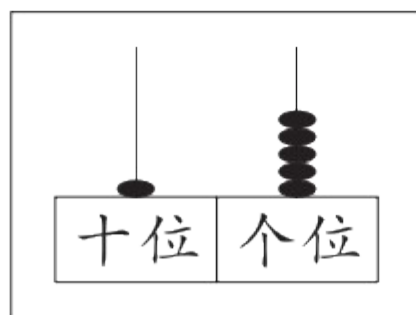
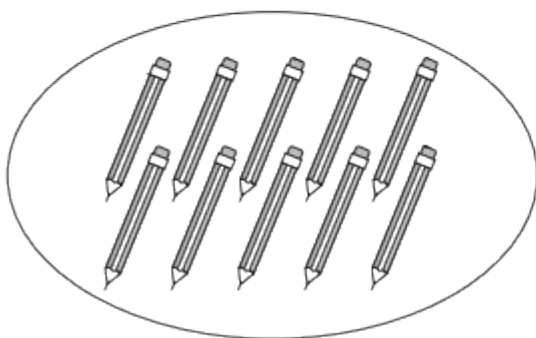
闯完本关,得()颗☆。



多彩数字，我会数！

1. 游戏规则：随机抽取 3 张卡片，口答每张卡片上的数分别表示多少。

奖励：每答对 1 题得 1 颗☆。



2. 游戏规则：随机抽取 3 道题目，直接说出答案。

奖励：每答对 1 题得 1 颗☆。

(1) 一个数十位和个位上都是 1，这个数是()。

(2) 一个数由 1 个十和 4 个一组成，这个数是()。

(3) 16 里面有()个一和()个十。

(4) 15 的个位上是()，表示()个一，十位上是()，表示()个十。

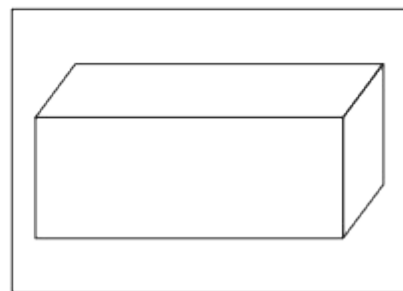
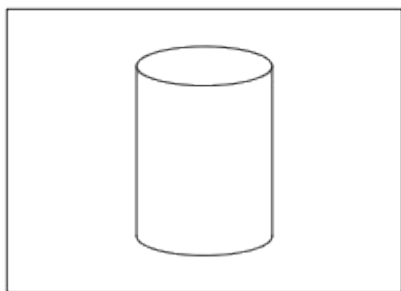
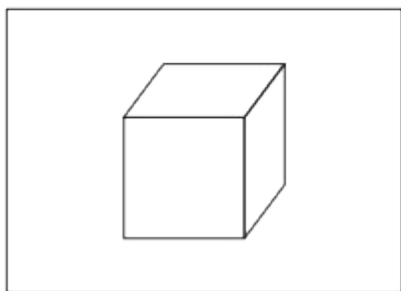
闯完本关，得()颗☆。



奇妙图形，我会辨！

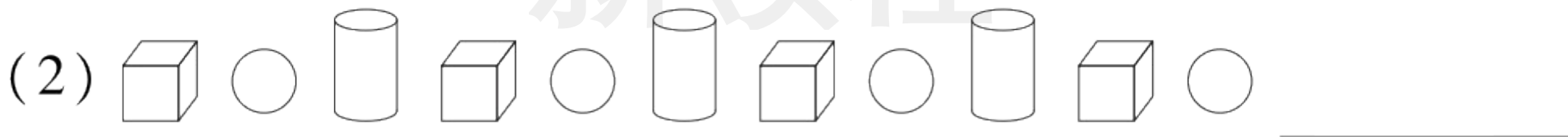
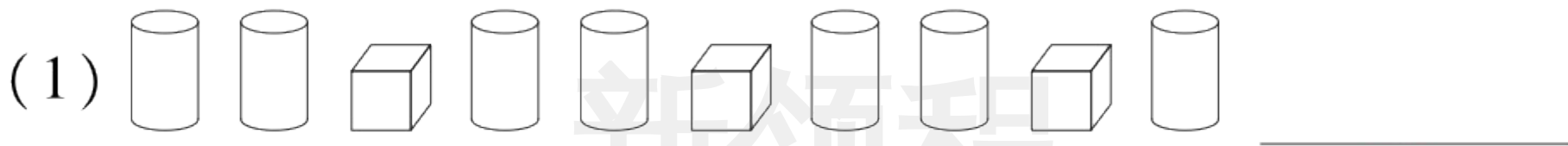
1. 游戏规则：随机抽取 3 张卡片，口答抽到的分别是什么立体图形。

奖励：每答对 1 个得 1 颗☆。



2. 游戏规则：找规律，口答下一个立体图形是什么。

奖励：每答对 1 题得 2 颗☆。



闯完本关，得()颗☆。



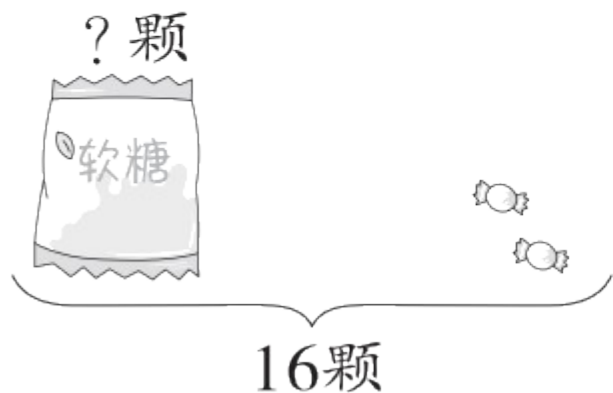
数量关系，我会算！

游戏规则：随机抽取 2 道题目，列式计算。

奖励：每答对 1 题得 3 颗☆。


新领程

1.

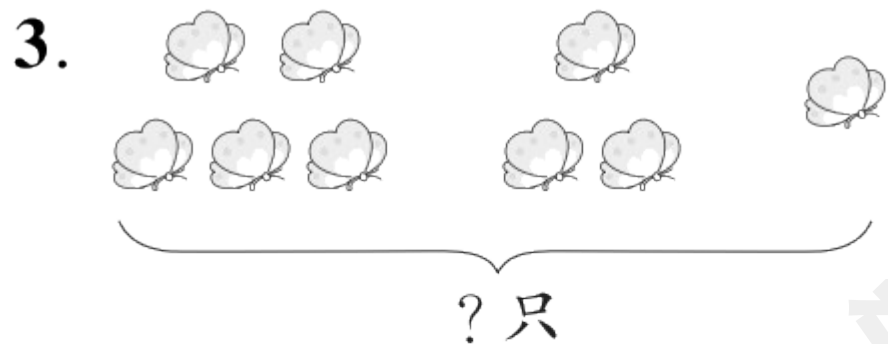


$$\square \bigcirc \square = \square \text{ (颗)}$$

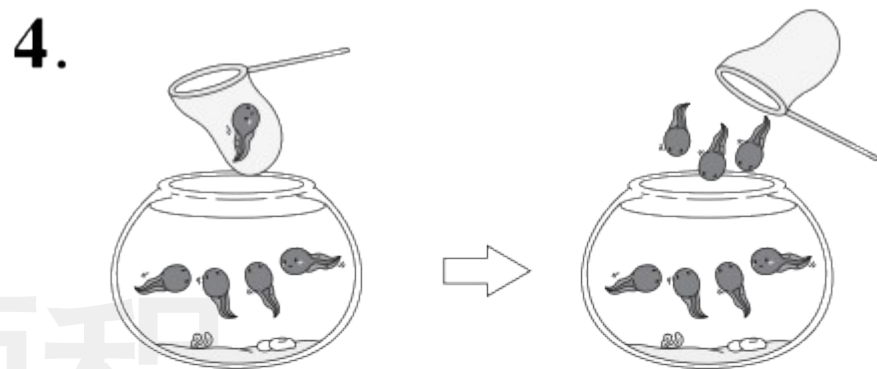
2.



$$\square \bigcirc \square = \square \text{ (只)}$$



$$\square \bigcirc \square \bigcirc \square = \square \text{ (只)}$$



$$\square \bigcirc \square \bigcirc \square = \square$$

闯完本关,得()颗☆。



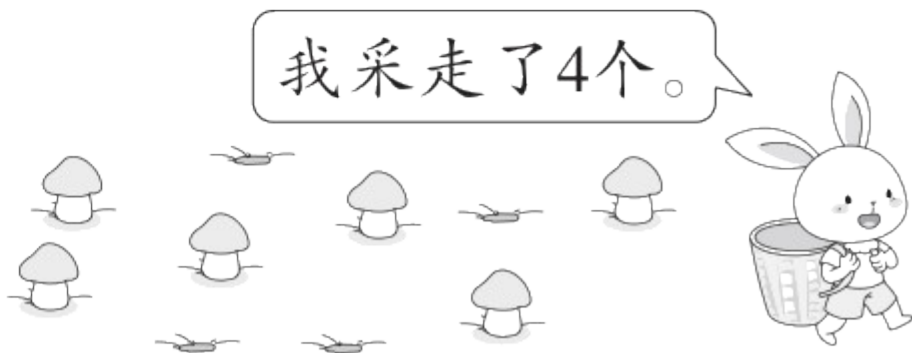
生活问题，我会解！

游戏规则：随机抽取3道题目，口答相应的问题。

奖励：每答对1题得3颗☆。

1. 地上原来有()个蘑菇，小兔采走了()个蘑菇，还剩()个蘑菇。

$$\square \bigcirc \square = \square (\text{个})$$



2. 小新读一本书,今天从第7页读到了第17页,明天从第18页读起,他今天读了多少页?

新领程

3. 假如今天是6月7日星期三,那么5天后是6月几日?是星期几呢?

4.

我写了7个大字呢!



我和你写的同样多。



他们一共写了多少个大字?

新领程

5. 猫妈妈钓了 9 条鱼,被小猫吃了 3 条,然后猫妈妈又钓了 10 条鱼,现在猫妈妈有多少条鱼?

第二课程

闯完本关,得()颗☆。

游戏达标卡





关注“优翼丛书”小程序

更多优质好课等你来



更多教学资源，敬请关注 www.youyi100.com