

阶段素养通关


一年级数学上册（RJ）


新领程同步作业课件

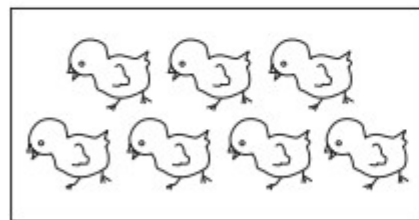
tián kòng chéng bǎo


第一关：填空城堡。（第2题2☆，第7题4☆，第8题6☆，其余每空1☆，共34☆）

1. 看图写数。







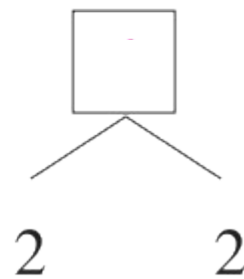
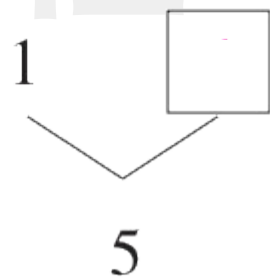
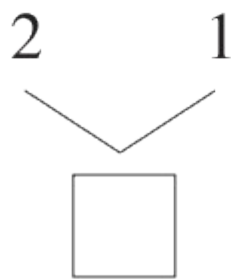
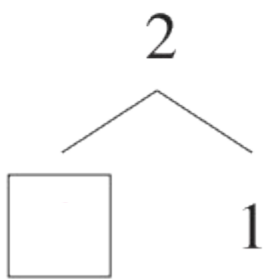


2. 按顺序填数。

(1) 2、4、()、8、() (2) 7、6、5、()、()

3. 与 4 相邻的两个数是()和()。

4.



5.    比  多 ()
 比  () ()

6. 在 ○ 里填上“>”“<”或“=”。

3 ○ 1

0 ○ 1

1 + 2 ○ 4

3 - 2 ○ 0

5 ○ 4

4 ○ 4

2 + 0 ○ 2

5 - 3 ○ 3

新领程

7. 从 2、3、4、7 中选 3 个数, 写出两道加法算式和两道减法算式。

$$\square + \square = \square$$

$$\square + \square = \square$$

$$\square - \square = \square$$

$$\square - \square = \square$$

8. 玩卡片游戏。



- (1) 上面一共有()张卡片。
- (2) 从左边数, 第 3 张卡片上的数是(), 数字 7 是第()张卡片。
- (3) 把上面卡片上的数按从大到小的顺序排一排。
- _____

9. 同学们排成一队做操,小新前面有2人,后面有3人,这一队一共有()人。

jì suàn wáng guó

第二关：计算王国。(28☆)

1. 直接写出得数。(12☆)

$3 + 2 =$

$1 + 3 =$

$6 + 3 - 3 =$

$3 + 4 + 2 =$

$5 - 0 =$

$0 + 1 =$

$4 + 6 - 2 =$

$8 - 4 + 5 =$

$5 - 2 =$

$4 + 3 =$

$4 - 3 + 7 =$

$10 - 2 - 5 =$

2. 在○里填上“+”或“-”。(8☆)

$4 \bigcirc 2 = 6$

$3 \bigcirc 3 = 0$

$10 \bigcirc 2 = 8$

$5 \bigcirc 4 = 9$

$7 \bigcirc 3 = 4$

$1 \bigcirc 2 = 3$

$7 \bigcirc 0 = 7$

$8 \bigcirc 4 = 4$

3. 在 里填上合适的数。(8☆)

$3 + \square = 8$

$\square + 3 = 9$

$10 - \square = 3$

$\square - 7 = 2$

$\square < 3$

$\square > 5$

$8 - \square > 3$

$1 + \square < 7$

dòng shǒu mì shì

第三关：动手密室。(10☆)

1. 按要求画图。(4☆)


(1) 画 \triangle , 和 \square 一样多。 (2) 画 \bigcirc , 比 \triangle 多。



2. 先填一填,再用自己喜欢的方式表示算式的意思。(6☆)

$3 + 4 = \square$

$6 - 4 = \square$




新领程

shù xué yuán dì

kàn tú liè shì jì suàn


第四关：数学园地。（看图列式计算）（12☆）

1.



$$\square + \square = \square$$

2.



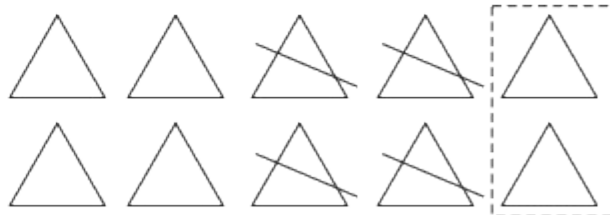
$$\square - \square = \square$$

3.



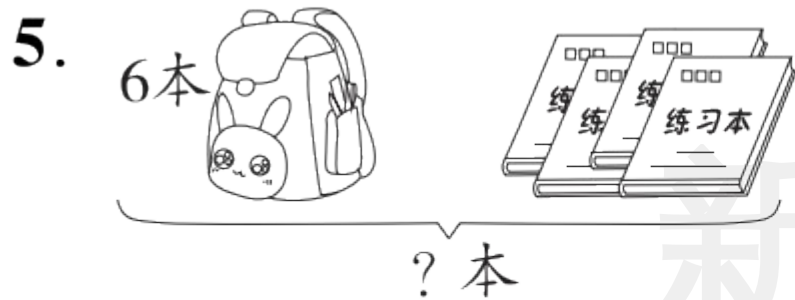
$$\square - \square = \square$$

4.

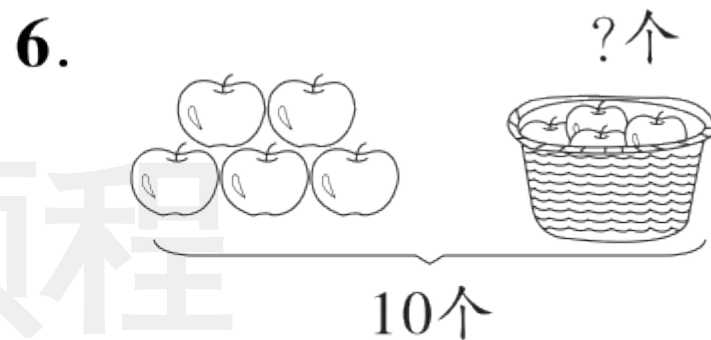


$$\square \bigcirc \square \bigcirc \square = \square$$

新领程



$$\square \bigcirc \square = \square \text{ (本)}$$



$$\square \bigcirc \square = \square \text{ (个)}$$

新领程

shēng huó lè yuán


第五关：生活乐园。(16☆)

1. 树上的黄鹂(lí)有()只,天空中的白鹭(lù)有()只,


黄鹂和白鹭一共有多少只?(4☆)

$$\square \bigcirc \square = \square (\text{只})$$

答:黄鹂和白鹭一共有 只。



2.



地里还剩几个萝卜？(3☆)

$$\square \bigcirc \square = \square (\text{个})$$

答：地里还剩 个萝卜。

3. 快递柜里存了 10 件快递,上午取走 5 件,下午又取走 3 件,现在快递柜里有多少件快递? (4☆)

$$\square \bigcirc \square \bigcirc \square = \square \text{ (件)}$$


答:现在快递柜里有 件快递。



4. 几位老师正在进行视频会议, 王老师和李老师也要加入进来。

现在一共有多少人进行视频会议? (5☆)

$$\square \bigcirc \square \bigcirc \square = \square \text{ (人)}$$



答: 现在一共有 人进行

视频会议。



关注“优翼丛书”小程序

更多优质好课等你来



更多教学资源，敬请关注 www.youyi100.com