

第 6 单元 100 以内的加法和减法 (一)

3. 两位数减一位数、整十数

第 1 课时 两位数减一位数、整十数

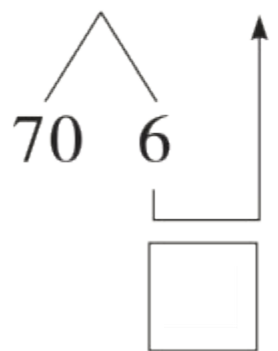
一年级数学下册 (RJ)



学练优同步作业课件

1 算一算,填一填。

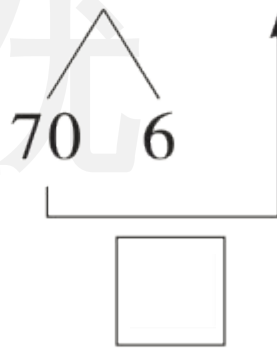
$$76 - 3 = \square$$



先算 $\square - \square = \square$

再算 $\square + \square = \square$

$$76 - 30 = \square$$



先算 $\square - \square = \square$

再算 $\square + \square = \square$

2 比一比,算一算。

$8 - 3 =$

$7 - 4 =$

$50 - 30 =$

$75 - 4 =$

$28 - 3 =$

$57 - 4 =$

$58 - 30 =$

$75 - 40 =$

3 在 ○ 里填上“>”“<”或“=”。

$45 - 40 \bigcirc 45$

$59 - 5 \bigcirc 59 - 50$

$93 - 30 \bigcirc 83 - 20$


$60 - 30 \bigcirc 60$

$78 - 7 \bigcirc 87 - 7$

$53 - 20 \bigcirc 35 - 20$

4 车上还剩多少个座位？

车上已经坐了20名乘客。



限乘客36人

5 小优在列式计算 54 减整十数时,漏写了整十数个位上的 0, 结果得到 50。你能帮小优算出正确答案吗?

学练优



关注“优翼丛书”小程序

更多优质好课等你来



更多教学资源，敬请关注www.youyi100.com