

第二单元素养通关

一年级数学上册 (RJ)




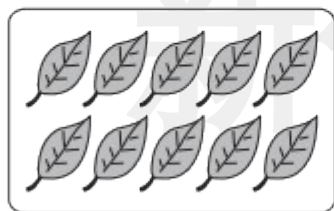
新领程同步作业课件

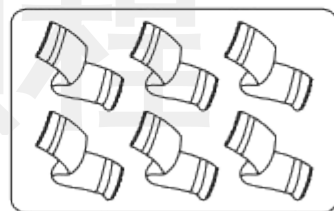
tián kòng chéng bǎo

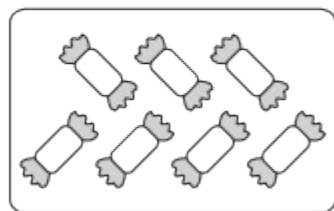
第一关：填空城堡。（第2、6题5☆，其余每空1☆，共28☆）

1. 看图写数。






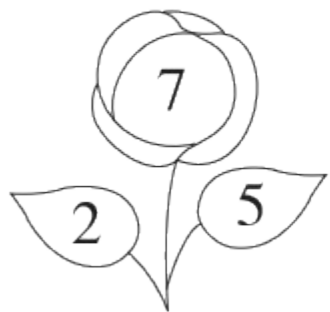





2. 按顺序填数。



3. 照样子, 填一填。



4. 比多少。

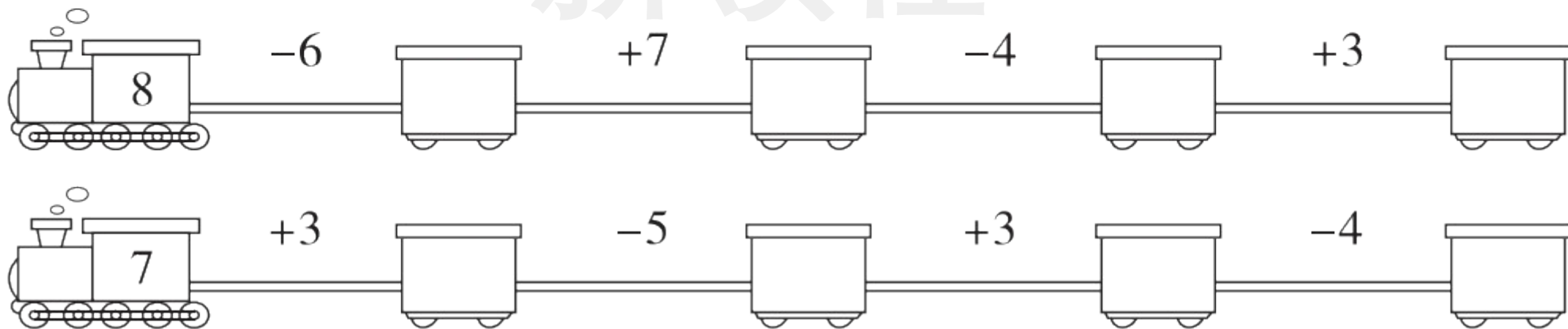


♡ 比 ● 多 _____ ,

● 比 ♡ _____ 。

5. 开火车。(算一算)

新领程



xuǎn zé mí gōng

tián xù hào

第二关：选择迷宫。（填序号）（8☆）

1. 下面大于9的数是（ ）。

① 10

② 8

③ 3

2. 从0开始数，数到7，一共数了（ ）个数。

① 7

② 8

③ 9

3. 与 $8 - 1$ 得数相等的算式是（ ）。

① $5 + 1$

② $6 + 1$

③ $9 - 3$

4. 求房子里还剩几只兔子, 正确的
列式是()。

① $7 + 3$

② $7 - 3$

③ $4 + 3$

原来有7只兔子。



新领程

jì suàn wáng guó

第三关：计 算 王 国。（30☆）

1. 直接写出得数。（16☆）

$5 + 5 =$

$6 + 3 =$

$0 + 6 + 4 =$

$10 - 3 - 5 =$

$8 - 6 =$

$4 + 2 =$

$3 + 5 - 7 =$

$10 - 4 + 2 =$

$7 - 5 =$

$2 + 0 =$

$3 + 3 + 3 =$

$6 - 2 - 4 =$

$0 - 0 =$

$8 + 2 =$

$7 + 2 - 6 =$

$9 - 8 + 7 =$

2. 在 \bigcirc 里填上“>”“<”或“=”。(8☆)

$8 - 3 \bigcirc 6$

$7 + 2 \bigcirc 10$

$5 + 5 \bigcirc 9$

$6 - 0 \bigcirc 6$

$0 + 9 \bigcirc 9$

$10 - 4 \bigcirc 5$

$7 - 4 \bigcirc 4$

$4 + 5 \bigcirc 8$

3. 在 \square 里填上合适的数。(6☆)

$4 + \square = 7$

$\square + 2 = 9$

$6 = \square - 4$

$8 - \square = 5$

$\square - 6 = 4$



$\square + 4 = 9 - 1$

新领程

shù xué yuán dì kàn tú liè shì jì suàn
 第四关：数 学 园 地。（看 图 列 式 计 算）（第 1 题 4☆，其余
 每 题 3☆，共 16☆）

新领程

1.



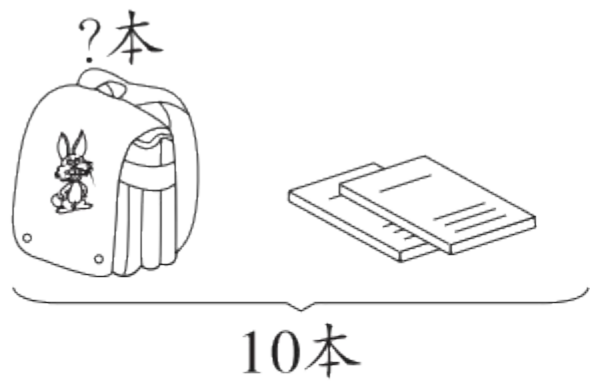
$$\square + \square = \square$$

$$\square - \square = \square$$

$$\square + \square = \square$$

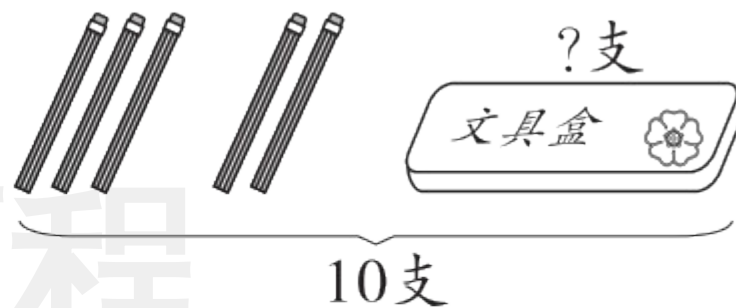
$$\square - \square = \square$$

2.



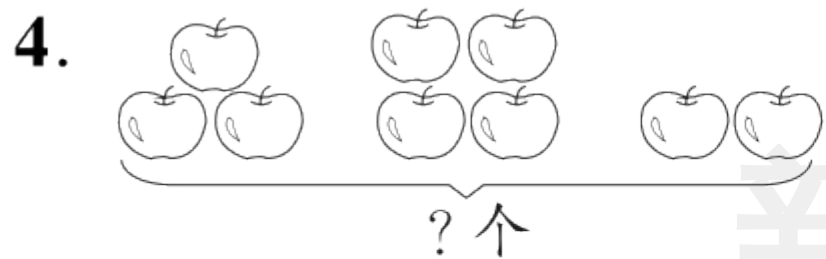
$$\square \bigcirc \square = \square \text{ (本)}$$

3.




$$\square \bigcirc \square \bigcirc \square = \square \text{ (支)}$$

新领程



$$\square \bigcirc \square \bigcirc \square = \square (\text{个})$$



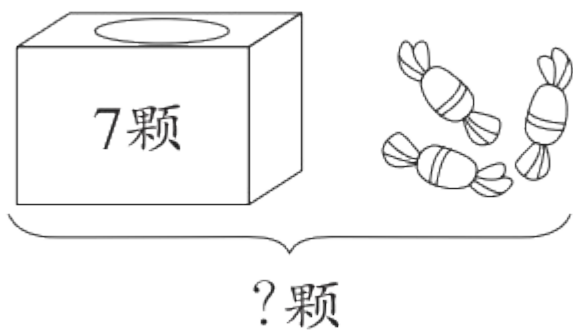
$$\square \bigcirc \square \bigcirc \square = \square$$

新领程

shēng huó lè yuán

第五关：生活乐园。(18☆)

1.



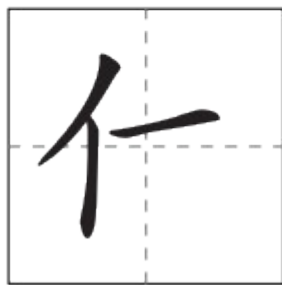
盒子里面有 颗糖，外面有 颗糖。

一共有多少颗糖？(4☆)

$$\square \bigcirc \square = \square \text{ (颗)}$$

答：一共有 颗糖。

2. 小优正在练习本上写自己名字中的“优”，“优”一共有6笔，还剩多少笔没有写？(4☆)




新领程

$$\square \bigcirc \square = \square \text{ (笔)}$$

答：还剩 笔没有写。

3. 现在一共有多少只鸭子? (5☆)

$$\square \bigcirc \square \bigcirc \square = \square \text{ (只)}$$



答: 现在一共有 只鸭子。

4.



车上原来有 6 个人，下去了 人，又上来了 人，现在车上一共有多少人？(5☆)

$$\square \bigcirc \square \bigcirc \square = \square (\text{人})$$



关注“优翼丛书”小程序

更多优质好课等你来



更多教学资源，敬请关注 www.youyi100.com