

第一单元 5 以内数的认识和加、减法

第 2 课时 减法

一年级数学上册 (RJ)




新领程同步作业课件

kàn tú shuō yì shuō suàn shì biǎo shì de yì sī zài tián yì tián

1 看图说一说算式表示的意思，再填一填。

(1)



$$3 - 1 = 2$$

从 里去掉 ，还剩 。

(2)



$$5 - 1 = 4$$

读作： 减 等于 。

新领程

2

zhào yàng zi quān yì quān tián yì tián

照样子，圈一圈，填一填。



$$5 - 2 = \square$$

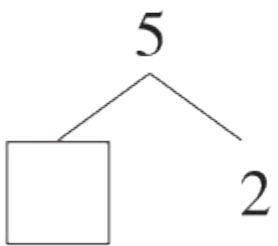


$$4 - 3 = \square$$

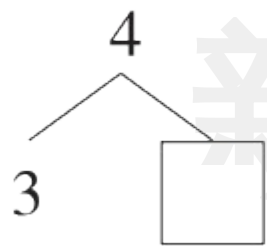


$$5 - 4 = \square$$

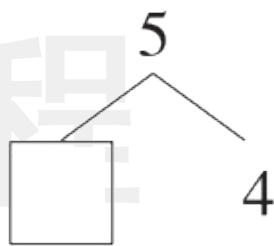
3 填一填。



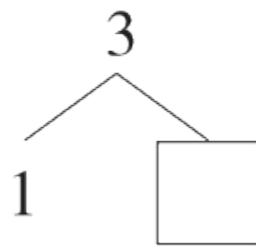
$$5 - 2 = \square$$



$$4 - \square = \square$$




$$5 - \square = \square$$



$$3 - \square = \square$$


zài zhèng què de suàn shì hòu miàn huà

4 在正确的算式后面画“√”。



$5 - 2 = 3$

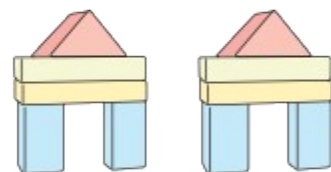
$3 - 2 = 1$



$4 - 2 = 2$

$4 - 1 = 3$

5 (素养提升) měi rén pīn dā yí tào jī mù hái chā jǐ tào
 每 2 人 拼 搭 一 套 积 木 ， 还 差 几 套 ？



差 2 套

差 3 套



关注“优翼丛书”小程序

更多优质好课等你来



更多教学资源，敬请关注 www.youyi100.com