

# 综合素养通关

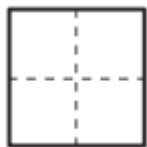
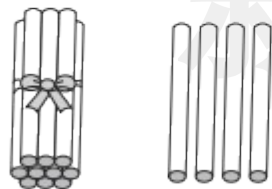
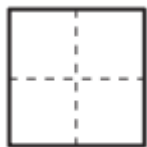
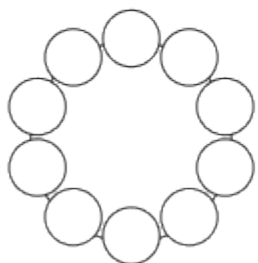
一年级数学上册（RJ）

**新领程**同步作业课件

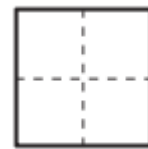
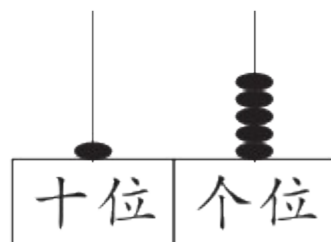
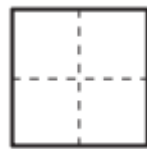
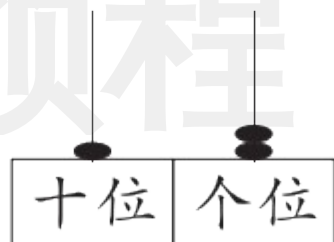
tián kòng chéng bǎo

第一关：填空城堡。（第2题5☆，其余每空1☆，共23☆）


1. 看图写数。



新领程



2. 数一数, 填一填, 圈一圈, 涂一涂。



(1) 一共有( )朵花。

(2) 从左边数,  排第( ); 从右边数,  排第( )。

(3) 把左边的 3 朵花圈起来, 把从右边数的第 3 朵花涂上颜色。

新领程

3. 2个一和1个十合起来是(      );20里面有(      )个十。

4. 与19相邻的两个数是(      )和(      )。

5. 在○里填上“>”“<”或“=”。

$5 + 4$  ○  $10$        $17 - 7$  ○  $15$        $10 - 0$  ○  $10$        $2 + 9$  ○  $10$

6. 小华读一本书,从第3页读到第9页,一共读了(      )页。

7. 找规律填数。

(1) 19, 17, 15, (      ), (      )。

(2) 3, 6, 9, (      ), (      ), (      )。

xuǎn zé mí gōng

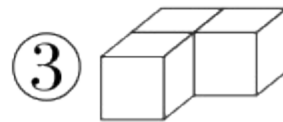
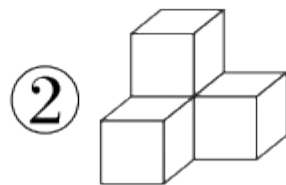
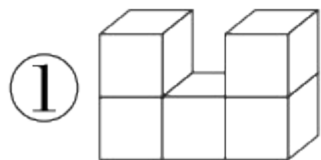
tián xù hào

第二关：选择迷宫。（填序号）（5☆）

1. 下面几堆物品中，第（ ）堆的数量和其他的不一样。



2. 下面图（ ）是用4个  拼成的。



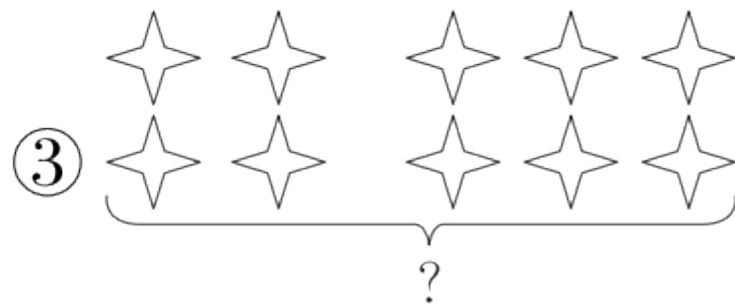
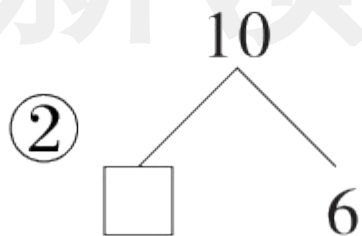
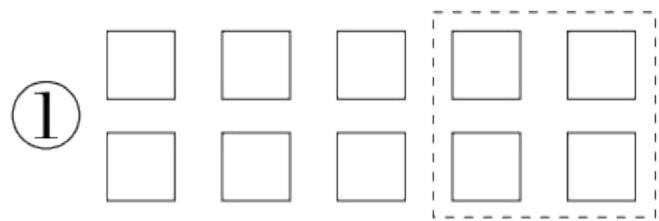
3. 大于4且小于10的数有( )个。

① 7

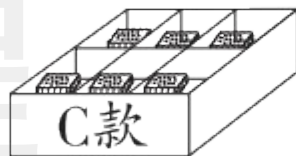

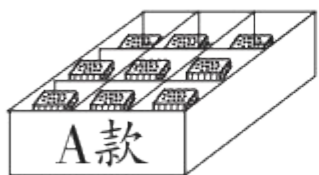
② 6

③ 5

4. 下面能用  $10 - 4 = 6$  来解决的问题是( )。



5. 有 15 个小朋友, 每人发一个面包, 买( )刚好发完。



① A 款和 B 款

② A 款和 C 款

③ B 款和 C 款

jì suàn wáng guó

### 第三关：计算王国。(28☆)

#### 1. 口算。(16☆)

$7 - 2 =$

$9 - 5 =$

$10 - 4 + 6 =$

$3 + 4 + 5 =$

$8 + 3 =$

$4 + 7 =$

$9 + 1 + 8 =$

$17 - 10 + 8 =$

$10 + 0 =$

$6 + 2 =$

$7 + 8 - 4 =$

$12 - 2 - 8 =$

$3 + 7 =$

$4 + 7 =$

$15 - 0 + 3 =$

$4 + 6 + 5 =$

2. 在  里填上合适的数。(8☆)

$3 + \square = 9$

$6 + \square = 10$

$\square + 5 = 15$

$17 - \square = 7$

$16 - \square = 10$

$10 - \square = 2$

$\square - 5 = 4$

$15 - \square = 10$

3. 把下列算式按得数从大到小的顺序排一排。(4☆)

$7 + 9$

$18 - 3$

$17 - 7$

$12 + 0$ 

---

dòng shǒu mì shì

## 第四关：动手密室。(16☆)

### 1. 按要求画一画。(4☆)

(1) 画  $\square$  , 比  $\bigcirc$  多。 (2) 画  $\triangle$  , 与  $\square$  同样多。

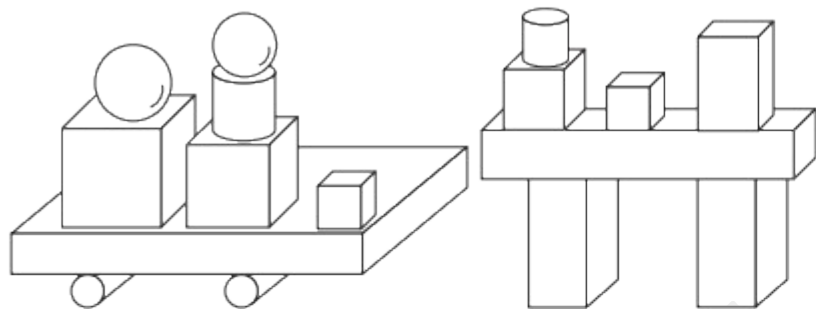



---



---

2. 数一数。(8☆)



长方体 (     ) 个, 圆柱 (     ) 个,  
 正方体 (     ) 个, 球 (     ) 个。

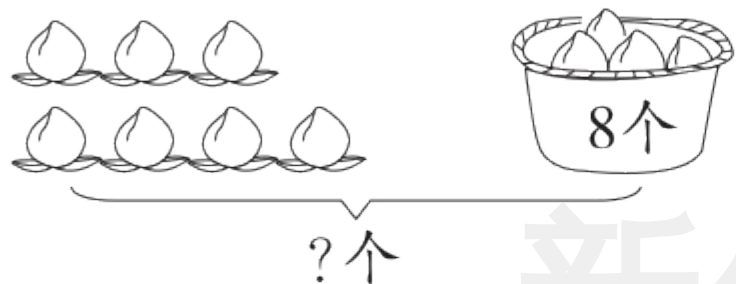
3. 用自己喜欢的方式表示出“ $14 - 4 = 10$ ”的意思。(4☆)

shù xué yuán dì

kàn tú liè shì jì suàn

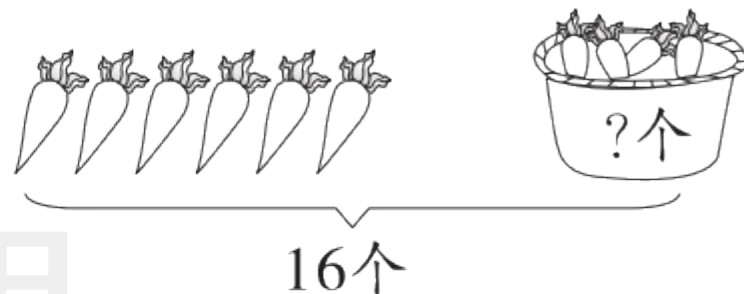
第五关：数学园地。（看图列式计算）（6☆）

1.



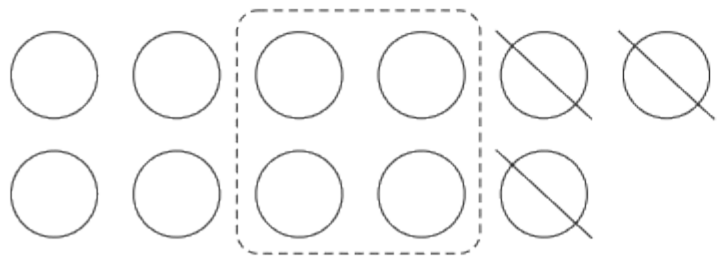
$$\square \bigcirc \square = \square \text{ (个)}$$

2.



$$\square \bigcirc \square = \square \text{ (个)}$$

3.



$$\square \bigcirc \square \bigcirc \square = \square$$

shēng huó lè yuán

第六关：生活乐园。（第4、5题各5☆，其余每题4☆，共22☆）

1.



如果拿走7个，  
筐里还剩几个？



$$\square \bigcirc \square = \square (\text{个})$$

答：筐里还剩  个。

2. 他们两人一共认了几个生字？



$$\square \bigcirc \square = \square (\text{个})$$

答：他们两人一共认了  个生字。

3. 小丽原来有多少张卡片?

$$\square \bigcirc \square = \square \text{ (张)}$$


答:小丽原来有  张卡片。

我送给小文9张  
卡片,还剩8张。



小丽

4. 一共有多少只兔子？



方法一： $\square \bigcirc \square = \square$  (只)

方法二： $\square \bigcirc \square = \square$  (只)

答：一共有  $\square$  只兔子。

5. 同学们排队做操,从前往后数,轩轩排第 8,从后往前数,轩轩排第

2。轩轩这一队一共站了多少人?

$$\square \bigcirc \square \bigcirc \square = \square \text{ (人)}$$

答:轩轩这一队一共站了  $\square$  人。



关注“优翼丛书”小程序

更多优质好课等你来



更多教学资源，敬请关注 [www.youyi100.com](http://www.youyi100.com)