

# 第5单元 6~10的认识和加减法

## 第1课时 6、7的认识

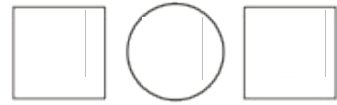
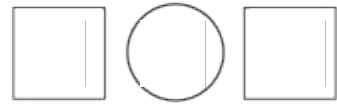
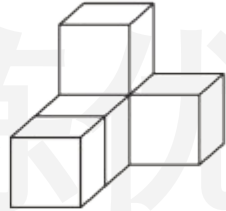
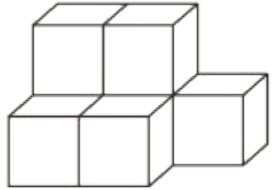
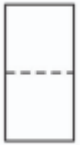
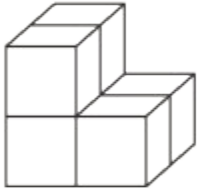
一年级数学上册 (RJ)



学练优同步作业课件




shǔ yi shǔ xiě yi xiě bǐ yi bǐ

1 数一数，写一写，比一比。



zhào yàng zi tián yì tián

2 照样子，填一填。



shǔ yì shǔ tián yì tián

### 3 数一数，填一填。

2 5 4 3 6 1 7

(1) 一共有( )张卡片。从左边数,第5张卡片上的数是( );从右边数,第( )张卡片上的数是7。

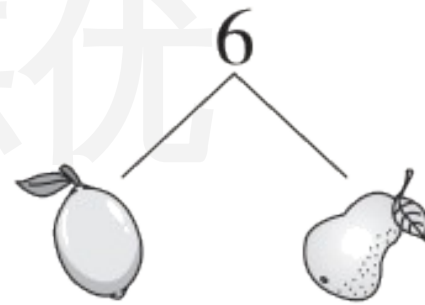
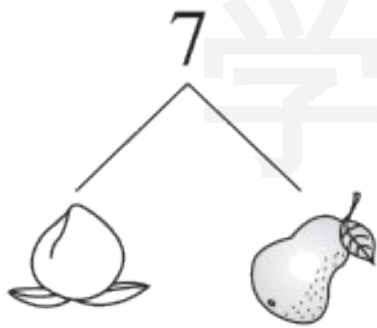
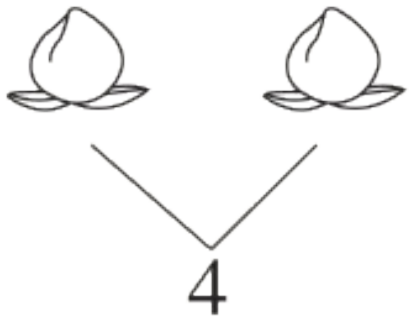
(2) 从右边数, 第 2 张和第( )张卡片上的数合起来是 7。


(3) 从左边数, 第( )张和第( )张卡片上的数合起来是 6。


(4) 把卡片上的数从大到小排列: \_\_\_\_\_。


xiǎng yi xiǎng měi zhǒng shuǐ guǒ gè dài biǎo jǐ

4 想一想，每种水果各代表几？



 = (      )

 = (      )

 = (      )



关注“优翼丛书”小程序

更多优质好课等你来



更多教学资源，敬请关注[www.youyi100.com](http://www.youyi100.com)