

快乐闯关

第二单元快乐闯关

一年级数学上册 (RJ)

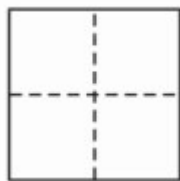
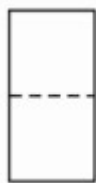
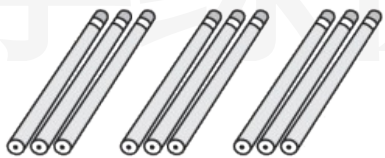
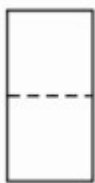


学练优同步作业课件

wǒ huì tián wǒ huì quān

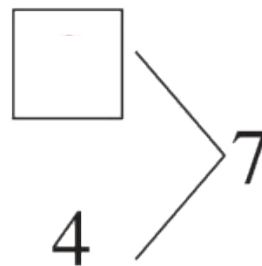
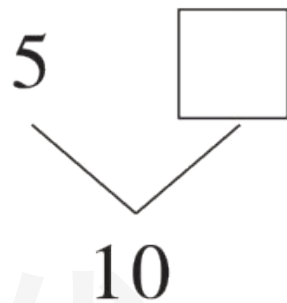
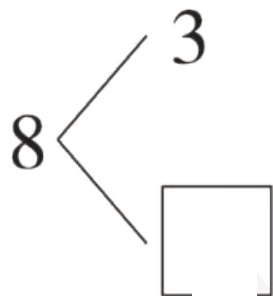
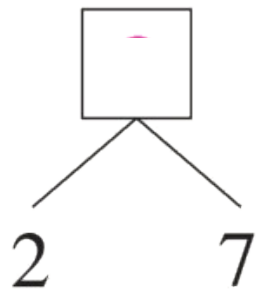
第一关 我会填，我会圈。（第6题5☆，第8题4☆，其余每空1☆，共35☆）

1. 看图写数。



学练优

2.



学练优





3. 按顺序填数。

10	9	8			
----	---	---	--	--	--

0	2	4			
---	---	---	--	--	--


4. 7 前面一个数是(); 5 后面第 4 个数是()。6 和 9 之间的数是()和()。

5.

		比		少 ()。
⋮ ⋮ ⋮ ⋮ ⋮				
		比		多 ()。



(1) 图中一共有()个水果,其中  有()个。

(2) 从左边数,第()个和第()个都是 。

(3) 把右边的3个水果圈起来。

7. 在 3、6、0、5、9、2 中,比 5 小的数有(),比 5 大的数有()。把它们按从大到小的顺序排列:_____。

8. 从 2、3、5、7、8 中选出三个数,写出两个加法算式和两个减法算式。

$$\square \bigcirc \square = \square$$

$$\square \bigcirc \square = \square$$

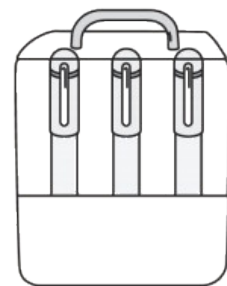
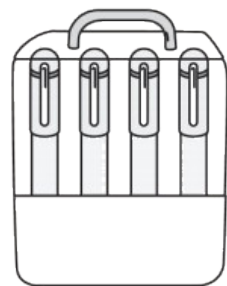
$$\square \bigcirc \square = \square$$

$$\square \bigcirc \square = \square$$

9. $\bigcirc + 3 = 10$, $\bigcirc - 4 = \triangle$, 则 $\bigcirc = (\quad)$, $\triangle = (\quad)$ 。

10. 图中的水彩笔有两盒是小轩的, 他

最多有 (\quad) 支水彩笔, 最少有



(\quad) 支水彩笔。

wǒ huì xuǎn

第二关 我会选。(10☆)

1. 与 $7 - 2$ 计算结果相等的算式是()。

① $6 + 1$

② $3 + 2$

③ $9 - 3$

2. 从 0 数到 7, 一共数了()个数。

① 8

② 7

③ 6

3. 算式 $\square + 3 < 9$, \square 里最大可以填()。

① 4

② 5

③ 6

4. 在很久以前,古埃及使用象形数字,用|表示1, \cap 表示10。

如 $10 - 1 = 9$, 表示为 $\cap - | = \begin{array}{c} ||| \\ ||| \\ ||| \end{array}$ 。 $\begin{array}{c} ||| \\ ||| \\ ||| \\ ||| \end{array} - |||$ 表示的算式是()。

① $6 - 3$

② $7 - 3$

③ $10 - 3$

5. 一共有7个苹果,小轩吃了3个,还剩几个? 正确列式是()。

① $7 - 4 = 3$ (个)

② $7 + 3 = 10$ (个)

③ $7 - 3 = 4$ (个)

wǒ huì suàn

第三关 我会算。(30☆)

1. 直接写出得数。(16☆)

$6 + 3 =$

$9 - 5 =$

$4 - 3 + 8 =$

$0 + 5 + 3 =$

$7 - 0 =$

$2 + 3 =$

$10 - 1 - 1 =$

$7 - 5 + 7 =$

$1 + 7 =$

$5 + 5 =$

$9 - 8 - 0 =$

$8 - 5 - 3 =$

$4 + 6 =$

$8 - 3 =$

$10 - 3 - 4 =$

$6 + 3 + 1 =$

2. 在 ○ 里填上“>”“<”或“=”。(6☆)

$10 - 5 \bigcirc 5$

$3 + 6 \bigcirc 10$

$7 - 1 \bigcirc 4 + 2$

$2 + 7 \bigcirc 10$

$8 - 2 \bigcirc 5$

$10 - 4 \bigcirc 7 - 3$

3. 在 里填上合适的数。(8☆)

$$7 - \square = 4$$

$$9 - \square = 5$$

$$\square + 2 = 6$$

$$\square + 3 = 10$$

$$\square > 7$$

$$\square < 9$$

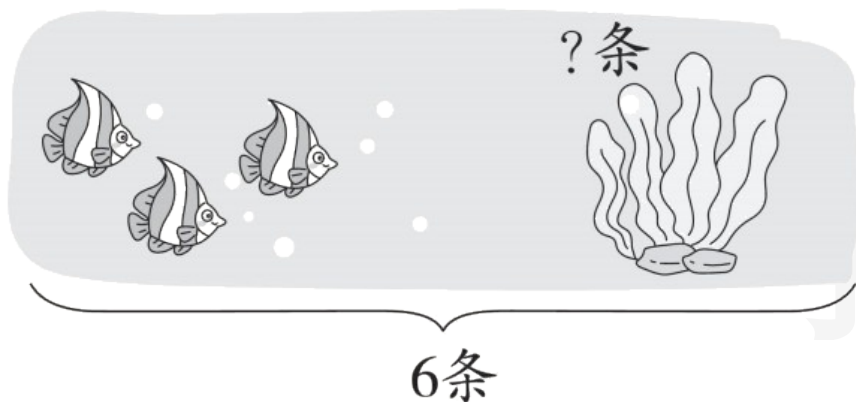
$$\square > 4$$

$$\square - 2 > 6$$

wǒ huì kàn tú liè shì jì suàn

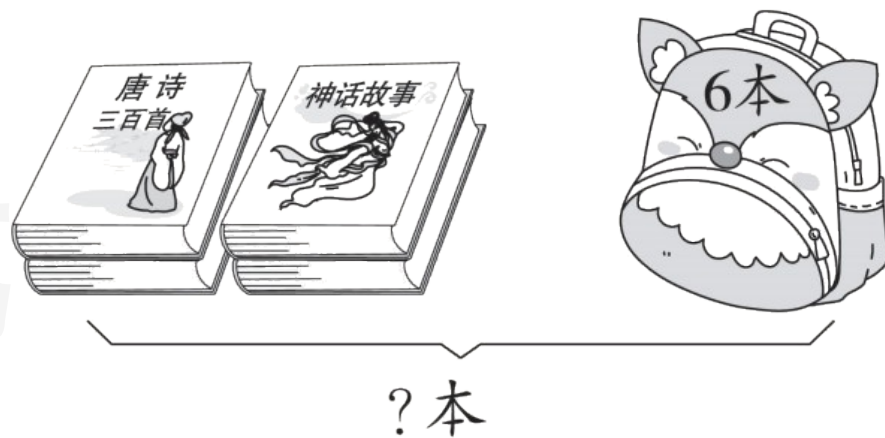
第四关 我会看图列式计算。(8☆)

1.



$$\square \bigcirc \square = \square \text{ (条)}$$

2.



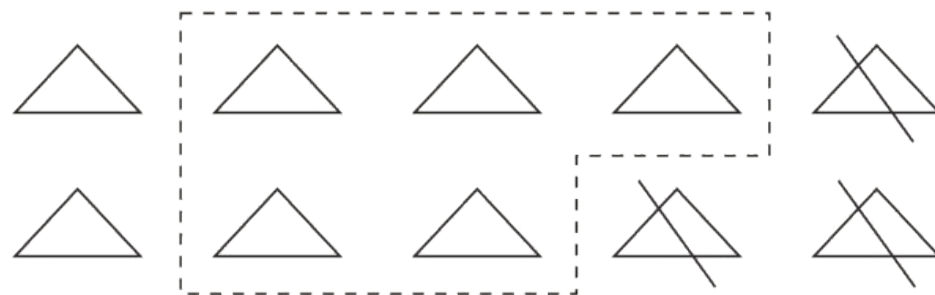
$$\square \bigcirc \square = \square \text{ (本)}$$

3.



$$\square \bigcirc \square \bigcirc \square = \square \text{ (只)}$$

4.



$$\square \bigcirc \square \bigcirc \square = \square$$

学练优

wǒ huì jiě jué wèn tí

第五关 我会解决问题。(17☆)

1. (3☆)




一共有多少个  ?

$$\square \bigcirc \square = \square (\text{个})$$

答：一共有 个  。



2. 一共有8只 。(3☆)




屋子里有多少只  ?

$$\square \bigcirc \square = \square (\text{只})$$


答：屋子里有 只  。

3. 原来有()只 , 先离开了
 ()只, 又来了()只。现在有
 几只  ? (4☆)




答: 现在有 只  。

4. (7☆)



(1) 请你选择一个问题并解答。(4☆)

① 采走6朵 , 还剩几朵  ?

② 一共有多少根  ?

我选择问题()。

解答:

(2) 你还能从图中提出其他数学问题并解答吗？(3☆)

学练优



关注“优翼丛书”小程序

更多优质好课等你来



更多教学资源，敬请关注 www.youyi100.com