

# 《优干线》人教版数学一下作业 PPT



更多教学资源内容，敬请关注 [www.youyi100.com](http://www.youyi100.com)

# 第五单元学业质量评价



wǒ huì tián

# 一、我会填。

1. 人民币的单位有( )、( )、( )。

2.

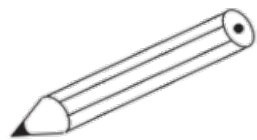


1 元 1 角



2 元 1 角

3. 在( 2 )里填上合适的人民币单位。



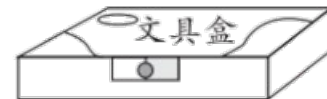
5( )



68( )



30( )



9( ) 9( )

4. (1) 一张  能换      张  。

(2) 一张  能换      张  , 一张  能换      张  。

(3) 一张  能换      张  , 也能换      张  。

5. 在  $\bigcirc$  里填上“ $>$ ”“ $<$ ”或“ $=$ ”。

2 元  $\bigcirc$  8 角

5 角  $\bigcirc$  4 元

1 元 6 角  $\bigcirc$  1 元 6 分

1 角  $\bigcirc$  9 分

10 角  $\bigcirc$  1 元

7 元 9 角  $\bigcirc$  9 元 7 角

6. 买一支圆珠笔要 2 元 8 角, 应该付(      ) 枚 1 元的硬币和(      ) 枚 1 角的硬币。

7. 买一个足球需要 46 元, 明明带了 4 张  , 还差(      ) 元。

wǒ huì xuǎn

bǎ zhèng què dá àn de xù hào tián zài kuò hào lǐ

二、我会选。(把正确答案的序号填在括号里)

1. 小华买了一把直尺,它的价格最可能是( )。

① 26 元

② 2 元 6 角

③ 2 角 6 分

2. 小优买一块 6 角的橡皮,她付给营业员 1 元,应该找回( )。

① 1 元 6 角

② 6 角

③ 4 角

3. 奶奶买一个茶壶,付给营业员 10 元,找回 2 元,一个茶壶的价格是( )。

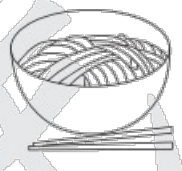
① 12 元

② 8 元

③ 8 角


4. 1 张 5 元,3 张 5 角,3 枚 1 角正好可以买下面的( )。

①



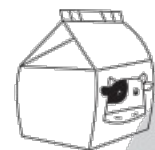
6 元 8 角

②

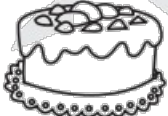



6 元 3 角

③



5 元 8 角

5.  妈妈带的都是  的钱, 买这个蛋糕至少要付 ( )

78元

张  。


① 3

② 4


③ 5

6. 用 15 元钱正好可以买 ( ) 和 ( ); 也正好可以买 ( ) 和 ( )。

①   
8元

②   
6元

③   
7元

④   
10元

⑤   
9元

wǒ huì suàn

## 三、我会算。

$90 \text{ 角} = ( \quad ) \text{ 元} \quad 8 \text{ 元} = ( \quad ) \text{ 角} \quad 6 \text{ 角} 4 \text{ 分} = ( \quad ) \text{ 分}$

$28 \text{ 角} = ( \quad ) \text{ 元} ( \quad ) \text{ 角} \quad 1 \text{ 元} = ( \quad ) \text{ 角} = ( \quad ) \text{ 分}$

$9 \text{ 角} + 7 \text{ 角} = ( \quad ) \text{ 元} ( \quad ) \text{ 角} \quad 3 \text{ 元} + 5 \text{ 元} = ( 8 ) \text{ 元}$

$8 \text{ 元} + 5 \text{ 角} = ( \quad ) \text{ 元} ( \quad ) \text{ 角} \quad 18 \text{ 分} - 1 \text{ 角} = ( \quad ) \text{ 分}$

xiǎng yi xiǎng tián yi tián

四、想一想，填一填。



5角



2角



1元



4角



4角



12元

1. 1元钱可以买( )枚图钉或( )本练习本。
2. 用1元钱买一块橡皮,要找回( )钱。
3. 用1元钱买一本练习本和一支铅笔,要找回( )钱。
4. 用1元钱买一个文具盒,还差( )钱。



suàn yì suàn yīng zhǎo huí duō shǎo qián

五、算一算，应找回多少钱？

买的物品	付的钱数	应找回的钱数
 26 元		4 元
 1 元    5 元		4 元
 12 元    8 元		30 元

wǒ huì jiě jué wèn tí

## 六、我会解决问题。

1. 一双  比一双  贵多少元？



8元



28元

2.



★ 4元

我买这个玩具熊付了4张



,

找回的钱不到10元。



玩具熊的价钱可能是多少？请在合适的答案下面画“√”。

64 元	74 元	84 元

### 3. 我帮妈妈买东西。

(1) 买一把牙刷和一支牙膏,要花多少钱?

$$7+5=12$$

答:要花 12 元。

(2) 买一把牙刷,付给收银员一些钱后,找回 3 元,付了多少钱?



5元



7元



5元



12元



5元



7元



5元



12元

(3) 10元钱正好能买( )和( )两种物品各一件。

(4) 买一个杯子和一袋洗衣粉,带1张 ,够吗?

$$5+12=17 \text{ (元)}$$

17 < 20 够

答: 够。

## 挑战题。

yǒu yì xiē  
有一些



de rén mín bì zěn yàng fù qián  
的人民币，怎样付钱

cái néng zhèng hǎo mǎi dào yí gè yuán de dàn gāo zhì shǎo xiě zhǒng  
才能正好买到一个100元的蛋糕？（至少写3种）



关注“优翼丛书”小程序

更多优质好课等你来



更多教学资源，敬请关注 [www.youyi100.com](http://www.youyi100.com)