

第五单元素养通关

一年级数学上册（RJ）



新领程同步作业课件

tián kòng chéng bǎo


第一关：填空城堡。（第1题6☆，第6题2☆，其余每空1☆，共25☆）

1. 圈一圈，算一算。



$$8 + 5 = \square$$

新领程



$$7 + 4 = \square$$

2. $16 - 6 = (\quad)$, 这里被减数是(\quad), 减数是(\quad), 差是(\quad)。
3. 两个加数都是 6, 和是(\quad), 列式为(\quad)。
4. 最小的两位数是(\quad), 最大的一位数是(\quad), 它们的和是(\quad)。

5. 我会填“+”或“-”。

$9 \bigcirc 6 = 15$

$6 \bigcirc 7 = 13$

$7 \bigcirc 7 = 14$

$9 \bigcirc 6 = 3$

$8 \bigcirc 6 = 14$

$12 \bigcirc 2 = 10$

$8 \bigcirc 4 = 4$

$4 \bigcirc 7 = 11$

6. 从4、6、7、13中选三个数,组成不同的算式。

$\square \bigcirc \square = \square$

$\square \bigcirc \square = \square$

xuǎn zé mí gōng tián xù hào
第二关：选择迷宫。（填序号）（10☆）

1. 在下面的算式中，得数最大的是（ ）。

① $4 + 8$

② $16 - 6$

③ $8 + 3$

2. $\square + 8 > 16$, \square 里最小填()。

① 8

② 9

③ 10

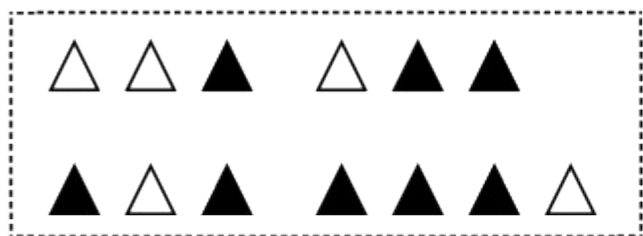
3. 计算 $8 + 5 = \square$ 时, 思考错误的是()。

① 先算 $8 + 2 = 10$, 再算 $10 + 3 = 13$

② 先算 $5 + 5 = 10$, 再算 $10 + 8 = 18$

③ 先算 $5 + 5 = 10$, 再算 $10 + 3 = 13$

4. 根据下图不可以列出的算式是()。



① $6 + 7 = 13$

② $8 + 5 = 13$

③ $4 + 9 = 13$

5. 排队做操时,文文前面有8人,后面有4人,这一队共有()人。

① 13

② 12

③ 11

jì suàn wáng guó

第三关：计算王国。(30☆)

1. 直接写出得数。(16☆)

$2 + 9 =$

$5 + 8 =$

$8 + 4 =$

$9 + 3 + 5 =$

$6 + 9 =$

$4 + 9 =$

$9 + 8 =$

$14 - 4 - 6 =$

$6 + 8 =$

$8 + 8 =$

$6 + 7 =$

$9 - 5 + 7 =$

$6 + 6 =$

$3 + 8 =$

$8 + 7 =$

$9 + 9 - 8 =$

2. 在 \bigcirc 里填上“ $>$ ”“ $<$ ”或“ $=$ ”。(6☆)

$4 + 7 \bigcirc 12$

$8 + 4 \bigcirc 11$

$3 + 9 \bigcirc 15 - 2$

$8 + 9 \bigcirc 19$

$9 + 7 \bigcirc 15$

$5 + 8 \bigcirc 10 + 3$

3. 想一想, \square 里该填几?(8☆)

$6 + \square = 12$

$8 + \square = 14$

$\square + 7 = 11$

$3 + \square = 11$

$\square + 6 = 13$

$9 + \square = 18$

$8 + \square = 15$




$\square + \square = 16$

新领程

shù xué yuán dì

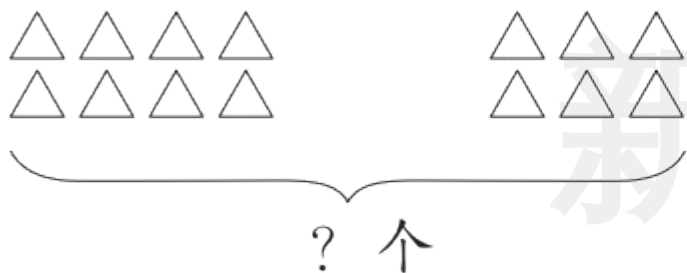
第四关：数学园地。(15☆)

1. 我会填。(6☆)

物品			
原来有	10 个	() 个	() 根
卖出	3 个	8 个	8 根
还剩	() 个	8 个	3 根


2. 看图列式计算。(9☆)

(1)



$$\square \bigcirc \square = \square (\text{个})$$

(2)



$$\square \bigcirc \square = \square (\text{只})$$

(3)



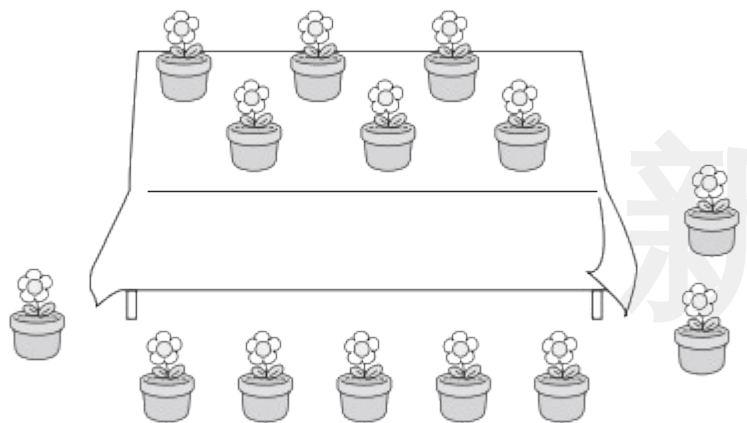
$$\square + \square = \square$$

$$\square + \square = \square$$

shēng huó lè yuán

第五关：生活乐园。（每题4☆，共20☆）

1.




桌子上面有 盆花，下面有 盆

花。一共有多少盆花？

$$\square \bigcirc \square = \square \text{ (盆)}$$

答：一共有 盆花。

2. 取走了 8 件衣服,剩下的和取走了的同样多。原来挂了多少件衣服?




新领程

$$\square \bigcirc \square = \square \text{ (件)}$$

答:原来挂了 件衣服。

3. 一共有多少人？（用两种方法算一算）



方法一： $\square \bigcirc \square = \square$ (人)

方法二： $\square \bigcirc \square = \square$ (人)

答：一共有 \square 人。

4.

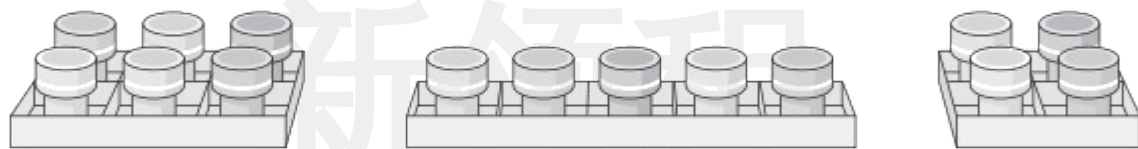
三更灯火五更鸡，
正是男儿读书时。

这两句诗中一共有多少个汉字？

○ = (个)

答：这两句诗中一共有 个汉字。

5. 李阿姨从下面的 3 盒小印章中买 2 盒,她最多可以买多少个小印章?



$$\square \bigcirc \square = \square (\text{个})$$

答:她最多可以买 个小印章。



关注“优翼丛书”小程序

更多优质好课等你来



更多教学资源，敬请关注 www.youyi100.com