

11~20 的认识

第 5 课时 解决问题



一天，月亮湾小学组织了研学活动，老师带着同学们去参观了植物园。



瞧，他们正排队参观呢！



探究新知

“之间”是指两人中间的人数，不包括小悦和小宇。

5 小悦和小宇之间有几人？



阅读理解

小悦排第 **10**，小宇排第 **15**

小悦和小宇之间有几入？

分析解答



我来数一数。



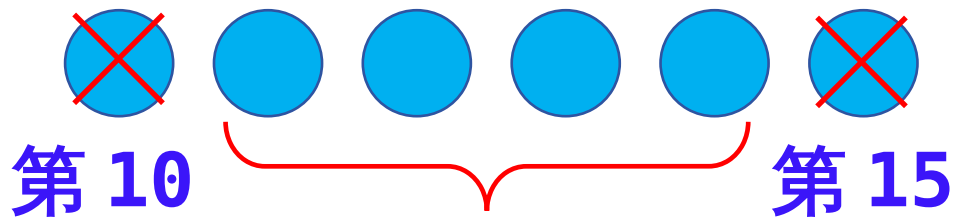
11 12 13 14 中间有 4 人。

、 、 、 、

小悦和小宇之间有几入？



我来画一画。



中间有 4
人



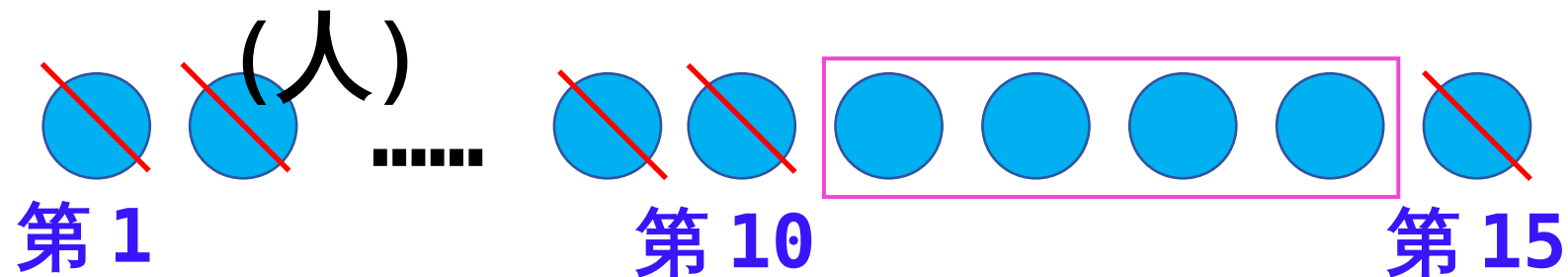
小悦和小宇之间有几儿人？



我用减法计算的。

$$15 - 10 = 5$$

$$5(\text{人}) - 1 = 4$$



回顾反思



解答正确吗？

小悦和小宇之间有几儿人？



小悦排第 10 他们之间有 4 人。

小悦 第 10 第 11 第 12 第 13 第 14 小宇 第 15 解答正确。

小悦和小宇之间有 4 人。



回顾解题的过程，你有什么收获？

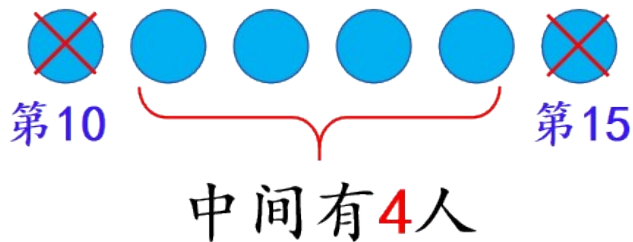


我来数一数。

11、12、13、14，
中间有4人。



我来画一画。

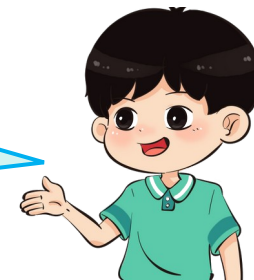


我用减法计算的。

$$15 - 10 = 5 \text{ (人)}$$


$$5 - 1 = 4 \text{ (人)}$$

画图表示更清楚！



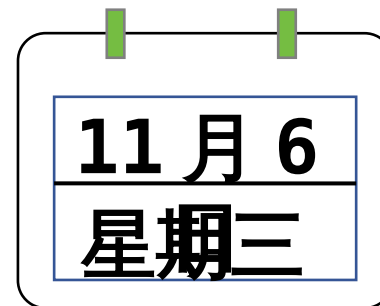

【教材 P83 做一做】

1. 东东和玲玲之间有几儿人？



东东和玲玲之间有 3 人。

2.3 天后是翼翼的生日，翼翼的生日是星期几？




翼翼的生日是星期六。

3. 她这个星期写了多少页？



这个星期我从第 11 页写到了第 15 页，妈妈说下个星期再从第 16 页写起。



她这个星期写了 5 页。

通过这节课的学习，
你有什么收获？



完成《新领程》或《学练优》
本课时的习题。

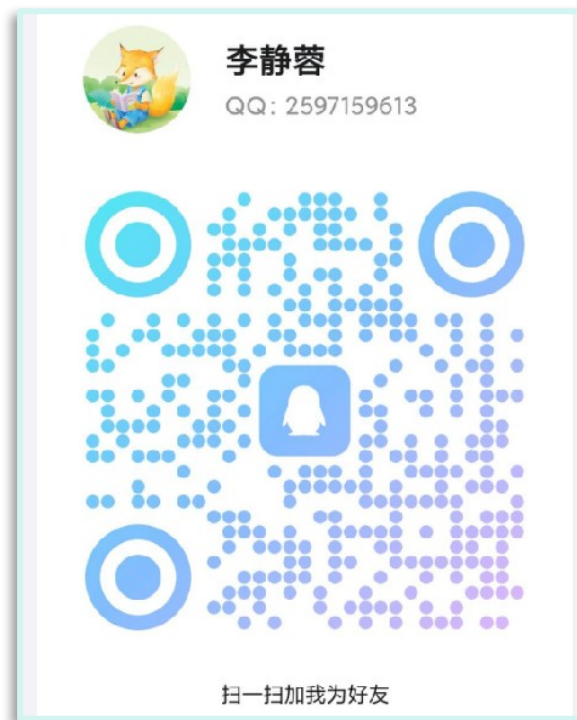


感谢您使用我们的课件！

欢迎各位老师对此课件提出宝贵的建议，我们将更好的为您服务。

如果您有兴趣参与产品内容研发
(课件教案编修、教辅图书编修)

请用 QQ 扫码添加优翼教育产品顾问李老师的 QQ。



学习用优翼 越来越优异

优翼产品与服务
历年中小学生学习人次 **3亿+**

优翼网教学资源
每年服务师生人次 **3000万+**

年举办公益
教研活动场次 **300+**



· 学练优 | 新领程 | 涂重点 | 优翼网 教学资源服务平台

www.youyi100.com



优翼品牌形象代言人

学习用优翼 越来越优异

优翼教学工具书（小学系列）“3+n”选购指南：

教材笔记 1 本、同步练习 1 本、检测试卷 1 本 + 专项提升 n 本

教材笔记：新领程·涂重点 甘橙语文笔记

同步练习：学练优 新领程 学习单（素养导向的大单元作业）

检测试卷：优干线 真题新卷

假期作业：暑假衔接 寒假衔接

小学总复习：极速提分 系统强化训练 小总冲刺卷 全真模拟卷

字帖系列：四步法写字 写字高手 静心字帖……

语文专项：看图写话 同步作文 默写大通关 阅读与积累 五步法作文 情境

化串联古诗词 趣味拼音拼读

数学专项：必考口算应用题 同步口算 口算天天练 模型图解应用题

英语专项：拼读法速记单词 趣味速记音标



优翼品牌代言人

声明

本文件著作权为创作公司所有，仅限于教师教学及其他非商业性和非盈利性用途。如发现盗用、转卖、网络传播等侵权行为，本公司将依法追究其相应法律责任。

部分素材选自网络，如有争议，请联系删改。