

第二单元 6~10 的认识和加、减法

第 1 课时 6 和 7 的加、减法


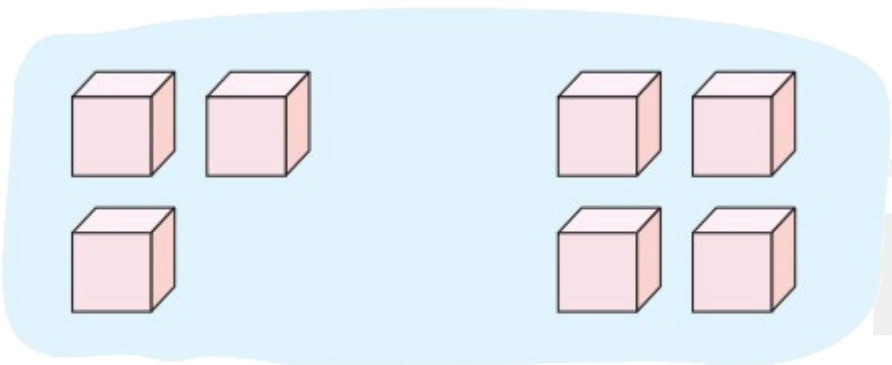
一年级数学上册 (RJ)



新领程同步作业课件

kàn tú tián yì tián

1 看图填一填。



$$\square + \square = \square$$

$$7 - \square = \square$$

$$\square + \square = \square$$

$$\square - \square = \square$$

$$\square + \square = \square$$

$$7 - \square = \square$$

$$\square + \square = \square$$

$$\square - \square = \square$$

wǒ huì suàn

2 我会算。

$3 + 2 = \square$

$6 - 5 = \square$

$2 + 5 = \square$

$5 + 1 = \square$

$7 - 4 = \square$

$1 + 5 = \square$

$7 - 6 = \square$

$7 - 2 = \square$

新领程

kāi liàng chē qù lǚ yóu kě yǐ zěn yàng zuò yòng suàn shì biǎo shì

3 (新情境) 开 2 辆车去旅游, 可以怎样坐? (用算式表示)



每辆车最多乘坐5人。

$$\square \bigcirc \square = \square$$


$$\square \bigcirc \square = \square$$

$$\square \bigcirc \square = \square$$

yào shǐ qiāo qiāo bǎn píng héng

lǐ fēn bié yīng tián jǐ

4 (素养提升) 要使跷跷板平衡, () 里分别应填几?





关注“优翼丛书”小程序

更多优质好课等你来



更多教学资源，敬请关注 www.youyi100.com