

5 以内数的认识和加、减法



1~5 的加、减法

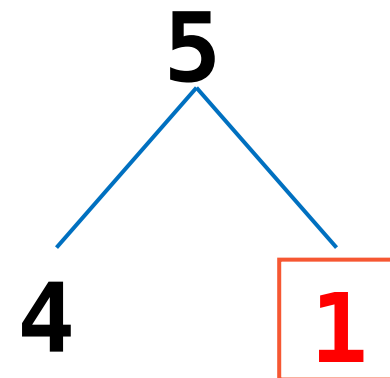
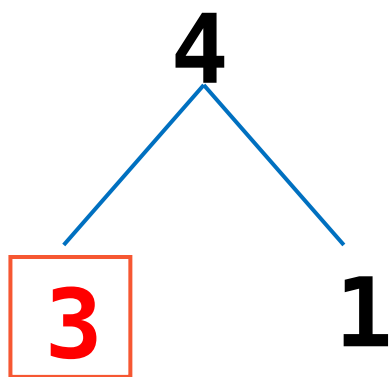
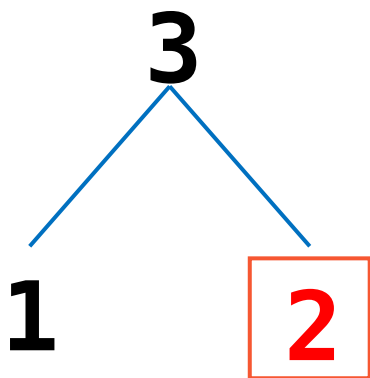
第 2 课时 减法



复习导入

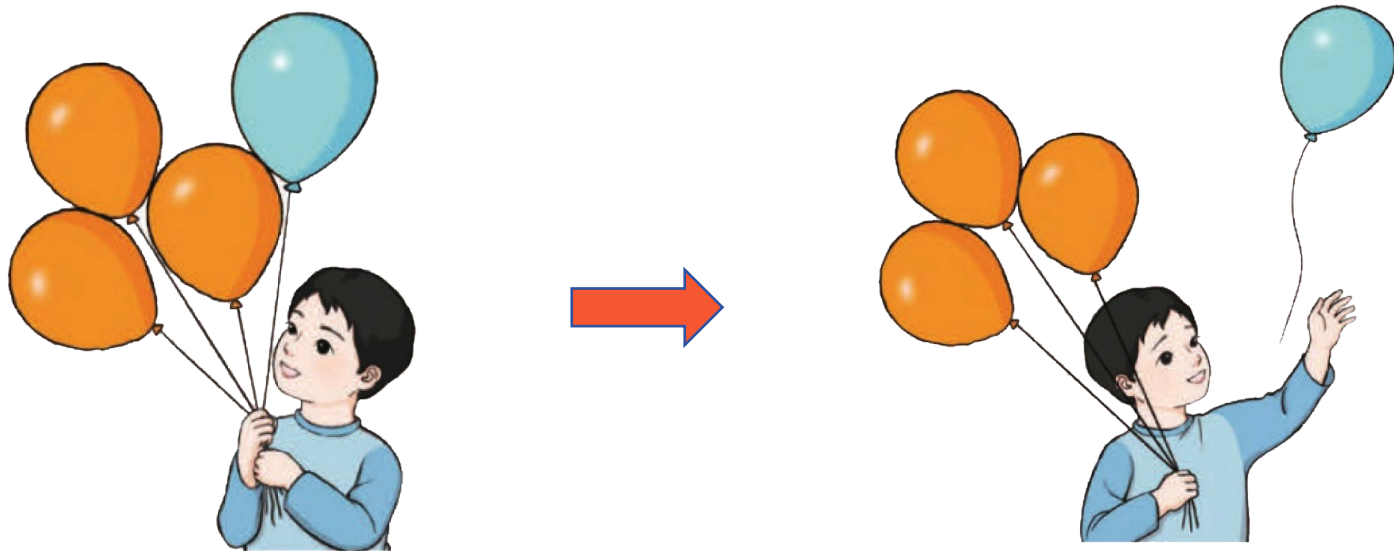


里的数是多少？



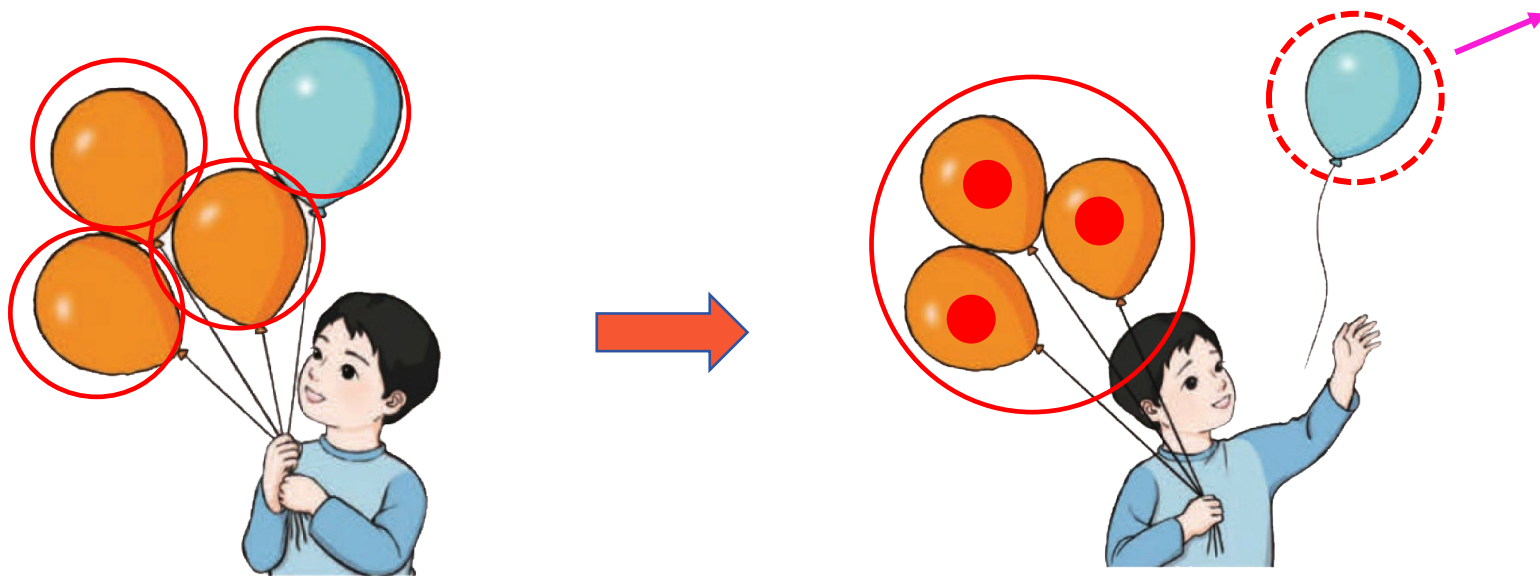
3

小男孩手里原来有 4 个气球，不小心飞走了 1 个。



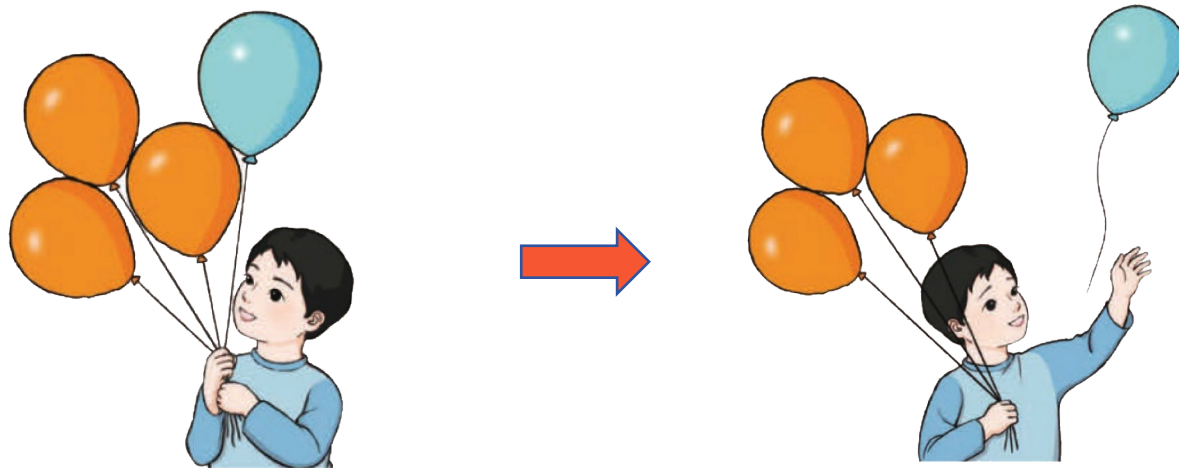
从图中你能知道什么？

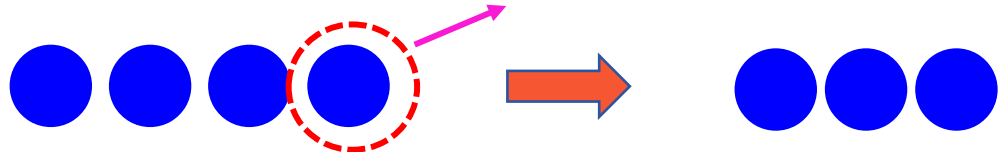
小男孩手里原来有 4 个气球，不小心飞走了 1 个。



从 4 个气球中去掉 1 个，还剩 3 个气球。

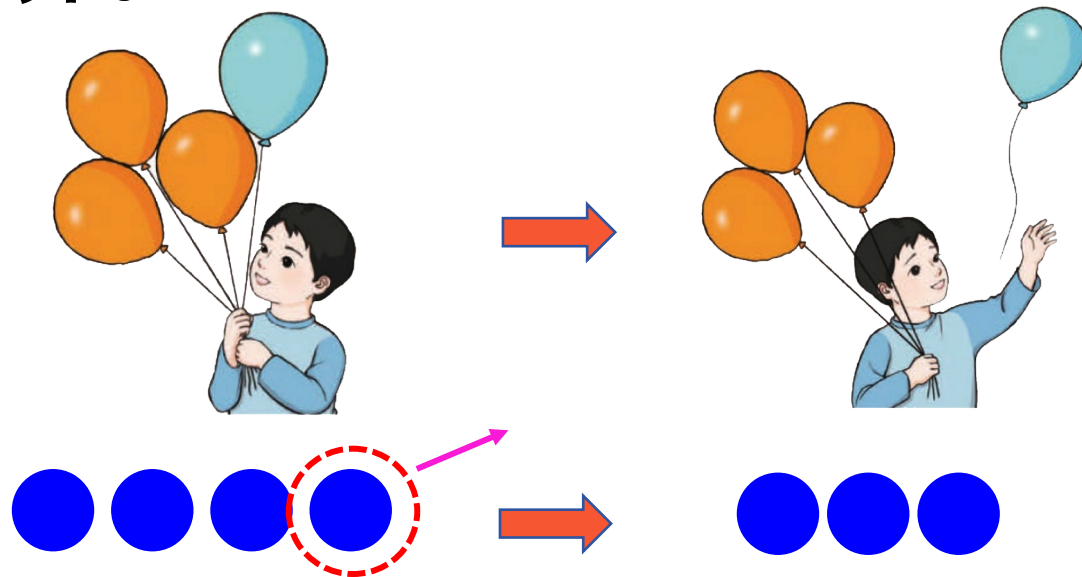
用小圆片摆一摆这个过程，并说一说。



从 4 个气球中去掉 1 个，还剩 3 个气球。


从 4 个圆片中去掉 1 个，还剩 3 个圆片。

从总数里**去掉**（**减去**）一部分，求**还剩**多少，
用**减法**计算。



减法算式： $4 - 1 = 3$ 读作：4 减 1 等于 3


↓

减号

3
“去掉”用“-”表示。

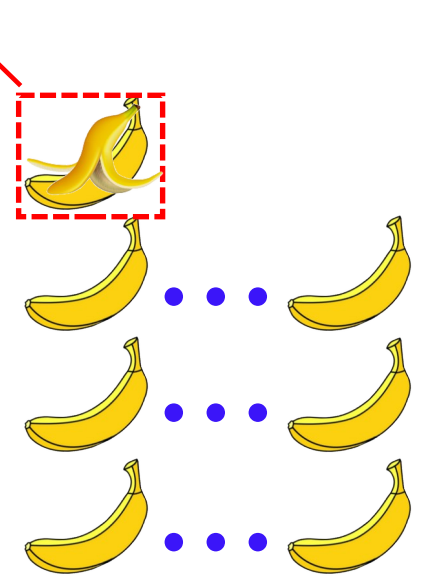


试一试

我有 4 根 ，吃掉 1 根就和花花同样多了。



果果



花花

我有 3 根 。

你能用它们编4对算式1减1看有3道个过程吗？

4

原来有 5 只小松鼠，跑了 3 只。



你能摆出并说数学问题吗？

原来有 5 只小松鼠，跑了 3
只，



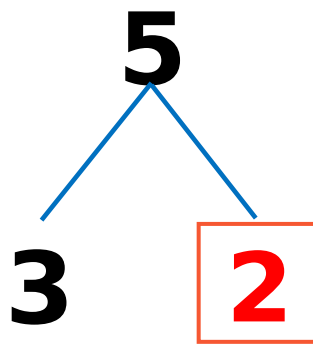
还剩几只小松鼠？

$$\begin{array}{r} 5 \\ 3 \end{array} - = \square$$

$$\begin{array}{r} 5 \\ - 3 \\ \hline \end{array} = \boxed{2}$$



从5倒着数，5、4、3，还剩2只。



【教材 P27
T1】

1. 看图说一说算式表示的意思。



$$\begin{aligned} 5 - 1 \\ = 4 \end{aligned}$$



$$\begin{aligned} 4 - 2 \\ = 2 \end{aligned}$$

【教材 P27
T2】

2. 画一画，填一填。



$$4 - 1 = \boxed{3}$$



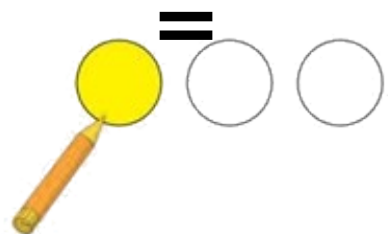
$$4 - \boxed{2} = \boxed{2}$$

$$4 - 3 = 1$$

【教材 P27
T3】

3. 涂一涂，填一填。

$$3 - 1 = \boxed{2}$$



$$4 - 1 = \boxed{3}$$



$$5 - 2 = \boxed{3}$$



通过这节课的学习，你有什么收获？

1. 从总数里**去掉**（**减去**）一部分，求**还剩**多少，用**减法**计算。
2. 5以内数的减法可以用**倒着数**、**数的组成**来计算。



完成《新领程》或《学练优》
本课时的习题。

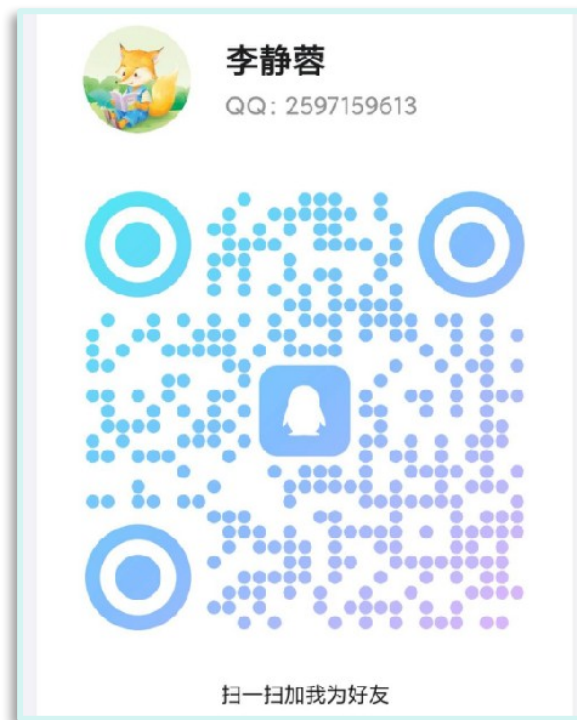


感谢您使用我们的课件！

欢迎各位老师对此课件提出宝贵的建议，我们将更好的为您服务。

如果您有兴趣参与产品内容研发
(课件教案编修、教辅图书编修)

请用 QQ 扫码添加优翼教育产品顾问李老师的 QQ。



学习用优翼 越来越优异

优翼产品与服务
历年中小学生学习人次 **3亿+**

优翼网教学资源
每年服务师生人次 **3000万+**

年举办公益
教研活动场次 **300+**

优翼 · 学练优 | 新领程 | 涂重点 | 优翼网 教学资源服务平台
www.youyi100.com



优翼品牌形象代言人

学习用优翼 越来越优异

优翼教学工具书（小学系列）“3+n”选购指南：

教材笔记 1 本、同步练习 1 本、检测试卷 1 本 + 专项提升 n 本

教材笔记：新领程·涂重点 甘橙语文笔记

同步练习：学练优 新领程 学习单（素养导向的大单元作业）

检测试卷：优干线 真题新卷

假期作业：暑假衔接 寒假衔接

小学总复习：极速提分 系统强化训练 小总冲刺卷 全真模拟卷

字帖系列：四步法写字 写字高手 静心字帖……

语文专项：看图写话 同步作文 默写大通关 阅读与积累 五步法作文 情境

化串联古诗词 趣味拼音拼读

数学专项：必考口算应用题 同步口算 口算天天练 模型图解应用题

英语专项：拼读法速记单词 趣味速记音标



优翼品牌代言人

声明

本文件著作权为创作公司所有，仅限于教师教学及其他非商业性和非盈利性用途。如发现盗用、转卖、网络传播等侵权行为，本公司将依法追究其相应法律责任。

部分素材选自网络，如有争议，请联系删改。